



สมัคร

พินิจข้อสอบ

ป.5

สังคมศึกษา

- แนวข้อสอบ NT&ONET ชั้น ป.5
- แนวข้อสอบ เข้าเรียนต่อชั้น ป.6 ครอบคลุมประเภท
 - ของหลักสูตรปกติ
 - ของหลักสูตร EP&GIFTED
 - และ หลักสูตรพิเศษอื่นๆ



พิเศษ เมื่อซื้อหนังสือเล่มนี้ จะได้รับสิทธิ์เข้าใช้งาน
“คลังโจทย์ออนไลน์ ของบัณฑิตแนะแนว” ฟรี 1 เดือน

สิทธิพิเศษ
สำหรับผู้ซื้อ

คัมภีร์พิชิตข้อสอบ ป.5 วิชาสังคมศึกษา

หนังสือ “ชุดคัมภีร์” เป็นคู่มือเตรียมสอบแนวใหม่ที่บัณฑิตแนะแนวเพิ่งจัดทำขึ้นล่าสุด โดยในแต่ละวิชาได้จัดพิมพ์แยกเป็น 3 เล่ม ตามลักษณะพิเศษ และจุดเน้นที่ต่างกันดังนี้

- **คัมภีร์สรุปเนื้อหา** เป็นหนังสือที่ปรับปรุงมาจาก “ชุด TOP” เหมาะสำหรับนักเรียนที่ต้องการอ่านปูพื้นฐานทำความเข้าใจเนื้อหา เรียงตามบทเรียนของหลักสูตรอย่างละเอียด-ครบถ้วน (หนาประมาณ 240 หน้า ราคา 159 บาท/เล่ม) ผู้ซื้อจะได้รับสิทธิเข้าดู “คลิปวิดีโอการสอนออนไลน์คอร์สสรุปเนื้อหา” ฟรี 1 เดือน

- **คัมภีร์ตะลุยโจทย์** เป็นหนังสือที่เหมาะสมสำหรับใช้ทบทวนความรู้ และพัฒนาความเป็นเลิศในแต่ละวิชา เพราะในเล่มประกอบด้วย สรุปเนื้อหาสำคัญ และตัวอย่างโจทย์ของแต่ละบทเรียนจากง่ายไปหายาก เพื่อใช้ฝึกฝนหาประสบการณ์ (หนาประมาณ 240 หน้า ราคา 159 บาท/เล่ม) ผู้ซื้อจะได้รับสิทธิเข้าดู “คลิปวิดีโอการสอนออนไลน์คอร์สตะลุยโจทย์” ฟรี 1 เดือน

- **คัมภีร์พิชิตข้อสอบ** เป็นหนังสือรวมแนวข้อสอบจริงพร้อมเฉลยละเอียด ของสถาบันชั้นนำทั่วประเทศ ทั้งการสอบ NT-ONET, การสอบวัดผลของสถานศึกษา และการสอบคัดเลือกเข้าเรียนต่อ เพื่อให้นักเรียนรู้แนวและใช้ทดสอบตัวเองก่อนลงสนามจริง (หนาประมาณ 240 หน้า ราคา 159 บาท/เล่ม) ผู้ซื้อจะได้รับสิทธิใช้งาน “คลังโจทย์ออนไลน์ของบัณฑิตแนะแนว” ฟรี 1 เดือน

ผู้ซื้อหนังสือเล่มนี้สามารถนำรหัสลงทะเบียน (12 หลัก) หมายเลข “ตามที่ระบุในหนังสือแต่ละเล่ม” ไปลงทะเบียนผ่านระบบอินเทอร์เน็ตที่ www.bnn.co.th ใช้งานได้ “คลังโจทย์ออนไลน์ของบัณฑิตแนะแนว ในวิชาสังคมศึกษา ป.5” ได้ฟรี 1 เดือน (นับจากวันลงทะเบียน ตามที่ระบุในหนังสือแต่ละเล่ม)

อนึ่ง หากท่านใช้บริการออนไลน์ที่ได้รับฟรีครบ 1 เดือนแล้ว ต้องการใช้สิทธิ “ดูคลิปวิดีโอการสอนออนไลน์” และ/หรือ “ใช้งานคลังโจทย์ออนไลน์” เพิ่มเป็นตลอดระยะเวลา 1 ปี สามารถแยกซื้อบริการออนไลน์แต่ละอย่างเพิ่มได้ในราคาพิเศษ (ตามโปรโมชั่นที่ระบุในหนังสือแต่ละเล่ม) โดยโทรศัพท์ไปที่ 02-2794808 แล้วแจ้งชื่อ-นามสกุล และเลขประจำตัวบัตรประชาชน (13 หลัก) พร้อมโอนเงินค่าบริการ

วิธีใช้บริการออนไลน์ของบัณฑิตแนะแนว ผ่านระบบอินเทอร์เน็ต

1 เข้าเว็บไซต์ www.bnn.co.th แล้วเลื่อนหน้าจอไปที่



กดปุ่ม “คลิกที่นี่” เพื่อเข้าสู่เมนูหลักของการใช้ระบบออนไลน์

2 กดปุ่ม “ใช้งานออนไลน์ ที่นี่” แล้วกดเลือก “ลงทะเบียนก่อนใช้งานครั้งแรก” (วงกลมสีเหลือง) นำ “รหัสลงทะเบียน (12 หลัก)” ที่ได้รับ กรอกลงในช่องให้ถูกต้อง แล้วกดปุ่มเพื่อเข้าไปลงทะเบียน



3 เมื่อพบหน้า “กรอกข้อมูลเพื่อลงทะเบียนก่อนใช้งาน” ให้ป้อนข้อมูลส่วนตัว เช่น ชื่อ-นามสกุล, โรงเรียน, ที่อยู่, โทรศัพท์, เลขบัตรประชาชน (13 หลัก) และ ตั้ง “รหัสผ่าน” ใหม่ให้ครบถ้วน แล้วกด “ยืนยันข้อมูล”

4 เมื่อลงทะเบียนก่อนใช้งานแล้ว หากต้องการจะใช้งาน “ระบบออนไลน์ (ดูคลิปวิดีโอ-ใช้คลังโจทย์ ฯลฯ)” ต้องกดเลือก “ใช้งานออนไลน์” (วงกลมสีเขียว) แล้วนำ “เลขบัตรประชาชน (13 หลัก) และ รหัสผ่าน” (ที่ตั้งใหม่) มาป้อนเพื่อล็อกอินก่อนใช้งานระบบออนไลน์ทุกครั้ง





ชุดเรียนรู้อัจฉริยะ

สะดวก ครบถ้วน คุ่มค่า

1. สะดวก เพราะสามารถใช้ “ชุดเรียนรู้อัจฉริยะ” รูปแบบใหม่ของบัณฑิตแนะแนว ได้ทุกที่ทุกเวลา ไม่ต้องเสียเวลาเดินทาง ไม่ว่าจะเป็นที่โรงเรียน, ที่บ้าน หรือที่ไหนๆ ก็ตาม และหากมีอุปกรณ์ที่สามารถเชื่อมต่อกับ Internet เช่น คอมพิวเตอร์, แท็บเล็ต หรือ สมาร์ทโฟน ก็สามารถใช้บริการออนไลน์เพิ่มเติมได้

2. ครบถ้วน ด้วยสุดยอดเครื่องมือ และสื่อการเรียน-การสอน ที่สมบูรณ์ครบทั้ง 4 อย่าง คือ

2.1 หนังสือชุดคัมภีร์ เป็นคู่มือประกอบการเรียนชุดใหม่ล่าสุดสำหรับใช้อ่านทบทวน-พัฒนาความรู้ เพื่อความเป็นเลิศในแต่ละวิชา และความสำเร็จในการสอบ โดยแต่ละวิชาจัดพิมพ์แยกเป็น 3 เล่ม ตามลักษณะพิเศษ และจุดเน้นที่ต่างกัน ดังนี้

- หนังสือคัมภีร์สรุปเนื้อหา ของวิชา/ชั้นนั้นๆ
- หนังสือคัมภีร์ตะลุยโจทย์ ของวิชา/ชั้นนั้นๆ
- หนังสือคัมภีร์พิชิตข้อสอบ ของวิชา/ชั้นนั้นๆ



2.2 สื่อบันทึกการสอน เป็นคลิปวิดีโอการสอนออนไลน์ คุณภาพระดับ 5 ดาว (ทั้งภาพ-เสียง-เนื้อหา) จากทีมอาจารย์ผู้เชี่ยวชาญในแต่ละวิชา โดยจัดทำแยกเป็น 2 คอร์ส กล่าวคือ



- **คอร์สสรุปเนื้อหา (วิชาละ ~30 ชั่วโมง)** จะมุ่งสอนอธิบายทำความเข้าใจเนื้อหาเรียงตามบทเรียนในแต่ละเรื่องของหลักสูตรอย่างละเอียดครบถ้วน
- **คอร์สตะลุยโจทย์ (วิชาละ ~30 ชั่วโมง)** จะสอนโดยเน้นการนำโจทย์สำคัญๆ ของแต่ละบทเรียน มาให้ฝึกฝน และอธิบายเพื่อให้นักเรียนเข้าใจเรื่องนั้นๆ ได้อย่างลึกซึ้งยิ่งขึ้น

2.3 คลังโจทย์ออนไลน์ของบัณฑิตแนะแนว ที่รวมโจทย์การบ้านท้ายบทเรียน และแบบทดสอบชนิดต่างๆ เพิ่มเติมจากในหนังสืออีกมากมาย สำหรับใช้ทบทวนความรู้ และใช้ทดสอบตัวเองเพื่อเตรียมความพร้อมก่อนสอบจริงได้ตลอดปี ทั้งการเตรียมสอบกลางภาค, สอบปลายภาค, สอบ ONET และการสอบเข้าเรียนต่อ ซึ่งจะช่วยให้นักเรียนได้รับประสบการณ์ในการทำโจทย์-ใช้วัดความรู้ จนประสบความสำเร็จในการสอบทุกสนาม

2.4 บริการด้านแนะแนวออนไลน์ตลอดปี ซึ่งจะช่วยให้ผู้ปกครองและนักเรียนรู้ข้อมูล พร้อมแนวทางในการเตรียมตัว เพื่อศึกษาต่อและประกอบอาชีพได้อย่างถูกต้อง-เหมาะสมกับตัวเอง

3. คุ่มค่า เพราะสามารถเลือกใช้สื่อและบริการออนไลน์แต่ละประเภทได้ตามความต้องการ **ในราคาประหยัดสุดๆ** โดยจะใช้ครบทั้ง 4 อย่าง เพื่อรับประโยชน์สูงสุด หรือจะแยกซื้อเฉพาะหนังสือชุดคัมภีร์ (สรุปเนื้อหา-ตะลุยโจทย์-พิชิตข้อสอบ) เล่มใดเล่มหนึ่ง หรือจะซื้อเฉพาะสิทธิดูคลิปวิดีโอการสอนออนไลน์ (คอร์สสรุปเนื้อหา-คอร์สตะลุยโจทย์) ของแต่ละคอร์ส หรือจะซื้อเฉพาะสิทธิใช้คลังโจทย์ออนไลน์ ตามที่สนใจ-งบประมาณของแต่ละคนได้

- ชุดเรียนรู้อัจฉริยะระดับชั้น **ป.4-ม.2** (จัดทำแยกเป็น 5 ชั้น คือ ป.4, ป.5, ป.6, ม.1 และ ม.2) แต่ละชั้นมี 5 วิชา ดังนี้ คณิตศาสตร์, ภาษาอังกฤษ, ภาษาไทย, สังคมศึกษาฯ และวิทยาศาสตร์
- ชุดเรียนรู้อัจฉริยะระดับชั้น **ม.3-ม.5** (จัดทำแยกเป็น 3 ชั้น คือ ม.3, ม.4 และ ม.5) แต่ละชั้นมี 7 วิชา ดังนี้ คณิตศาสตร์, ภาษาอังกฤษ, ภาษาไทย, สังคมศึกษาฯ, ฟิสิกส์, เคมี และชีววิทยา
- ชุดเรียนรู้อัจฉริยะระดับชั้น **ม.6** มี 8 วิชา ดังนี้ คณิตศาสตร์, ภาษาอังกฤษ, ภาษาไทย, สังคมศึกษาฯ, ฟิสิกส์, เคมี, ชีววิทยา และ GAT





คำนำ

การสร้างองค์ความรู้เพื่อให้ผู้เรียนมีทักษะพื้นฐานในแต่ละเนื้อหาวิชา และสามารถนำไปปรับใช้ในการแก้ปัญหาของการสอบในทุกๆระดับ เช่น การสอบวัดผลของสถานศึกษา, การสอบ ONET/LAS/NT, การสอบคัดเลือกเข้าเรียนต่อ รวมถึงการสอบแข่งขันเพื่อวัดความเป็นเลิศหรือชิงทุนการศึกษา จำเป็นต้องอาศัยสื่อการเรียน-การสอนที่ครบถ้วน และมีคุณภาพเพียงพอ สำนักงานบัณฑิตแนะแนวจึงได้ผลิต “ชุดเรียนรู้อัจฉริยะ” เพื่อตอบสนองวัตถุประสงค์ข้างต้น โดยภายในชุดเรียนรู้แต่ละวิชาจะมียังประกอบด้วย 3 ประการ คือ 1. หนังสือชุดคัมภีร์ เป็นตำราสำหรับใช้ศึกษาและทบทวนความรู้ด้วยตนเอง, 2. สื่อบันทึกการสอน เป็นคลิปวิดีโอออนไลน์โดยคุณอาจารย์ผู้เชี่ยวชาญในแต่ละวิชาที่สอนให้เข้าใจบทเรียนอย่างละเอียด ลึกซึ้ง และน่าติดตาม, 3. คลังโจทย์ออนไลน์ สำหรับใช้ทดสอบและวัดผลความรู้เพื่อประเมินศักยภาพของผู้เรียนได้ตลอดเวลา โดยจัดทำชุดเรียนรู้ดังกล่าวแยกเป็น 3 ส่วน ดังนี้

- หนังสือ “คัมภีร์สรุปเนื้อหา” ซึ่งสามารถใช้ควบคู่กับ “คลิปวิดีโอการสอนออนไลน์คอร์สสรุปเนื้อหา”
- หนังสือ “คัมภีร์ตะลุยโจทย์” ซึ่งสามารถใช้ควบคู่กับ “คลิปวิดีโอการสอนออนไลน์คอร์สตะลุยโจทย์”
- หนังสือ “คัมภีร์พิชิตข้อสอบ” ซึ่งสามารถใช้ควบคู่กับ “คลังโจทย์ออนไลน์” ของบัณฑิตแนะแนว

ทั้งนี้ ผู้เรียนสามารถเลือกใช้เฉพาะหนังสือเล่มใดเล่มหนึ่งตามที่ต้องการ หรือจะใช้บริการออนไลน์ประเภท “คลิปวิดีโอการสอน” หรือ “คลังโจทย์ออนไลน์” เพิ่มควบคู่ไปด้วยเพื่อความครบถ้วนสมบูรณ์ยิ่งขึ้นก็ได้

สำหรับ “คัมภีร์พิชิตข้อสอบ” เล่มนี้ เป็นหนังสือคู่มือเตรียมสอบแนวใหม่ ที่รวบรวมแนวข้อสอบ NT-ONET, ข้อสอบปลายปี และข้อสอบคัดเลือกเข้าเรียนต่อจริง ของสถาบันชั้นนำทั่วประเทศ ทั้งในหลักสูตรปกติ และหลักสูตร EP & GIFTED อย่างครบถ้วน พร้อมเฉลยละเอียด เหมาะสำหรับการฝึกทำเพื่อทบทวนความรู้ในแต่ละวิชา และทดสอบตัวเองก่อนการสอบจริงจะมาถึง ซึ่งหากลงทะเบียนเข้าใช้งาน “คลังโจทย์ออนไลน์” เพิ่มก็จะทำให้ได้รับประโยชน์ยิ่งขึ้นและช่วยให้ประสบความสำเร็จในการพิชิตข้อสอบในที่สุด อนึ่งเมื่อท่านใช้บริการแล้วพบข้อบกพร่องหรือมีข้อเสนอแนะประการใด โปรดแจ้งให้ทราบด้วย เพื่อจะได้ปรับปรุงให้ดียิ่งขึ้นในโอกาสต่อไป

สำนักงานบัณฑิตแนะแนว

คัมภีร์พิชิตข้อสอบ ป.5 วิชาสังคมศึกษาฯ

กองบรรณาธิการ : ไพจิตร ศุภพิมล สิทธิชัย นิยมสิทธิ์ วิภาพร ประมวล นันทปภัสร โปกุล
เพียว ชาวบ้านช่อง สุจิตตา ไชยจันลา เพชรไพลิน รอดนาค ประไพพร ไข่มวง
วุฒิกัทร จันทรนาค ธีรยุทธ พงษ์ศิริรัตน์ ปรีดาวรรณ ชลชีพ ภัทรพล รอดนาค

เจ้าของ : สำนักงานบัณฑิตแนะแนว โทรศัพท์ 02-2794808 แฟกซ์ 02-6171820
เลขที่ 1033/4 ถนนพหลโยธิน แขวงสามเสนใน เขตพญาไท กทม. 10400

พิมพ์ที่ : ห้างหุ้นส่วนจำกัดรุ่งเรืองสาส์นการพิมพ์

เลขที่ 195/6 หมู่ 5 ซอยพุทธบูชา 44 แขวงบางมด เขตทุ่งครุ กทม. 10140 โทรศัพท์ 02-8706301-3

สงวนลิขสิทธิ์ตามพระราชบัญญัติลิขสิทธิ์ (ฉบับเพิ่มเติม) พ.ศ. 2558 : ห้ามลอกเลียน คัดลอก จัดพิมพ์ หรือทำซ้ำ
ไม่ว่าส่วนใดส่วนหนึ่งของหนังสือเล่มนี้ก่อนได้รับอนุญาตเป็นลายลักษณ์อักษร



สารบัญ

ส่วนที่ 1 : แนวข้อสอบ NT&ONET ชั้น ป.5

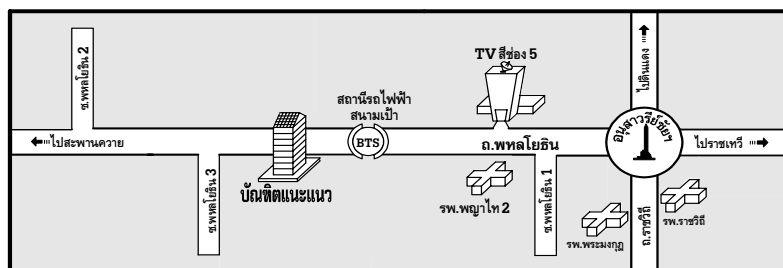
- วิชาสังคมศึกษาฯ (ชุดที่ 1) แนวข้อสอบ NT & ONET ชั้น ป.5	3
- วิชาสังคมศึกษาฯ (ชุดที่ 2) แนวข้อสอบ NT & ONET ชั้น ป.5.....	9
- วิชาสังคมศึกษาฯ (ชุดที่ 3) แนวข้อสอบ NT & ONET ชั้น ป.5.....	13
- วิชาสังคมศึกษาฯ (ชุดที่ 4) แนวข้อสอบ NT & ONET ชั้น ป.5.....	17
- วิชาสังคมศึกษาฯ (ชุดที่ 5) แนวข้อสอบ NT & ONET ชั้น ป.5.....	21
- วิชาสังคมศึกษาฯ (ชุดที่ 6) แนวข้อสอบ NT & ONET ชั้น ป.5.....	25

ส่วนที่ 2 : แนวข้อสอบปลายปีเพื่อเรียนต่อ ชั้น ป.6 ของโรงเรียนชั้นนำ

- วิชาสังคมศึกษาฯ (ชุดที่ 7) แนวข้อสอบของหลักสูตรปกติ	29
- วิชาสังคมศึกษาฯ (ชุดที่ 8) แนวข้อสอบของหลักสูตรปกติ	35
- วิชาสังคมศึกษาฯ (ชุดที่ 9) แนวข้อสอบของหลักสูตรปกติ	43
- วิชาสังคมศึกษาฯ (ชุดที่ 10) แนวข้อสอบของหลักสูตรปกติ.....	51
- วิชาสังคมศึกษาฯ (ชุดที่ 11) แนวข้อสอบของหลักสูตรปกติ	59
- วิชาสังคมศึกษาฯ (ชุดที่ 12) แนวข้อสอบของหลักสูตรปกติ.....	65
- วิชาสังคมศึกษาฯ (ชุดที่ 13) แนวข้อสอบของหลักสูตร EP&GIFTED และ พิเศษอื่นๆ	73
- วิชาสังคมศึกษาฯ (ชุดที่ 14) แนวข้อสอบของหลักสูตร EP&GIFTED และ พิเศษอื่นๆ	81
- วิชาสังคมศึกษาฯ (ชุดที่ 15) แนวข้อสอบของหลักสูตร EP&GIFTED และ พิเศษอื่นๆ	95

ส่วนที่ 3 : เฉลยแนวข้อสอบ

- เฉลยแนวข้อสอบ NT & ONET ชั้น ป.5	112
- เฉลยแนวข้อสอบปลายปีเพื่อเรียนต่อ ชั้น ป.6 ของโรงเรียนชั้นนำ	141



สำนักงานบัณฑิตแนะแนว 1033/4 อ.พหลโยธิน สามเสนใน พญาไท กทม. 10400

เวลาทำงาน 08.00-17.00 น. Website : www.bunditnaeaw.com

ฝ่ายประชาสัมพันธ์ เปิดทุกวัน (จันทร์-อาทิตย์) โทรศัพท์ 02-2794808 แฟกซ์ 02-6171820

ฝ่ายประสานงานโรงเรียน-ร้านค้า เปิดเฉพาะวันจันทร์-วันศุกร์ โทรศัพท์ 02-2794433 แฟกซ์ 02-2796611



วิชา สังคมศึกษาฯ (ชุดที่ 1)

แนวข้อสอบเสริมประสบการณ์ระดับประถมศึกษา

เพื่อเตรียมสอบ NT&ONET ชั้น P.5

ชื่อ-นามสกุล..... เลขที่นั่งสอบ.....

สถานที่สอบ..... ห้องสอบ.....

คำอธิบาย

1. ข้อสอบชุดนี้ มีจำนวน 20 ข้อ คะแนนเต็ม 25 คะแนน ให้เวลาทำ 20 นาที
2. ในการทำข้อสอบ ให้เลือกคำตอบที่ถูกต้องหรือเหมาะสมที่สุด เพียงคำตอบเดียว กรณีข้อใดไม่มีตัวเลือกที่ถูกต้องให้ตอบตัวเลือกที่ 5) แทน
3. นักเรียนจะต้องพยายามทำข้อสอบและจับเวลาเหมือนกับการสอบแข่งขันจริง ห้ามใช้เวลาสอบเกินที่กำหนดและห้ามเปิดตำราดู หรือนำอุปกรณ์ช่วยในการคิดคำนวณมาใช้เด็ดขาด ทั้งนี้เพื่อประโยชน์ในการทดสอบวัดความรู้ของตัวนักเรียนเอง (อาจให้ผู้ปกครองช่วยควบคุมการสอบ หรืออาจใช้นาฬิกาปลุกตั้งเวลาก็ได้) เมื่อหมดเวลาสอบ ให้ตรวจคะแนนจากส่วนเฉลย เรื่องใดทำไม่ได้หรือทำผิดให้กลับไปอ่านหนังสือทบทวนใหม่

ข้อสอบชุดนี้จัดทำขึ้นโดยรวบรวม-ปรับปรุงมาจาก “คลังข้อสอบระดับประถมศึกษา 10 ปีล่าสุด” ของบัณฑิตแนะแนว ซึ่งเคยผ่านการใช้ทดสอบนักเรียนทั่วประเทศกว่า 50,000 คน มาแล้ว จึงเหมาะที่จะใช้ทบทวนความรู้และวัดผลตนเอง เพื่อพัฒนาความเป็นเลิศในแต่ละวิชาและเตรียมสอบแข่งขันในทุกสนาม



กระดาษคำตอบ

วิชา..... ชุดที่.....

ผลการสอบ

ทำได้ _____ คะแนน

- | | | | | | |
|-----|---|---|---|---|---|
| 1 | ① | ② | ③ | ④ | ⑤ |
| 2 | ① | ② | ③ | ④ | ⑤ |
| 3 | ① | ② | ③ | ④ | ⑤ |
| 4 | ① | ② | ③ | ④ | ⑤ |
| 5 | ① | ② | ③ | ④ | ⑤ |
| 6 | ① | ② | ③ | ④ | ⑤ |
| 7 | ① | ② | ③ | ④ | ⑤ |
| 8 | ① | ② | ③ | ④ | ⑤ |
| 9 | ① | ② | ③ | ④ | ⑤ |
| 10 | ① | ② | ③ | ④ | ⑤ |
| 11 | ① | ② | ③ | ④ | ⑤ |
| 12 | ① | ② | ③ | ④ | ⑤ |
| 13 | ① | ② | ③ | ④ | ⑤ |
| 14 | ① | ② | ③ | ④ | ⑤ |
| 15 | ① | ② | ③ | ④ | ⑤ |
| 16 | ① | ② | ③ | ④ | ⑤ |
| 17 | ① | ② | ③ | ④ | ⑤ |
| 18 | ① | ② | ③ | ④ | ⑤ |
| 19 | ① | ② | ③ | ④ | ⑤ |
| 20 | ① | ② | ③ | ④ | ⑤ |
| 21 | ① | ② | ③ | ④ | ⑤ |
| 22 | ① | ② | ③ | ④ | ⑤ |
| 23 | ① | ② | ③ | ④ | ⑤ |
| 24 | ① | ② | ③ | ④ | ⑤ |
| 25 | ① | ② | ③ | ④ | ⑤ |
| 26 | ① | ② | ③ | ④ | ⑤ |
| 27 | ① | ② | ③ | ④ | ⑤ |
| 28 | ① | ② | ③ | ④ | ⑤ |
| 29 | ① | ② | ③ | ④ | ⑤ |
| 30 | ① | ② | ③ | ④ | ⑤ |
| 31 | ① | ② | ③ | ④ | ⑤ |
| 32 | ① | ② | ③ | ④ | ⑤ |
| 33 | ① | ② | ③ | ④ | ⑤ |
| 34 | ① | ② | ③ | ④ | ⑤ |
| 35 | ① | ② | ③ | ④ | ⑤ |
| 36 | ① | ② | ③ | ④ | ⑤ |
| 37 | ① | ② | ③ | ④ | ⑤ |
| 38 | ① | ② | ③ | ④ | ⑤ |
| 39 | ① | ② | ③ | ④ | ⑤ |
| 40 | ① | ② | ③ | ④ | ⑤ |
| 41 | ① | ② | ③ | ④ | ⑤ |
| 42 | ① | ② | ③ | ④ | ⑤ |
| 43 | ① | ② | ③ | ④ | ⑤ |
| 44 | ① | ② | ③ | ④ | ⑤ |
| 45 | ① | ② | ③ | ④ | ⑤ |
| 46 | ① | ② | ③ | ④ | ⑤ |
| 47 | ① | ② | ③ | ④ | ⑤ |
| 48 | ① | ② | ③ | ④ | ⑤ |
| 49 | ① | ② | ③ | ④ | ⑤ |
| 50 | ① | ② | ③ | ④ | ⑤ |
| 51 | ① | ② | ③ | ④ | ⑤ |
| 52 | ① | ② | ③ | ④ | ⑤ |
| 53 | ① | ② | ③ | ④ | ⑤ |
| 54 | ① | ② | ③ | ④ | ⑤ |
| 55 | ① | ② | ③ | ④ | ⑤ |
| 56 | ① | ② | ③ | ④ | ⑤ |
| 57 | ① | ② | ③ | ④ | ⑤ |
| 58 | ① | ② | ③ | ④ | ⑤ |
| 59 | ① | ② | ③ | ④ | ⑤ |
| 60 | ① | ② | ③ | ④ | ⑤ |
| 61 | ① | ② | ③ | ④ | ⑤ |
| 62 | ① | ② | ③ | ④ | ⑤ |
| 63 | ① | ② | ③ | ④ | ⑤ |
| 64 | ① | ② | ③ | ④ | ⑤ |
| 65 | ① | ② | ③ | ④ | ⑤ |
| 66 | ① | ② | ③ | ④ | ⑤ |
| 67 | ① | ② | ③ | ④ | ⑤ |
| 68 | ① | ② | ③ | ④ | ⑤ |
| 69 | ① | ② | ③ | ④ | ⑤ |
| 70 | ① | ② | ③ | ④ | ⑤ |
| 71 | ① | ② | ③ | ④ | ⑤ |
| 72 | ① | ② | ③ | ④ | ⑤ |
| 73 | ① | ② | ③ | ④ | ⑤ |
| 74 | ① | ② | ③ | ④ | ⑤ |
| 75 | ① | ② | ③ | ④ | ⑤ |
| 76 | ① | ② | ③ | ④ | ⑤ |
| 77 | ① | ② | ③ | ④ | ⑤ |
| 78 | ① | ② | ③ | ④ | ⑤ |
| 79 | ① | ② | ③ | ④ | ⑤ |
| 80 | ① | ② | ③ | ④ | ⑤ |
| 81 | ① | ② | ③ | ④ | ⑤ |
| 82 | ① | ② | ③ | ④ | ⑤ |
| 83 | ① | ② | ③ | ④ | ⑤ |
| 84 | ① | ② | ③ | ④ | ⑤ |
| 85 | ① | ② | ③ | ④ | ⑤ |
| 86 | ① | ② | ③ | ④ | ⑤ |
| 87 | ① | ② | ③ | ④ | ⑤ |
| 88 | ① | ② | ③ | ④ | ⑤ |
| 89 | ① | ② | ③ | ④ | ⑤ |
| 90 | ① | ② | ③ | ④ | ⑤ |
| 91 | ① | ② | ③ | ④ | ⑤ |
| 92 | ① | ② | ③ | ④ | ⑤ |
| 93 | ① | ② | ③ | ④ | ⑤ |
| 94 | ① | ② | ③ | ④ | ⑤ |
| 95 | ① | ② | ③ | ④ | ⑤ |
| 96 | ① | ② | ③ | ④ | ⑤ |
| 97 | ① | ② | ③ | ④ | ⑤ |
| 98 | ① | ② | ③ | ④ | ⑤ |
| 99 | ① | ② | ③ | ④ | ⑤ |
| 100 | ① | ② | ③ | ④ | ⑤ |

หลักเกณฑ์ในการประเมินผล

- ระดับที่ 1 กรณีทำคะแนนได้ต่ำกว่า 30%..... = อ่อนมาก
- ระดับที่ 2 กรณีทำคะแนนได้ระหว่าง 30-40%..... = อ่อน
- ระดับที่ 3 กรณีทำคะแนนได้ระหว่าง 41-50%..... = พอใช้
- ระดับที่ 4 กรณีทำคะแนนได้ระหว่าง 51-60%..... = เกือบดี
- ระดับที่ 5 กรณีทำคะแนนได้ระหว่าง 61-70%..... = ดี
- ระดับที่ 6 กรณีทำคะแนนได้มากกว่า 70%..... = ดีมาก



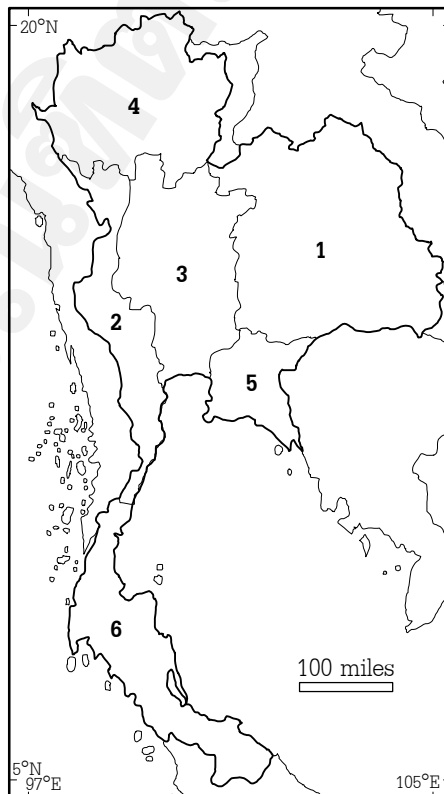
ข้อ 1-15 (ข้อละ 1 คะแนน) แบบบรรยายตัวเลือกเพียง 1 คำตอบ แต่ละข้อมีคำตอบที่ถูกต้องเพียงคำตอบเดียวเท่านั้น หากข้อใดไม่มีคำตอบให้ระบายตัวเลือก 5) แทน

- จุดมุ่งหมายสูงสุดในศาสนาอิสลามคือเรื่องใด
 - 1) การประกอบพิธีฮัจญ์
 - 2) การปฏิญาณตนต่อพระเจ้า
 - 3) การไปรวมกับพระเจ้า
 - 4) การรอดพ้นจากคำพิพากษา
- พิธีกรรมประจำบ้าน 12 ประการ ของศาสนาพราหมณ์-ฮินดู คือพิธีใด
 - 1) พิธีประจำวาระ
 - 2) พิธีบูชาเทวดา
 - 3) พิธีศราภ
 - 4) พิธีสังการ
- “กฎทองคำ”** ของศาสนาคริสต์ ข้อใดสำคัญที่สุด
 - 1) พระเจ้าทรงรักโลก จงรักพระเจ้าเป็นเจ้า
 - 2) จงรักแม่กระทั่งศัตรู และจงอภัยฐานผู้ที่ข่มเหงท่าน
 - 3) อาณาจักรของพระเจ้าใกล้มาถึงแล้ว ให้คนใจบริสุทธิ์เป็นบุตรพระเจ้า
 - 4) จงรักพระเจ้าด้วยสิ้นสุดหัวใจ จงรักเพื่อนมนุษย์เหมือนรักตนเอง
- สิทธิในข้อใดติดตัวทุกคนมาโดยธรรมชาติ
 - 1) สิทธิในทรัพย์สิน
 - 2) สิทธิทางการศึกษา
 - 3) สิทธิในครอบครัว
 - 4) สิทธิมนุษยชน
- บุคคลข้อใดตรงตามหลักเกณฑ์ของผู้ได้รับสภาพยกเว้นโดยไม่ต้องมีบัตรประจำตัวประชาชน
 - 1) นำฝน อายุ 15 ปีบริบูรณ์ จิตไม่สมประกอบ
 - 2) นำหวาน อายุ 15 ปีบริบูรณ์ ตาบอด 2 ข้าง
 - 3) นำชิง อายุ 15 ปีบริบูรณ์ บวชเป็นสามเณรตั้งแต่อายุ 7 ขวบ
 - 4) ถูกทุกข้อ
- สหกรณ์ที่จัดตั้งขึ้นตามโครงการอันเนื่องมาจากพระราชดำริจะเน้นการดำเนินการในด้านใด
 - 1) ช่วยเหลือสมาชิกด้านคติความ
 - 2) ช่วยเหลือสมาชิกด้านผู้ประกอบการ
 - 3) ช่วยเหลือสมาชิกด้านการออมทรัพย์
 - 4) ช่วยเหลือเกษตรกรในพื้นที่แห้งแล้ง
- “เงินเฟ้อ”** หมายถึง ภาวะทางเศรษฐกิจข้อใด
 - 1) ราคาสินค้าลดลง
 - 2) เงินหมุนเวียนในตลาดมีน้อย
 - 3) ระดับราคาสินค้าสูงขึ้นเรื่อยๆ
 - 4) ปริมาณเงินในระบบเศรษฐกิจมีจำกัด
- ปัจจุบันพบว่าห้างสรรพสินค้าส่วนใหญ่ใช้วิธีลด แลก แจก แถม เพื่อดึงดูดลูกค้า ถือเป็นปัจจัยกำหนดการบริโภคในข้อใด
 - 1) กลไกของราคา
 - 2) คุณภาพของสินค้า
 - 3) เทคนิคการขาย
 - 4) ปริมาณสินค้าในตลาด
- ประเทศไทยมีการนำเข้าสินค้าประเภทใดมากที่สุด
 - 1) แร่งงาน
 - 2) สินค้าฟุ่มเฟือย
 - 3) วัตถุดิบ
 - 4) ทุนพื้นฐาน
- ข้อใดเป็นผลกระทบจากการสูญเสียพื้นที่ป่าไม้ ทำให้เกิดภาวะโลกร้อนและแห้งแล้งอันตรายมากที่สุด
 - 1) พื้นดินแห้งแล้ง
 - 2) ขาดแคลนแหล่งลำธาร
 - 3) เกิดปรากฏการณ์เรือนกระจก
 - 4) สัตว์บางชนิดอาจสูญพันธุ์
- กิ่งฟ้าเดินทางไปทัศนศึกษาที่โรงเรียนที่ภาคตะวันตกของประเทศไทย กิ่งฟ้าจะพบพืชไร่ที่ปลูกในภูมิภาคนี้ ยกเว้นพืชชนิดใดที่กิ่งฟ้าไม่พบ
 - 1) อ้อย
 - 2) สับปะรด
 - 3) ฝ้าย
 - 4) มันสำปะหลัง



12. ข้อใดไม่สัมพันธ์กัน
- | | |
|----------------------------|------------------------------|
| 1) ดิบุก - เจริญญาปณัฏ | 2) เกลือหิน - อุตสาหกรรมเคมี |
| 3) ตะกั่ว - อุตสาหกรรมทำสี | 4) วูลแฟรม - ใยถักไฟฉาย |
13. นักเรียนคิดว่าข้อใดคือจุดมุ่งหมายสำคัญของวิชาประวัติศาสตร์
- 1) การเข้าใจอดีตของสังคมมนุษย์
 - 2) การศึกษาเพื่อเรียนรู้ถึงการกระทำของมนุษย์ในอดีต
 - 3) การพยายามทำให้อดีตเป็นเรื่องจริง
 - 4) การนำเหตุการณ์ที่เคยเกิดขึ้นแก่สังคมมนุษย์ในอดีตมาเขียนให้ถูกต้อง
14. โรเบิร์ตเป็นชาวอเมริกัน ต้องการเข้ามาศึกษาข้อเท็จจริงทางประวัติศาสตร์ของไทย สิ่งแรกที่โรเบิร์ตต้องทำคือข้อใด
- | | |
|-------------------------|----------------------|
| 1) ตั้งหัวข้อที่จะศึกษา | 2) รวบรวมหลักฐาน |
| 3) ประเมินคุณค่าหลักฐาน | 4) สังเคราะห์หลักฐาน |
15. ข้อใดกล่าวถึงฐานะของไพร่ในสมัยรัตนโกสินทร์ตอนต้นถูกต้องที่สุด
- 1) ลูกหลานของไพร่มีสิทธิ์ย้ายสังกัดเป็นไพร่สมได้
 - 2) ไพร่หลวงเป็นไพร่ที่ไม่ต้องเกณฑ์แรงงานไปทำงานให้ราชการ
 - 3) ไพร่อาข้อย้ายสังกัดกรม กองได้ในกรณีที่ตนเองได้ย้ายภูมิลำเนา
 - 4) ไพร่มีสิทธิ์ในการจับจองกรรมสิทธิ์ในที่ดินได้

ข้อ 16-20 (ข้อละ 2 คะแนน) แบบบรรยายตัวเลือกเพียง 1 คำตอบ แต่ละข้อมีคำตอบที่ถูกต้องเพียงคำตอบเดียวเท่านั้น หากข้อใดไม่มีคำตอบให้ระบายตัวเลือก 5) แทน





ให้นักเรียนพิจารณาคำตอบจาก 3 กลุ่ม และหมายเลขในแผนที่ประเทศไทยที่แนบมา แล้วตอบคำถามให้ถูกต้องครบทั้ง 3 กลุ่ม

ลำดับ ที่	คำตอบกลุ่มที่ 1	ลำดับ ที่	คำตอบกลุ่มที่ 2	ลำดับ ที่	คำตอบกลุ่มที่ 3
	ความสำคัญ/แหล่งเกษตรสำคัญ		ชื่อแม่น้ำ/เทือกเขา		ชื่อภูมิภาค
1	แหล่งปลูกข้าวเจ้า เขตอุตสาหกรรมเป็นชุมชนเมือง	1	แม่น้ำเจ้าพระยา	A	ภาคเหนือ
2	พื้นที่กว้างขวาง พืชใหญ่ขนาดใหญ่ แห้งแล้ง เลี้ยงโคนม	2	แม่น้ำชี, แม่น้ำมูล	B	ภาคกลาง
3	แหล่งดีบุก ปลูกยางพารา ฝนตกชุก ตลอดปี	3	แม่น้ำแม่กลอง	C	ภาคตะวันออก
4	แหล่งถ่านหินลิกไนต์ เทือกเขาสลับ หุบเขา ที่ราบแคบๆ	4	แม่น้ำปิง, แม่น้ำวัง, แม่น้ำยม, แม่น้ำน่าน	D	ภาคตะวันตก
5	แหล่งปลูกสวนผลไม้ ไร่ธรรมชาติ ฝนตกชุก	5	แม่น้ำโขง	E	ภาคตะวันออก เฉียงเหนือ
6	แหล่งปลูกอ้อย พืชไร่ มีเทือกเขาสลับ หุบเขา	6	เทือกเขาสันกาลาคีรี	F	ภาคใต้
7	แหล่งผลิตปูนซีเมนต์ สร้างมลภาวะเป็น พิษให้กับพื้นที่ใกล้เคียง	7	เทือกเขาถนนธงชัย	-	-
8	แหล่งประมงน้ำจืด มีอากาศร้อนชื้น ฝนตกชุก	8	เทือกเขาบรรทัด	-	-
9	แหล่งปลูกข้าวหอมมะลิ ดินไม่อุ้มน้ำ ค่อนข้างแห้งแล้ง	9	เทือกเขาตะนาวศรี	-	-

16. ภูมิภาคบริเวณหมายเลข 6 เป็นแหล่งสำคัญใด เทือกเขาใดกั้นพรมแดนกับประเทศเพื่อนบ้าน และภูมิภาคนี้คือภูมิภาคใด

	กลุ่มที่ 1	กลุ่มที่ 2	กลุ่มที่ 3
1)	3	6	C
2)	3	6	F
3)	8	9	F
4)	5	8	D



17. ภูมิภาคบริเวณหมายเลข 1 เป็นแหล่งเพาะปลูกพืชชนิดใด แม่น้ำสายใดสร้างความอุดมสมบูรณ์ให้พื้นที่บริเวณนี้ และภูมิภาคนี้คือภูมิภาคใด

	กลุ่มที่ 1	กลุ่มที่ 2	กลุ่มที่ 3
1)	9	5	E
2)	2	4	B
3)	9	2	E
4)	1	2	C

18. ภูมิภาคบริเวณหมายเลข 2 เป็นแหล่งเพาะปลูกพืชชนิดใด มีเทือกเขาใดที่กั้นพรมแดนกับประเทศเพื่อนบ้าน และภูมิภาคนี้คือภูมิภาคใด

	กลุ่มที่ 1	กลุ่มที่ 2	กลุ่มที่ 3
1)	6	9	D
2)	6	7	D
3)	5	9	E
4)	9	7	C

19. ภูมิภาคบริเวณหมายเลข 3 เป็นพื้นที่เพาะปลูกพืชชนิดใด แม่น้ำสายใดสร้างความอุดมสมบูรณ์ให้พื้นที่บริเวณนี้ และภูมิภาคนี้คือภูมิภาคใด

	กลุ่มที่ 1	กลุ่มที่ 2	กลุ่มที่ 3
1)	9	3	B
2)	8	1	B
3)	1	3	D
4)	1	1	B

20. ภูมิภาคบริเวณหมายเลข 4 เป็นพื้นที่ที่มีแร่ธาตุสำคัญใด แม่น้ำที่มีต้นกำเนิดจากภูมิภาคนี้คือแม่น้ำใด และภูมิภาคนี้คือภูมิภาคใด

	กลุ่มที่ 1	กลุ่มที่ 2	กลุ่มที่ 3
1)	4	4	A
2)	4	1	A
3)	3	4	A
4)	7	1	A





วิชา สังคมศึกษาฯ (ชุดที่ 2)

แนวข้อสอบเสริมประสบการณ์ระดับประถมศึกษา

เพื่อเตรียมสอบ NT&ONET ชั้น P.5

ชื่อ-นามสกุล..... เลขที่นั่งสอบ.....

สถานที่สอบ..... ห้องสอบ.....

คำอธิบาย

1. ข้อสอบชุดนี้ มีจำนวน 20 ข้อ คะแนนเต็ม 20 คะแนน ให้เวลาทำ 20 นาที
2. ในการทำข้อสอบ ให้เลือกคำตอบที่ถูกต้องหรือเหมาะสมที่สุด เพียงคำตอบเดียว กรณีข้อใดไม่มีตัวเลือกที่ถูกต้องให้ตอบตัวเลือกที่ 5) แทน
3. นักเรียนจะต้องพยายามทำข้อสอบและจับเวลาเหมือนกับการสอบแข่งขันจริง ห้ามใช้เวลาสอบเกินที่กำหนดและห้ามเปิดตำราดู หรือนำอุปกรณ์ช่วยในการคิดคำนวณมาใช้เด็ดขาด ทั้งนี้เพื่อประโยชน์ในการทดสอบวัดความรู้ของตัวนักเรียนเอง (อาจให้ผู้ปกครองช่วยควบคุมการสอบ หรืออาจใช้นาฬิกาปลุกตั้งเวลาก็ได้) เมื่อหมดเวลาสอบ ให้ตรวจคะแนนจากส่วนเฉลย เรื่องใดทำไม่ได้หรือทำผิดให้กลับไปอ่านหนังสือทบทวนใหม่

ข้อสอบชุดนี้จัดทำขึ้นโดยรวบรวม-ปรับปรุงมาจาก “คลังข้อสอบระดับประถมศึกษา 10 ปีล่าสุด” ของบัณฑิตแนะแนว ซึ่งเคยผ่านการใช้ทดสอบนักเรียนทั่วประเทศกว่า 50,000 คน มาแล้ว จึงเหมาะที่จะใช้ทบทวนความรู้และวัดผลตนเอง เพื่อพัฒนาความเป็นเลิศในแต่ละวิชาและเตรียมสอบแข่งขันในทุกสนาม



กระดาษคำตอบ

วิชา..... ชุดที่.....

ผลการสอบ

ทำได้ _____ คะแนน

- | | | | | | | | | | | | | | | | | | | | | | | | |
|----|---|---|---|---|---|----|---|---|---|---|---|----|---|---|---|---|---|-----|---|---|---|---|---|
| 1 | ① | ② | ③ | ④ | ⑤ | 26 | ① | ② | ③ | ④ | ⑤ | 51 | ① | ② | ③ | ④ | ⑤ | 76 | ① | ② | ③ | ④ | ⑤ |
| 2 | ① | ② | ③ | ④ | ⑤ | 27 | ① | ② | ③ | ④ | ⑤ | 52 | ① | ② | ③ | ④ | ⑤ | 77 | ① | ② | ③ | ④ | ⑤ |
| 3 | ① | ② | ③ | ④ | ⑤ | 28 | ① | ② | ③ | ④ | ⑤ | 53 | ① | ② | ③ | ④ | ⑤ | 78 | ① | ② | ③ | ④ | ⑤ |
| 4 | ① | ② | ③ | ④ | ⑤ | 29 | ① | ② | ③ | ④ | ⑤ | 54 | ① | ② | ③ | ④ | ⑤ | 79 | ① | ② | ③ | ④ | ⑤ |
| 5 | ① | ② | ③ | ④ | ⑤ | 30 | ① | ② | ③ | ④ | ⑤ | 55 | ① | ② | ③ | ④ | ⑤ | 80 | ① | ② | ③ | ④ | ⑤ |
| 6 | ① | ② | ③ | ④ | ⑤ | 31 | ① | ② | ③ | ④ | ⑤ | 56 | ① | ② | ③ | ④ | ⑤ | 81 | ① | ② | ③ | ④ | ⑤ |
| 7 | ① | ② | ③ | ④ | ⑤ | 32 | ① | ② | ③ | ④ | ⑤ | 57 | ① | ② | ③ | ④ | ⑤ | 82 | ① | ② | ③ | ④ | ⑤ |
| 8 | ① | ② | ③ | ④ | ⑤ | 33 | ① | ② | ③ | ④ | ⑤ | 58 | ① | ② | ③ | ④ | ⑤ | 83 | ① | ② | ③ | ④ | ⑤ |
| 9 | ① | ② | ③ | ④ | ⑤ | 34 | ① | ② | ③ | ④ | ⑤ | 59 | ① | ② | ③ | ④ | ⑤ | 84 | ① | ② | ③ | ④ | ⑤ |
| 10 | ① | ② | ③ | ④ | ⑤ | 35 | ① | ② | ③ | ④ | ⑤ | 60 | ① | ② | ③ | ④ | ⑤ | 85 | ① | ② | ③ | ④ | ⑤ |
| 11 | ① | ② | ③ | ④ | ⑤ | 36 | ① | ② | ③ | ④ | ⑤ | 61 | ① | ② | ③ | ④ | ⑤ | 86 | ① | ② | ③ | ④ | ⑤ |
| 12 | ① | ② | ③ | ④ | ⑤ | 37 | ① | ② | ③ | ④ | ⑤ | 62 | ① | ② | ③ | ④ | ⑤ | 87 | ① | ② | ③ | ④ | ⑤ |
| 13 | ① | ② | ③ | ④ | ⑤ | 38 | ① | ② | ③ | ④ | ⑤ | 63 | ① | ② | ③ | ④ | ⑤ | 88 | ① | ② | ③ | ④ | ⑤ |
| 14 | ① | ② | ③ | ④ | ⑤ | 39 | ① | ② | ③ | ④ | ⑤ | 64 | ① | ② | ③ | ④ | ⑤ | 89 | ① | ② | ③ | ④ | ⑤ |
| 15 | ① | ② | ③ | ④ | ⑤ | 40 | ① | ② | ③ | ④ | ⑤ | 65 | ① | ② | ③ | ④ | ⑤ | 90 | ① | ② | ③ | ④ | ⑤ |
| 16 | ① | ② | ③ | ④ | ⑤ | 41 | ① | ② | ③ | ④ | ⑤ | 66 | ① | ② | ③ | ④ | ⑤ | 91 | ① | ② | ③ | ④ | ⑤ |
| 17 | ① | ② | ③ | ④ | ⑤ | 42 | ① | ② | ③ | ④ | ⑤ | 67 | ① | ② | ③ | ④ | ⑤ | 92 | ① | ② | ③ | ④ | ⑤ |
| 18 | ① | ② | ③ | ④ | ⑤ | 43 | ① | ② | ③ | ④ | ⑤ | 68 | ① | ② | ③ | ④ | ⑤ | 93 | ① | ② | ③ | ④ | ⑤ |
| 19 | ① | ② | ③ | ④ | ⑤ | 44 | ① | ② | ③ | ④ | ⑤ | 69 | ① | ② | ③ | ④ | ⑤ | 94 | ① | ② | ③ | ④ | ⑤ |
| 20 | ① | ② | ③ | ④ | ⑤ | 45 | ① | ② | ③ | ④ | ⑤ | 70 | ① | ② | ③ | ④ | ⑤ | 95 | ① | ② | ③ | ④ | ⑤ |
| 21 | ① | ② | ③ | ④ | ⑤ | 46 | ① | ② | ③ | ④ | ⑤ | 71 | ① | ② | ③ | ④ | ⑤ | 96 | ① | ② | ③ | ④ | ⑤ |
| 22 | ① | ② | ③ | ④ | ⑤ | 47 | ① | ② | ③ | ④ | ⑤ | 72 | ① | ② | ③ | ④ | ⑤ | 97 | ① | ② | ③ | ④ | ⑤ |
| 23 | ① | ② | ③ | ④ | ⑤ | 48 | ① | ② | ③ | ④ | ⑤ | 73 | ① | ② | ③ | ④ | ⑤ | 98 | ① | ② | ③ | ④ | ⑤ |
| 24 | ① | ② | ③ | ④ | ⑤ | 49 | ① | ② | ③ | ④ | ⑤ | 74 | ① | ② | ③ | ④ | ⑤ | 99 | ① | ② | ③ | ④ | ⑤ |
| 25 | ① | ② | ③ | ④ | ⑤ | 50 | ① | ② | ③ | ④ | ⑤ | 75 | ① | ② | ③ | ④ | ⑤ | 100 | ① | ② | ③ | ④ | ⑤ |

หลักเกณฑ์ในการประเมินผล

- ระดับที่ 1 กรณีทำคะแนนได้ต่ำกว่า 30%..... = อ่อนมาก
- ระดับที่ 2 กรณีทำคะแนนได้ระหว่าง 30-40%..... = อ่อน
- ระดับที่ 3 กรณีทำคะแนนได้ระหว่าง 41-50%..... = พอใช้
- ระดับที่ 4 กรณีทำคะแนนได้ระหว่าง 51-60%..... = เกือบดี
- ระดับที่ 5 กรณีทำคะแนนได้ระหว่าง 61-70%..... = ดี
- ระดับที่ 6 กรณีทำคะแนนได้มากกว่า 70%..... = ดีมาก



- ศาสนาข้อใดต่างจากพวก
 - ศาสนาคริสต์
 - ศาสนาอิสลาม
 - ศาสนาพราหมณ์-ฮินดู
 - ศาสนาพุทธ
- วันนี้เป็นวันพระเด็กหญิงนำหวานไปวัดกับคุณยาย และได้นำเครื่องไทยธรรมไปถวายพระ อยากทราบว่าของถวายใดไม่ใช่เครื่องไทยธรรม
 - อาหารและเครื่องใช้ถวาย
 - จตุปัจจัยและอาหารแห้ง
 - อาหาร เครื่องนุ่งห่ม ยารักษาโรค
 - ดอกไม้ธูปเทียน
- ข้อใดเป็นมูลเหตุแรกที่ทำให้เกิดศาสนา
 - ความกลัว
 - ความไม่รู้
 - ความศรัทธา
 - ความเชื่อ
- พิธีกรรมใดของศาสนาคริสต์ซึ่งถือว่าเป็นพิธีศักดิ์สิทธิ์ที่สุดของคริสต์ศาสนิกชน ที่ต้องปฏิบัติ
 - พิธีศีลเจิม
 - พิธีศีลมหาสนิท
 - พิธีศีลจุ่ม
 - พิธีศีลบวช
- พุทธศาสนิกชน นอกจากจะทำบุญและยังให้ทาน ซึ่งถือปฏิบัติกันมาเป็นเวลาช้านาน อยากทราบว่า การให้ทานของชาวพุทธตรงกับพิธีกรรมของศาสนาใด
 - สันตลี ในศาสนาพราหมณ์-ฮินดู
 - ศีลมหาสนิท ในศาสนาคริสต์
 - ชะกาต ในศาสนาอิสลาม
 - สังสการ ในศาสนาพราหมณ์-ฮินดู
- ข้อใดไม่ใช่สิ่งกำหนดสถานภาพของคนในสังคม
 - อายุ
 - ค่านิยม
 - ความรู้
 - เพศ
- ปัจจุบันประเทศไทยให้ประชาชนในท้องถิ่นได้ปกครองตนเอง ถือว่ายึดหลักการสำคัญข้อใด
 - การรวมอำนาจ
 - การแบ่งอำนาจ
 - การจัดสรรอำนาจ
 - การกระจายอำนาจ
- การเปิดโอกาสให้ประชาชนแสดงความคิดเห็นเรื่องสำคัญต่อประเทศชาติ และเป็นการเปิดโอกาสให้ประชาชนมีส่วนร่วม อยากทราบว่าตรงกับข้อใด
 - มติประชาชน
 - ประชาพิจารณ์
 - ประชาธิปไตย
 - ญัตติประชาชน
- “การยุบสภาผู้แทนราษฎรตามกฎหมายรัฐธรรมนูญ” บุคคลใดมีอำนาจในการยุบสภาผู้แทนราษฎร
 - ประธานรัฐสภา
 - นายกรัฐมนตรี
 - ประธานวุฒิสภา
 - พระมหากษัตริย์
- จากการเลือกตั้งสมาชิกสภาผู้แทนราษฎรที่ผ่านมา พบว่าประชาชนบางส่วนไม่ออกไปเลือกตั้ง แสดงว่าประชาชนขาดจิตสำนึกในเรื่องใดเป็นสำคัญ
 - สิทธิ
 - หน้าที่
 - บทบาท
 - สถานภาพ
- วัฒนธรรมไทยมีความเจริญรุ่งเรืองมาช้านานทั้งนี้ได้รับแบบอย่างมาจากข้อใดเป็นสำคัญ
 - อาชีพเกษตรกรรม
 - ศาสนาพุทธ
 - วัฒนธรรมตะวันตก
 - สภาพภูมิประเทศ
- คนไทยในภาคตะวันออกเฉียงเหนือ มีความเชื่อเรื่องภูญาแถนผู้เป็นเทวดาควบคุมท้องฟ้าและฝน จึงเป็นที่มาของประเพณีข้อใด
 - ประเพณีแห่นางแมว
 - ประเพณีบุญบั้งไฟ
 - ประเพณีผีตาโขน
 - ประเพณีบุญผะเหวด



13. ข้อใดเป็นปัญหามูลฐานในระบบเศรษฐกิจที่ทุกประเทศต้องคำนึงถึงเป็นประการแรก
- 1) ผลิตสินค้าและบริการอะไร
 - 2) รายได้ ราคาสินค้า และบริการ
 - 3) ทรัพยากรมีจำกัดแต่ความต้องการของมนุษย์มีไม่จำกัด
 - 4) การใช้ทรัพยากรที่มีอยู่มาผลิตเป็นสินค้าหรือบริการ
14. การบริหารจัดการที่ดินและน้ำเพื่อการเกษตรในที่ดินขนาดเล็กให้เกิดประโยชน์สูงสุด เรียกว่าวิธีการนี้คือข้อใด
- 1) เกษตรแบบเข้มข้น
 - 2) เกษตรทฤษฎีใหม่
 - 3) การปฏิรูปที่ดิน
 - 4) สหกรณ์การเกษตร
15. ข้อใดกล่าวถึงสหกรณ์**ไม่ถูกต้อง**
- 1) สหกรณ์ในโรงเรียนส่วนใหญ่จัดตั้งเป็นสหกรณ์ร้านค้า
 - 2) สหกรณ์แห่งแรกของประเทศไทยจัดตั้งขึ้นที่จังหวัดพิษณุโลก
 - 3) สหกรณ์ที่จัดสรรที่ดินให้กับราษฎรทำกิน เรียกว่าสหกรณ์การเกษตร
 - 4) สหกรณ์ที่ถือกำเนิดในประเทศไทยโดยกรมหมื่นนพพิทยาลงกรณ์เป็นบิดาแห่งสหกรณ์ไทย
16. นางสาวดวงเดือน เป็นนางสาวไทย ชื่อเครื่องสำอางมาบรู๊นท์หน้า ปากกว่าหน้าเป็นแผลฝีหนอง ไม่เป็นไปตามสรรพคุณที่บอกไว้ใช้แล้วหน้าแดงสวยพริ้งภายใน 7 วัน ออกทราบบว่านางสาวดวงเดือนสามารถฟ้องร้องได้กับหน่วยงานใด
- 1) อย.
 - 2) มอก.
 - 3) สคบ.
 - 4) สปป.
17. การดำรงชีวิตของมนุษย์ขึ้นอยู่กับลักษณะสิ่งแวดล้อมทางธรรมชาติของแต่ละท้องถิ่น ลักษณะเช่นนี้ตรงกับข้อใด
- 1) ลักษณะทางกายภาพ
 - 2) ลักษณะภูมิประเทศ
 - 3) ลักษณะทางชีวภาพ
 - 4) ลักษณะภูมิอากาศ
18. การเกิดปรากฏการณ์เอลนีโญ มีผลกระทบต่อสิ่งแวดล้อมตามข้อใด**มากที่สุด**
- 1) เกิดภาวะอากาศของโลกแปรปรวน
 - 2) เกิดหมอกควันปกคลุม
 - 3) เกิดปะการังฟอกขาว
 - 4) เกิดสารพิษตกค้างในแหล่งน้ำขึ้นจำนวนมาก
19. การศึกษาวิธีการทางประวัติศาสตร์ขั้นที่ 2 หมายถึงขั้นตอนข้อใด
- 1) การประเมินหลักฐาน
 - 2) การรวบรวมหลักฐาน
 - 3) การตีความหลักฐาน
 - 4) การตรวจสอบหลักฐาน
20. การปฏิรูปการศึกษาของไทยเพื่อพัฒนาให้คนไทยมีศักยภาพเป็นทรัพยากรที่สำคัญของประเทศ ออกทราบบว่าพระราชบัญญัติประถมศึกษาเป็นกฎหมายจัดการศึกษาภาคบังคับให้สามัญชน มีขึ้นครั้งแรกในรัชสมัยใด
- 1) พระบาทสมเด็จพระจอมเกล้าเจ้าอยู่หัว
 - 2) พระบาทสมเด็จพระจุลจอมเกล้าเจ้าอยู่หัว
 - 3) พระบาทสมเด็จพระมงกุฎเกล้าเจ้าอยู่หัว
 - 4) พระบาทสมเด็จพระเจ้าอยู่หัวภูมิพลอดุลยเดช





วิชา สังคมศึกษาฯ (ชุดที่ 3)

แนวข้อสอบเสริมประสบการณ์ระดับประถมศึกษา

เพื่อเตรียมสอบ NT&ONET ชั้น P.5

ชื่อ-นามสกุล..... เลขที่นั่งสอบ.....

สถานที่สอบ..... ห้องสอบ.....

คำอธิบาย

1. ข้อสอบชุดนี้ มีจำนวน 20 ข้อ คะแนนเต็ม 20 คะแนน ให้เวลาทำ 20 นาที
2. ในการทำข้อสอบ ให้เลือกคำตอบที่ถูกต้องหรือเหมาะสมที่สุด เพียงคำตอบเดียว กรณีข้อใดไม่มีตัวเลือกที่ถูกต้องให้ตอบตัวเลือกที่ 5) แทน
3. นักเรียนจะต้องพยายามทำข้อสอบและจับเวลาเหมือนกับการสอบแข่งขันจริง ห้ามใช้เวลาสอบเกินที่กำหนดและห้ามเปิดตำราดู หรือนำอุปกรณ์ช่วยในการคิดคำนวณมาใช้เด็ดขาด ทั้งนี้เพื่อประโยชน์ในการทดสอบวัดความรู้ของตัวนักเรียนเอง (อาจให้ผู้ปกครองช่วยควบคุมการสอบ หรืออาจใช้นาฬิกาปลุกตั้งเวลาก็ได้) เมื่อหมดเวลาสอบ ให้ตรวจคะแนนจากส่วนเฉลย เรื่องใดทำไม่ได้หรือทำผิดให้กลับไปอ่านหนังสือทบทวนใหม่

ข้อสอบชุดนี้จัดทำขึ้นโดยรวบรวม-ปรับปรุงมาจาก “คลังข้อสอบระดับประถมศึกษา 10 ปีล่าสุด” ของบัณฑิตแนะแนว ซึ่งเคยผ่านการใช้ทดสอบนักเรียนทั่วประเทศกว่า 50,000 คน มาแล้ว จึงเหมาะที่จะใช้ทบทวนความรู้และวัดผลตนเอง เพื่อพัฒนาความเป็นเลิศในแต่ละวิชาและเตรียมสอบแข่งขันในทุกสนาม



กระดาษคำตอบ

วิชา..... ชุดที่.....

ผลการสอบ

ทำได้ _____ คะแนน

- | | | | | | | | | | | | | | | | | | | | | | | | |
|----|---|---|---|---|---|----|---|---|---|---|---|----|---|---|---|---|---|-----|---|---|---|---|---|
| 1 | ① | ② | ③ | ④ | ⑤ | 26 | ① | ② | ③ | ④ | ⑤ | 51 | ① | ② | ③ | ④ | ⑤ | 76 | ① | ② | ③ | ④ | ⑤ |
| 2 | ① | ② | ③ | ④ | ⑤ | 27 | ① | ② | ③ | ④ | ⑤ | 52 | ① | ② | ③ | ④ | ⑤ | 77 | ① | ② | ③ | ④ | ⑤ |
| 3 | ① | ② | ③ | ④ | ⑤ | 28 | ① | ② | ③ | ④ | ⑤ | 53 | ① | ② | ③ | ④ | ⑤ | 78 | ① | ② | ③ | ④ | ⑤ |
| 4 | ① | ② | ③ | ④ | ⑤ | 29 | ① | ② | ③ | ④ | ⑤ | 54 | ① | ② | ③ | ④ | ⑤ | 79 | ① | ② | ③ | ④ | ⑤ |
| 5 | ① | ② | ③ | ④ | ⑤ | 30 | ① | ② | ③ | ④ | ⑤ | 55 | ① | ② | ③ | ④ | ⑤ | 80 | ① | ② | ③ | ④ | ⑤ |
| 6 | ① | ② | ③ | ④ | ⑤ | 31 | ① | ② | ③ | ④ | ⑤ | 56 | ① | ② | ③ | ④ | ⑤ | 81 | ① | ② | ③ | ④ | ⑤ |
| 7 | ① | ② | ③ | ④ | ⑤ | 32 | ① | ② | ③ | ④ | ⑤ | 57 | ① | ② | ③ | ④ | ⑤ | 82 | ① | ② | ③ | ④ | ⑤ |
| 8 | ① | ② | ③ | ④ | ⑤ | 33 | ① | ② | ③ | ④ | ⑤ | 58 | ① | ② | ③ | ④ | ⑤ | 83 | ① | ② | ③ | ④ | ⑤ |
| 9 | ① | ② | ③ | ④ | ⑤ | 34 | ① | ② | ③ | ④ | ⑤ | 59 | ① | ② | ③ | ④ | ⑤ | 84 | ① | ② | ③ | ④ | ⑤ |
| 10 | ① | ② | ③ | ④ | ⑤ | 35 | ① | ② | ③ | ④ | ⑤ | 60 | ① | ② | ③ | ④ | ⑤ | 85 | ① | ② | ③ | ④ | ⑤ |
| 11 | ① | ② | ③ | ④ | ⑤ | 36 | ① | ② | ③ | ④ | ⑤ | 61 | ① | ② | ③ | ④ | ⑤ | 86 | ① | ② | ③ | ④ | ⑤ |
| 12 | ① | ② | ③ | ④ | ⑤ | 37 | ① | ② | ③ | ④ | ⑤ | 62 | ① | ② | ③ | ④ | ⑤ | 87 | ① | ② | ③ | ④ | ⑤ |
| 13 | ① | ② | ③ | ④ | ⑤ | 38 | ① | ② | ③ | ④ | ⑤ | 63 | ① | ② | ③ | ④ | ⑤ | 88 | ① | ② | ③ | ④ | ⑤ |
| 14 | ① | ② | ③ | ④ | ⑤ | 39 | ① | ② | ③ | ④ | ⑤ | 64 | ① | ② | ③ | ④ | ⑤ | 89 | ① | ② | ③ | ④ | ⑤ |
| 15 | ① | ② | ③ | ④ | ⑤ | 40 | ① | ② | ③ | ④ | ⑤ | 65 | ① | ② | ③ | ④ | ⑤ | 90 | ① | ② | ③ | ④ | ⑤ |
| 16 | ① | ② | ③ | ④ | ⑤ | 41 | ① | ② | ③ | ④ | ⑤ | 66 | ① | ② | ③ | ④ | ⑤ | 91 | ① | ② | ③ | ④ | ⑤ |
| 17 | ① | ② | ③ | ④ | ⑤ | 42 | ① | ② | ③ | ④ | ⑤ | 67 | ① | ② | ③ | ④ | ⑤ | 92 | ① | ② | ③ | ④ | ⑤ |
| 18 | ① | ② | ③ | ④ | ⑤ | 43 | ① | ② | ③ | ④ | ⑤ | 68 | ① | ② | ③ | ④ | ⑤ | 93 | ① | ② | ③ | ④ | ⑤ |
| 19 | ① | ② | ③ | ④ | ⑤ | 44 | ① | ② | ③ | ④ | ⑤ | 69 | ① | ② | ③ | ④ | ⑤ | 94 | ① | ② | ③ | ④ | ⑤ |
| 20 | ① | ② | ③ | ④ | ⑤ | 45 | ① | ② | ③ | ④ | ⑤ | 70 | ① | ② | ③ | ④ | ⑤ | 95 | ① | ② | ③ | ④ | ⑤ |
| 21 | ① | ② | ③ | ④ | ⑤ | 46 | ① | ② | ③ | ④ | ⑤ | 71 | ① | ② | ③ | ④ | ⑤ | 96 | ① | ② | ③ | ④ | ⑤ |
| 22 | ① | ② | ③ | ④ | ⑤ | 47 | ① | ② | ③ | ④ | ⑤ | 72 | ① | ② | ③ | ④ | ⑤ | 97 | ① | ② | ③ | ④ | ⑤ |
| 23 | ① | ② | ③ | ④ | ⑤ | 48 | ① | ② | ③ | ④ | ⑤ | 73 | ① | ② | ③ | ④ | ⑤ | 98 | ① | ② | ③ | ④ | ⑤ |
| 24 | ① | ② | ③ | ④ | ⑤ | 49 | ① | ② | ③ | ④ | ⑤ | 74 | ① | ② | ③ | ④ | ⑤ | 99 | ① | ② | ③ | ④ | ⑤ |
| 25 | ① | ② | ③ | ④ | ⑤ | 50 | ① | ② | ③ | ④ | ⑤ | 75 | ① | ② | ③ | ④ | ⑤ | 100 | ① | ② | ③ | ④ | ⑤ |

หลักเกณฑ์ในการประเมินผล

- ระดับที่ 1 กรณีทำคะแนนได้ต่ำกว่า 30%..... = อ่อนมาก
- ระดับที่ 2 กรณีทำคะแนนได้ระหว่าง 30-40%..... = อ่อน
- ระดับที่ 3 กรณีทำคะแนนได้ระหว่าง 41-50%..... = พอใช้
- ระดับที่ 4 กรณีทำคะแนนได้ระหว่าง 51-60%..... = เกือบดี
- ระดับที่ 5 กรณีทำคะแนนได้ระหว่าง 61-70%..... = ดี
- ระดับที่ 6 กรณีทำคะแนนได้มากกว่า 70%..... = ดีมาก



- ศาสนาข้อใดสอนให้มนุษย์เชื่อเรื่องหลักของเหตุผล
1) ศาสนาคริสต์ 2) ศาสนาพุทธ 3) ศาสนาซิกข์ 4) ศาสนาอิสลาม
- ข้อใดเป็นประเพณีของประเทศไทยที่ได้รับอิทธิพลจากศาสนาพราหมณ์-ฮินดู
1) ประเพณีกินเจ 2) ประเพณีรับพระโยนบัว
3) ประเพณีสารทเดือนสิบ 4) ประเพณีตานก๋วยสลาก
- เด็กชายวิทย์พบโทรศัพท์มือถือของผู้อื่นตกอยู่ จึงนำไปให้ครูประจำชั้นประกาศหาเจ้าของ การกระทำของเด็กชายวิทย์ตรงกับหลักสังคหวัตถุ ๔ ข้อใด
1) ทาน 2) ปิยวาจา 3) อุตถจริยา 4) สมานัตตตา
- กิจกรรมวันใดที่มีการนำข้าวต้มมัดและข้าวต้มลูกโยนมาร่วมตักบาตรจนกลายเป็นประเพณีที่ปฏิบัติมาช้านานในประเทศไทย
1) วันเข้าพรรษา 2) วันออกพรรษา 3) วันธรรมสวนะ 4) วันเทโวโรหณะ
- ข้อใดเป็นความสำคัญของกฎหมาย
1) การระงับข้อพิพาท 2) การใช้ประสานประโยชน์
3) การใช้พัฒนาสังคมให้เจริญก้าวหน้า 4) การใช้ควบคุมความประพฤติของคนในสังคม
- การสร้างรากฐานของสังคมไทยที่เข้มแข็งควรนำหลักการข้อใดมาใช้มากที่สุด
1) การให้อภัย 2) ความเสมอภาค
3) การเสียสละ 4) ความรักและความเข้าใจ
- หน่วยงานที่มีหน้าที่ดูแลและรับผิดชอบการออกบัตรประจำตัวประชาชนคือกระทรวงใด
1) กระทรวงกลาโหม 2) กระทรวงศึกษาธิการ
3) กระทรวงมหาดไทย 4) กระทรวงยุติธรรม
- บุคคลใดปฏิบัติตนสอดคล้องกับแนวคิดหลักปรัชญาเศรษฐกิจพอเพียง
1) เหลืองไม่กั๊วหนี้ยืมสินใคร 2) แดงไม่พึ่งพาผู้อื่น
3) ฟ้าประหยัด และไม่ฟุ่มเฟือย 4) เขียวไม่ใช้เทคโนโลยีในการผลิต
- สินค้าในข้อใดเป็นสินค้าที่ได้จากการผลิตขั้นตติยภูมิ
1) แบงก์สาลี 2) บะหมี่รสต้มยำกุ้ง
3) บริการร้านตัดผม 4) ยางพาราแผ่น
- เด็กชายชยันต์ได้รับเงินค่าขนมวันละ 20 บาท ทุกวันเด็กชายชยันต์จะเหลือเงินวันละ 10 บาท แล้วเก็บออมเงินดังกล่าวด้วยการหยอดกระปุกออมสินทุกวัน อยากทราบว่าการทำงานนี้สอดคล้องกับแนวคิดหลักปรัชญาเศรษฐกิจพอเพียงข้อใด
1) การมีเหตุผล 2) การพอประมาณ 3) การพึ่งตนเอง 4) การสร้างภูมิคุ้มกันตนเอง
- ระบบเศรษฐกิจแบบใดเป็นการสร้างความเป็นธรรมให้กับสังคมมากที่สุด
1) ระบบเศรษฐกิจแบบผสม 2) ระบบเศรษฐกิจแบบยังชีพ
3) ระบบเศรษฐกิจแบบทุนนิยม 4) ระบบเศรษฐกิจแบบสังคมนิยม



12. การดำเนินงานของสถาบันการเงินใดทำหน้าที่ “ระดมเงินออมจากสมาชิกในรูปเงินค่าหุ้นและเงินฝาก แล้วให้สินเชื่อแก่สมาชิก และผลกำไรส่วนหนึ่งจ่ายคืนเป็นเงินปันผลแก่ผู้ถือหุ้น”
- | | |
|---------------------|----------------------|
| 1) บริษัทหลักทรัพย์ | 2) สหกรณ์ออมทรัพย์ |
| 3) สหกรณ์การเกษตร | 4) กองทุนประกันสังคม |
13. ข้อใดจัดเป็นมรดกทางด้านวัฒนธรรมทางวัตถุ
- | | | | |
|---------------|------------|------------|-------------------|
| 1) การแต่งงาน | 2) ค่านิยม | 3) ภาษาไทย | 4) วัดราชโอรสาราม |
|---------------|------------|------------|-------------------|
14. หลักฐานทางประวัติศาสตร์ข้อใดเป็นการบันทึกเรื่องราวเกี่ยวกับพระมหากษัตริย์
- | | | | |
|---------------|----------|-------------------|-------------------------|
| 1) จดหมายเหตุ | 2) ตำนาน | 3) พระราชพงศาวดาร | 4) บันทึกของชาวต่างชาติ |
|---------------|----------|-------------------|-------------------------|
15. ในสมัยกรุงสุโขทัยมีความเจริญก้าวหน้าด้านภูมิปัญญาหลายประการ ยกเว้นข้อใด
- | | | | |
|---------------|-------------------|-------------|--------|
| 1) ชามสังคโลก | 2) ไตรภูมิพระร่วง | 3) สรีดภงส์ | 4) ฝาย |
|---------------|-------------------|-------------|--------|
16. “**ประเพณีปราสาทผึ้ง**” เป็นประเพณีท้องถิ่นในภาคใดของประเทศไทย
- | | |
|------------|--------------------------|
| 1) ภาคใต้ | 2) ภาคเหนือ |
| 3) ภาคกลาง | 4) ภาคตะวันออกเฉียงเหนือ |
17. กรมอุตุนิยมวิทยาประกาศว่าประเทศไทยจะได้รับอิทธิพลของลมมรสุมตะวันออกเฉียงเหนือ จะมีผลตามข้อใด
- ถูกต้องที่สุด**
- | |
|---|
| 1) ภาคตะวันออกเฉียงเหนือมีอากาศหนาวเย็น และภาคใต้ฝั่งตะวันออกมีฝน |
| 2) ภาคตะวันออกเฉียงเหนือมีอากาศหนาวเย็น และภาคใต้ฝั่งตะวันออกมีฝน |
| 3) ภาคตะวันออกเฉียงเหนือมีอากาศหนาวเย็น และภาคใต้ฝั่งตะวันออกมีฝน |
| 4) ภาคตะวันออกเฉียงเหนือมีอากาศหนาวเย็น และภาคใต้ฝั่งตะวันตกมีฝน |
18. ป่าไม้ประเภทใดที่มีความสำคัญต่อความหลากหลายทางชีวภาพมากที่สุด
- | | | | |
|----------------|-------------|--------------|-----------|
| 1) ป่าเบญจพรรณ | 2) ป่าสนเขา | 3) ป่าชายเลน | 4) ป่าแพะ |
|----------------|-------------|--------------|-----------|
19. การแลกเปลี่ยนศิลปวัฒนธรรมระหว่างประเทศสมาชิกอาเซียนจัดเป็นความร่วมมือด้านใด
- | | | | |
|------------------|-----------------|---------------|-------------------|
| 1) ด้านการปกครอง | 2) ด้านวัฒนธรรม | 3) ด้านการค้า | 4) ด้านการสื่อสาร |
|------------------|-----------------|---------------|-------------------|
20. การใช้ผลิตภัณฑ์ในข้อใดก่อให้เกิดผลกระทบต่อสิ่งแวดล้อมมากที่สุด
- | | | | |
|------------|-------------|----------------------|-------------|
| 1) พลาสติก | 2) เต้าแก๊ส | 3) ตู้เย็นที่ใช้ CFC | 4) โทรศัพท์ |
|------------|-------------|----------------------|-------------|





วิชา สังคมศึกษาฯ (ชุดที่ 4)

แนวข้อสอบเสริมประสบการณ์ระดับประถมศึกษา

เพื่อเตรียมสอบ NT&ONET ชั้น P.5

ชื่อ-นามสกุล..... เลขที่นั่งสอบ.....

สถานที่สอบ..... ห้องสอบ.....

คำอธิบาย

1. ข้อสอบชุดนี้ มีจำนวน 20 ข้อ คะแนนเต็ม 20 คะแนน ให้เวลาทำ 20 นาที
2. ในการทำข้อสอบ ให้เลือกคำตอบที่ถูกต้องหรือเหมาะสมที่สุด เพียงคำตอบเดียว กรณีข้อใดไม่มีตัวเลือกที่ถูกต้องให้ตอบตัวเลือกที่ 5) แทน
3. นักเรียนจะต้องพยายามทำข้อสอบและจับเวลาเหมือนกับการสอบแข่งขันจริง ห้ามใช้เวลาสอบเกินที่กำหนดและห้ามเปิดตำราดู หรือนำอุปกรณ์ช่วยในการคิดคำนวณมาใช้เด็ดขาด ทั้งนี้เพื่อประโยชน์ในการทดสอบวัดความรู้ของตัวนักเรียนเอง (อาจให้ผู้ปกครองช่วยควบคุมการสอบ หรืออาจใช้นาฬิกาปลุกตั้งเวลาก็ได้) เมื่อหมดเวลาสอบ ให้ตรวจคะแนนจากส่วนเฉลย เรื่องใดทำไม่ได้หรือทำผิดให้กลับไปอ่านหนังสือทบทวนใหม่

ข้อสอบชุดนี้จัดทำขึ้นโดยรวบรวม-ปรับปรุงมาจาก “คลังข้อสอบระดับประถมศึกษา 10 ปีล่าสุด” ของบัณฑิตแนะแนว ซึ่งเคยผ่านการใช้ทดสอบนักเรียนทั่วประเทศกว่า 50,000 คน มาแล้ว จึงเหมาะที่จะใช้ทบทวนความรู้และวัดผลตนเอง เพื่อพัฒนาความเป็นเลิศในแต่ละวิชาและเตรียมสอบแข่งขันในทุกสนาม



กระดาษคำตอบ

วิชา..... ชุดที่.....

ผลการสอบ

ทำได้ _____ คะแนน

- | | | | | | |
|-----|---|---|---|---|---|
| 1 | ① | ② | ③ | ④ | ⑤ |
| 2 | ① | ② | ③ | ④ | ⑤ |
| 3 | ① | ② | ③ | ④ | ⑤ |
| 4 | ① | ② | ③ | ④ | ⑤ |
| 5 | ① | ② | ③ | ④ | ⑤ |
| 6 | ① | ② | ③ | ④ | ⑤ |
| 7 | ① | ② | ③ | ④ | ⑤ |
| 8 | ① | ② | ③ | ④ | ⑤ |
| 9 | ① | ② | ③ | ④ | ⑤ |
| 10 | ① | ② | ③ | ④ | ⑤ |
| 11 | ① | ② | ③ | ④ | ⑤ |
| 12 | ① | ② | ③ | ④ | ⑤ |
| 13 | ① | ② | ③ | ④ | ⑤ |
| 14 | ① | ② | ③ | ④ | ⑤ |
| 15 | ① | ② | ③ | ④ | ⑤ |
| 16 | ① | ② | ③ | ④ | ⑤ |
| 17 | ① | ② | ③ | ④ | ⑤ |
| 18 | ① | ② | ③ | ④ | ⑤ |
| 19 | ① | ② | ③ | ④ | ⑤ |
| 20 | ① | ② | ③ | ④ | ⑤ |
| 21 | ① | ② | ③ | ④ | ⑤ |
| 22 | ① | ② | ③ | ④ | ⑤ |
| 23 | ① | ② | ③ | ④ | ⑤ |
| 24 | ① | ② | ③ | ④ | ⑤ |
| 25 | ① | ② | ③ | ④ | ⑤ |
| 26 | ① | ② | ③ | ④ | ⑤ |
| 27 | ① | ② | ③ | ④ | ⑤ |
| 28 | ① | ② | ③ | ④ | ⑤ |
| 29 | ① | ② | ③ | ④ | ⑤ |
| 30 | ① | ② | ③ | ④ | ⑤ |
| 31 | ① | ② | ③ | ④ | ⑤ |
| 32 | ① | ② | ③ | ④ | ⑤ |
| 33 | ① | ② | ③ | ④ | ⑤ |
| 34 | ① | ② | ③ | ④ | ⑤ |
| 35 | ① | ② | ③ | ④ | ⑤ |
| 36 | ① | ② | ③ | ④ | ⑤ |
| 37 | ① | ② | ③ | ④ | ⑤ |
| 38 | ① | ② | ③ | ④ | ⑤ |
| 39 | ① | ② | ③ | ④ | ⑤ |
| 40 | ① | ② | ③ | ④ | ⑤ |
| 41 | ① | ② | ③ | ④ | ⑤ |
| 42 | ① | ② | ③ | ④ | ⑤ |
| 43 | ① | ② | ③ | ④ | ⑤ |
| 44 | ① | ② | ③ | ④ | ⑤ |
| 45 | ① | ② | ③ | ④ | ⑤ |
| 46 | ① | ② | ③ | ④ | ⑤ |
| 47 | ① | ② | ③ | ④ | ⑤ |
| 48 | ① | ② | ③ | ④ | ⑤ |
| 49 | ① | ② | ③ | ④ | ⑤ |
| 50 | ① | ② | ③ | ④ | ⑤ |
| 51 | ① | ② | ③ | ④ | ⑤ |
| 52 | ① | ② | ③ | ④ | ⑤ |
| 53 | ① | ② | ③ | ④ | ⑤ |
| 54 | ① | ② | ③ | ④ | ⑤ |
| 55 | ① | ② | ③ | ④ | ⑤ |
| 56 | ① | ② | ③ | ④ | ⑤ |
| 57 | ① | ② | ③ | ④ | ⑤ |
| 58 | ① | ② | ③ | ④ | ⑤ |
| 59 | ① | ② | ③ | ④ | ⑤ |
| 60 | ① | ② | ③ | ④ | ⑤ |
| 61 | ① | ② | ③ | ④ | ⑤ |
| 62 | ① | ② | ③ | ④ | ⑤ |
| 63 | ① | ② | ③ | ④ | ⑤ |
| 64 | ① | ② | ③ | ④ | ⑤ |
| 65 | ① | ② | ③ | ④ | ⑤ |
| 66 | ① | ② | ③ | ④ | ⑤ |
| 67 | ① | ② | ③ | ④ | ⑤ |
| 68 | ① | ② | ③ | ④ | ⑤ |
| 69 | ① | ② | ③ | ④ | ⑤ |
| 70 | ① | ② | ③ | ④ | ⑤ |
| 71 | ① | ② | ③ | ④ | ⑤ |
| 72 | ① | ② | ③ | ④ | ⑤ |
| 73 | ① | ② | ③ | ④ | ⑤ |
| 74 | ① | ② | ③ | ④ | ⑤ |
| 75 | ① | ② | ③ | ④ | ⑤ |
| 76 | ① | ② | ③ | ④ | ⑤ |
| 77 | ① | ② | ③ | ④ | ⑤ |
| 78 | ① | ② | ③ | ④ | ⑤ |
| 79 | ① | ② | ③ | ④ | ⑤ |
| 80 | ① | ② | ③ | ④ | ⑤ |
| 81 | ① | ② | ③ | ④ | ⑤ |
| 82 | ① | ② | ③ | ④ | ⑤ |
| 83 | ① | ② | ③ | ④ | ⑤ |
| 84 | ① | ② | ③ | ④ | ⑤ |
| 85 | ① | ② | ③ | ④ | ⑤ |
| 86 | ① | ② | ③ | ④ | ⑤ |
| 87 | ① | ② | ③ | ④ | ⑤ |
| 88 | ① | ② | ③ | ④ | ⑤ |
| 89 | ① | ② | ③ | ④ | ⑤ |
| 90 | ① | ② | ③ | ④ | ⑤ |
| 91 | ① | ② | ③ | ④ | ⑤ |
| 92 | ① | ② | ③ | ④ | ⑤ |
| 93 | ① | ② | ③ | ④ | ⑤ |
| 94 | ① | ② | ③ | ④ | ⑤ |
| 95 | ① | ② | ③ | ④ | ⑤ |
| 96 | ① | ② | ③ | ④ | ⑤ |
| 97 | ① | ② | ③ | ④ | ⑤ |
| 98 | ① | ② | ③ | ④ | ⑤ |
| 99 | ① | ② | ③ | ④ | ⑤ |
| 100 | ① | ② | ③ | ④ | ⑤ |

หลักเกณฑ์ในการประเมินผล

- ระดับที่ 1 กรณีทำคะแนนได้ต่ำกว่า 30%..... = อ่อนมาก
- ระดับที่ 2 กรณีทำคะแนนได้ระหว่าง 30-40%..... = อ่อน
- ระดับที่ 3 กรณีทำคะแนนได้ระหว่าง 41-50%..... = พอใช้
- ระดับที่ 4 กรณีทำคะแนนได้ระหว่าง 51-60%..... = เกือบดี
- ระดับที่ 5 กรณีทำคะแนนได้ระหว่าง 61-70%..... = ดี
- ระดับที่ 6 กรณีทำคะแนนได้มากกว่า 70%..... = ดีมาก



- ข้อใดไม่ใช่ปัจจัยทุนในความหมายทางเศรษฐศาสตร์
 - 1) รถขนส่งสินค้า
 - 2) เครื่องจักรกลในการผลิตสินค้า
 - 3) เงินกู้ยืมหมุนเวียนในการผลิต
 - 4) โรงงานที่ใช้ในการผลิตสินค้า
- ข้อใดเป็นผลกระทบโดยตรงจากการเปิดประชาคมเศรษฐกิจอาเซียนในปี พ.ศ. 2558 ที่มีต่อประเทศไทย
 - 1) เกิดการครอบงำจากต่างชาติ
 - 2) เกิดการขาดดุลการค้า
 - 3) เกิดการพึ่งพาทางเศรษฐกิจจากต่างชาติ
 - 4) เกิดความเสื่อมโทรมของทรัพยากรและสิ่งแวดล้อม
- ข้อใดไม่ใช่หลักการของสหกรณ์
 - 1) การเป็นสมาชิกโดยสมัครใจและเปิดกว้าง
 - 2) การปกครองตนเองและความเป็นอิสระ
 - 3) การพึ่งพาตนเองและเปิดกว้าง
 - 4) การควบคุมโดยสมาชิกตามหลักประชาธิปไตย
- ข้อใดเป็นปัญหาที่เกิดจากความหมายด้านเศรษฐศาสตร์จุลภาค
 - 1) แรงงานขาดทักษะไม่สามารถรับเทคโนโลยีที่ทันสมัยได้
 - 2) จำนวนคนว่างงานเพิ่มขึ้นต่อเนื่องทุกปี
 - 3) สินค้าภาคอุตสาหกรรมนำเข้ามากกว่าสินค้าเกษตร
 - 4) หอมแดงราคาตกต่ำทำให้เกษตรกรชุมนุมประท้วง
- ข้อใดเป็นหน้าที่ของกรุงเทพมหานคร
 - 1) การสร้างความยุติธรรมและความมั่นคงในสังคม
 - 2) การส่งเสริมควบคุมการผลิตและจำหน่าย
 - 3) การส่งเสริมประชาชนให้ไปใช้สิทธิและมีเสรีภาพอย่างเต็มที่
 - 4) การจัดให้มีพิพิธภัณฑ์และหอจดหมายเหตุ
- ข้อใดไม่ใช่ความหมายของคำว่า "สิทธิขั้นพื้นฐานของประชาชน"
 - 1) สิทธิในการรับการศึกษาขั้นพื้นฐาน
 - 2) สิทธิที่จะได้รับการคุ้มครองตามกฎหมายเท่าเทียมกัน
 - 3) สิทธิในการฟ้องหน่วยงานราชการเมื่อเห็นว่ากระทำการไม่ถูกต้อง
 - 4) สิทธิในการเข้าร่วมกิจกรรมทางการเมืองด้วยการต่อต้านพระราชบัญญัตินิรโทษกรรม
- ข้อใดจัดเป็นการบริหารราชการแผ่นดินแบบแบ่งอำนาจ
 - 1) เทศบาล
 - 2) จังหวัด
 - 3) องค์การบริหารส่วนจังหวัด
 - 4) สำนักนายกรัฐมนตรี
- กฎหมายใดที่กล่าวถึงสิทธิ เสรีภาพ และหน้าที่พื้นฐานของประชาชน
 - 1) รัฐธรรมนูญ
 - 2) กฎหมายการปกครองส่วนท้องถิ่น
 - 3) กฎหมายการปกครอง
 - 4) กฎหมายแพ่งและพาณิชย์
- เหตุผลข้อใดทำให้ประเทศต่างๆ ในภูมิภาคเอเชียตะวันออกเฉียงใต้ ซึ่งตั้งอยู่ในเขตเส้นศูนย์สูตร มีอากาศไม่ร้อนมากนัก
 - 1) มีพื้นที่ป่าไม้จำนวนมาก
 - 2) สภาพภูมิประเทศเป็นภูเขาสูง
 - 3) มีแม่น้ำไหลผ่านหลายสาย
 - 4) ได้รับอิทธิพลจากทะเลและลมมรสุม



10. ประเทศใดของภูมิภาคเอเชียตะวันออกเฉียงใต้ได้รับอิทธิพลจากลมทะเลและพายุแบบต่างๆ ตลอดปี
- 1) บรูไนดารุสซาลาม - เมียนมาร์
 - 2) มาเลเซีย - เวียดนาม
 - 3) สิงคโปร์ - ติมอร์-เลสเต
 - 4) อินโดนีเซีย - ฟิลิปปินส์
11. ข้อใดคือวิกฤตการณ์ด้านทรัพยากรธรรมชาติที่ส่งผลกระทบต่อการดำรงชีวิตของมนุษยชาติมากที่สุด
- 1) การสูญเสียพื้นที่ป่าไม้
 - 2) การขาดแคลนน้ำจืด
 - 3) การลดลงของปริมาณแร่ธาตุ
 - 4) การพังทลายของหน้าดิน
12. ข้อใดเป็นปัจจัยที่ก่อให้เกิดผลเสียต่อทรัพยากรและสิ่งแวดล้อมมากที่สุด
- 1) การใช้เทคโนโลยี
 - 2) การเพิ่มขึ้นของจำนวนประชากร
 - 3) การบริโภคน้ำ
 - 4) การเกิดมลพิษของแหล่งน้ำและอากาศ
13. ประเทศใดในภูมิภาคเอเชียตะวันออกเฉียงใต้ที่นับถือศาสนาอิสลามมากที่สุด
- 1) สิงคโปร์
 - 2) เวียดนาม
 - 3) อินโดนีเซีย
 - 4) ฟิลิปปินส์
14. ข้อใดเป็นหลักคำสอนของทุกศาสนาที่มีความสอดคล้องกันในเรื่องความรัก
- 1) การสอนให้มียศ
 - 2) การสอนเรื่องกรรม
 - 3) การสอนให้มีความเมตตา
 - 4) การสอนให้รักศัตรูเท่าตนเอง
15. ข้อใดกล่าวถึงจุดประสงค์ของการละหมาดได้ถูกต้อง
- 1) เพื่อฝึกความอดทนหนักแน่น
 - 2) เพื่อลดช่องว่างของสังคม
 - 3) เพื่อฝึกอบรมจิตใจให้พ้นจากกิเลส
 - 4) เพื่อฝึกมารยาทในการแสดงความจงรักภักดี
16. ข้อใดกล่าวไม่ถูกต้องเกี่ยวกับหลักความเชื่อของศาสนาพราหมณ์-ฮินดู
- 1) นับถือเทพทั้ง 3 องค์ เรียกว่า ตรีมูรติ
 - 2) เป็นศาสนาที่มีศาสดาหลายองค์
 - 3) คัมภีร์ที่สืบทอด เรียกว่า พระเวท
 - 4) ก่อนสมัยพุทธกาล เรียกว่า ศาสนาพราหมณ์
17. พระพุทธเจ้าทรงแสดงโอวาทปาติโมกข์ในวันสำคัญทางพระพุทธศาสนาตามข้อใด
- 1) วันมาฆบูชา
 - 2) วันวิสาขบูชา
 - 3) วันอัฐมีบูชา
 - 4) วันอาสาฬหบูชา
18. ผู้ที่ทำหน้าที่คล้ายกับพ่อค้าคนกลางในสมัยรัตนโกสินทร์ตอนต้นคือบุคคลในข้อใด
- 1) วังหน้า
 - 2) วังหลัง
 - 3) พระคลังสินค้า
 - 4) เจ้าภาษีนายอากร
19. หลักฐานทางประวัติศาสตร์ข้อใดไม่จัดเป็นหลักฐานชั้นต้น
- 1) ศิลจารึก
 - 2) บทความวิชาการ
 - 3) จดหมายเหตุวันวลิต
 - 4) เครื่องปั้นดินเผาสังคโลก
20. ข้อใดเป็นปัจจัยส่งเสริมให้การค้าแบบยังชีพเปลี่ยนแปลงเป็นการส่งออกในสมัยรัตนโกสินทร์ตอนต้น
- 1) การเปลี่ยนแปลงจำนวนประชากร
 - 2) การคมนาคมพัฒนาทันสมัย
 - 3) การทำสนธิสัญญาเบาว์ริงกับประเทศอังกฤษ
 - 4) การนำเทคโนโลยีที่ทันสมัยมาปรับปรุง





วิชา สังคมศึกษาฯ (ชุดที่ 5)

แนวข้อสอบเสริมประสบการณ์ระดับประถมศึกษา

เพื่อเตรียมสอบ NT&ONET ชั้น P.5

ชื่อ-นามสกุล..... เลขที่นั่งสอบ.....

สถานที่สอบ..... ห้องสอบ.....

คำอธิบาย

1. ข้อสอบชุดนี้ มีจำนวน 20 ข้อ คะแนนเต็ม 20 คะแนน ให้เวลาทำ 20 นาที
2. ในการทำข้อสอบ ให้เลือกคำตอบที่ถูกต้องหรือเหมาะสมที่สุด เพียงคำตอบเดียว กรณีข้อใดไม่มีตัวเลือกที่ถูกต้องให้ตอบตัวเลือกที่ 5) แทน
3. นักเรียนจะต้องพยายามทำข้อสอบและจับเวลาเหมือนกับการสอบแข่งขันจริง ห้ามใช้เวลาสอบเกินที่กำหนดและห้ามเปิดตำราดู หรือนำอุปกรณ์ช่วยในการคิดคำนวณมาใช้เด็ดขาด ทั้งนี้เพื่อประโยชน์ในการทดสอบวัดความรู้ของตัวนักเรียนเอง (อาจให้ผู้ปกครองช่วยควบคุมการสอบ หรืออาจใช้นาฬิกาปลุกตั้งเวลาก็ได้) เมื่อหมดเวลาสอบ ให้ตรวจคะแนนจากส่วนเฉลย เรื่องใดทำไม่ได้หรือทำผิดให้กลับไปอ่านหนังสือทบทวนใหม่

ข้อสอบชุดนี้จัดทำขึ้นโดยรวบรวม-ปรับปรุงมาจาก “คลังข้อสอบระดับประถมศึกษา 10 ปีล่าสุด” ของบัณฑิตแนะแนว ซึ่งเคยผ่านการใช้ทดสอบนักเรียนทั่วประเทศกว่า 50,000 คน มาแล้ว จึงเหมาะที่จะใช้ทบทวนความรู้และวัดผลตนเอง เพื่อพัฒนาความเป็นเลิศในแต่ละวิชาและเตรียมสอบแข่งขันในทุกสนาม



กระดาษคำตอบ

วิชา..... ชุดที่.....

ผลการสอบ

ทำได้ _____ คะแนน

- | | | | | | | | | | | | | | | | | | | | | | | | |
|----|---|---|---|---|---|----|---|---|---|---|---|----|---|---|---|---|---|-----|---|---|---|---|---|
| 1 | ① | ② | ③ | ④ | ⑤ | 26 | ① | ② | ③ | ④ | ⑤ | 51 | ① | ② | ③ | ④ | ⑤ | 76 | ① | ② | ③ | ④ | ⑤ |
| 2 | ① | ② | ③ | ④ | ⑤ | 27 | ① | ② | ③ | ④ | ⑤ | 52 | ① | ② | ③ | ④ | ⑤ | 77 | ① | ② | ③ | ④ | ⑤ |
| 3 | ① | ② | ③ | ④ | ⑤ | 28 | ① | ② | ③ | ④ | ⑤ | 53 | ① | ② | ③ | ④ | ⑤ | 78 | ① | ② | ③ | ④ | ⑤ |
| 4 | ① | ② | ③ | ④ | ⑤ | 29 | ① | ② | ③ | ④ | ⑤ | 54 | ① | ② | ③ | ④ | ⑤ | 79 | ① | ② | ③ | ④ | ⑤ |
| 5 | ① | ② | ③ | ④ | ⑤ | 30 | ① | ② | ③ | ④ | ⑤ | 55 | ① | ② | ③ | ④ | ⑤ | 80 | ① | ② | ③ | ④ | ⑤ |
| 6 | ① | ② | ③ | ④ | ⑤ | 31 | ① | ② | ③ | ④ | ⑤ | 56 | ① | ② | ③ | ④ | ⑤ | 81 | ① | ② | ③ | ④ | ⑤ |
| 7 | ① | ② | ③ | ④ | ⑤ | 32 | ① | ② | ③ | ④ | ⑤ | 57 | ① | ② | ③ | ④ | ⑤ | 82 | ① | ② | ③ | ④ | ⑤ |
| 8 | ① | ② | ③ | ④ | ⑤ | 33 | ① | ② | ③ | ④ | ⑤ | 58 | ① | ② | ③ | ④ | ⑤ | 83 | ① | ② | ③ | ④ | ⑤ |
| 9 | ① | ② | ③ | ④ | ⑤ | 34 | ① | ② | ③ | ④ | ⑤ | 59 | ① | ② | ③ | ④ | ⑤ | 84 | ① | ② | ③ | ④ | ⑤ |
| 10 | ① | ② | ③ | ④ | ⑤ | 35 | ① | ② | ③ | ④ | ⑤ | 60 | ① | ② | ③ | ④ | ⑤ | 85 | ① | ② | ③ | ④ | ⑤ |
| 11 | ① | ② | ③ | ④ | ⑤ | 36 | ① | ② | ③ | ④ | ⑤ | 61 | ① | ② | ③ | ④ | ⑤ | 86 | ① | ② | ③ | ④ | ⑤ |
| 12 | ① | ② | ③ | ④ | ⑤ | 37 | ① | ② | ③ | ④ | ⑤ | 62 | ① | ② | ③ | ④ | ⑤ | 87 | ① | ② | ③ | ④ | ⑤ |
| 13 | ① | ② | ③ | ④ | ⑤ | 38 | ① | ② | ③ | ④ | ⑤ | 63 | ① | ② | ③ | ④ | ⑤ | 88 | ① | ② | ③ | ④ | ⑤ |
| 14 | ① | ② | ③ | ④ | ⑤ | 39 | ① | ② | ③ | ④ | ⑤ | 64 | ① | ② | ③ | ④ | ⑤ | 89 | ① | ② | ③ | ④ | ⑤ |
| 15 | ① | ② | ③ | ④ | ⑤ | 40 | ① | ② | ③ | ④ | ⑤ | 65 | ① | ② | ③ | ④ | ⑤ | 90 | ① | ② | ③ | ④ | ⑤ |
| 16 | ① | ② | ③ | ④ | ⑤ | 41 | ① | ② | ③ | ④ | ⑤ | 66 | ① | ② | ③ | ④ | ⑤ | 91 | ① | ② | ③ | ④ | ⑤ |
| 17 | ① | ② | ③ | ④ | ⑤ | 42 | ① | ② | ③ | ④ | ⑤ | 67 | ① | ② | ③ | ④ | ⑤ | 92 | ① | ② | ③ | ④ | ⑤ |
| 18 | ① | ② | ③ | ④ | ⑤ | 43 | ① | ② | ③ | ④ | ⑤ | 68 | ① | ② | ③ | ④ | ⑤ | 93 | ① | ② | ③ | ④ | ⑤ |
| 19 | ① | ② | ③ | ④ | ⑤ | 44 | ① | ② | ③ | ④ | ⑤ | 69 | ① | ② | ③ | ④ | ⑤ | 94 | ① | ② | ③ | ④ | ⑤ |
| 20 | ① | ② | ③ | ④ | ⑤ | 45 | ① | ② | ③ | ④ | ⑤ | 70 | ① | ② | ③ | ④ | ⑤ | 95 | ① | ② | ③ | ④ | ⑤ |
| 21 | ① | ② | ③ | ④ | ⑤ | 46 | ① | ② | ③ | ④ | ⑤ | 71 | ① | ② | ③ | ④ | ⑤ | 96 | ① | ② | ③ | ④ | ⑤ |
| 22 | ① | ② | ③ | ④ | ⑤ | 47 | ① | ② | ③ | ④ | ⑤ | 72 | ① | ② | ③ | ④ | ⑤ | 97 | ① | ② | ③ | ④ | ⑤ |
| 23 | ① | ② | ③ | ④ | ⑤ | 48 | ① | ② | ③ | ④ | ⑤ | 73 | ① | ② | ③ | ④ | ⑤ | 98 | ① | ② | ③ | ④ | ⑤ |
| 24 | ① | ② | ③ | ④ | ⑤ | 49 | ① | ② | ③ | ④ | ⑤ | 74 | ① | ② | ③ | ④ | ⑤ | 99 | ① | ② | ③ | ④ | ⑤ |
| 25 | ① | ② | ③ | ④ | ⑤ | 50 | ① | ② | ③ | ④ | ⑤ | 75 | ① | ② | ③ | ④ | ⑤ | 100 | ① | ② | ③ | ④ | ⑤ |

หลักเกณฑ์ในการประเมินผล

- ระดับที่ 1 กรณีทำคะแนนได้ต่ำกว่า 30%..... = อ่อนมาก
- ระดับที่ 2 กรณีทำคะแนนได้ระหว่าง 30-40%..... = อ่อน
- ระดับที่ 3 กรณีทำคะแนนได้ระหว่าง 41-50%..... = พอใช้
- ระดับที่ 4 กรณีทำคะแนนได้ระหว่าง 51-60%..... = เกือบดี
- ระดับที่ 5 กรณีทำคะแนนได้ระหว่าง 61-70%..... = ดี
- ระดับที่ 6 กรณีทำคะแนนได้มากกว่า 70%..... = ดีมาก



1. สมบัติในชีวิตประจำวันหมายถึงข้อใด
 - 1) การให้กำลังใจแก่ตนเอง
 - 2) การยึดมั่นในคำสอนของพระพุทธเจ้า
 - 3) ความปรารถนาดีต่อกันโดยอาศัยพระรัตนตรัยเป็นที่พึ่ง
 - 4) ความตั้งใจมั่นอยู่ในเรื่องที่ต้องการให้ตั้งใจไว้เรื่องเดียว
2. ศาสนาใดมีความแตกต่างจากศาสนาอื่นมากที่สุด
 - 1) ศาสนาพุทธ
 - 2) ศาสนาคริสต์
 - 3) ศาสนาอิสลาม
 - 4) ศาสนापราหมณ์-ฮินดู
3. การประกอบพิธีกรรมทางศาสนามีจุดมุ่งหมายหลักคือข้อใด
 - 1) สร้างความศักดิ์สิทธิ์ให้กับศาสนา
 - 2) สร้างความสุขความเจริญแก่ผู้ปฏิบัติ
 - 3) สร้างความแตกต่างของแต่ละศาสนาให้ชัดเจน
 - 4) สร้างความศรัทธาให้เป็นที่ยกย่องแก่ผู้นับถือศาสนาเดียวกัน
4. เป้าหมายสูงสุดของศาสนาคริสต์หมายถึงข้อใด
 - 1) การมีชีวิตนิรันดร
 - 2) การไปรวมในอาณาจักรของพระเจ้า
 - 3) การที่ได้รับการพิพากษาหลังความตาย
 - 4) การสอนให้ทุกคนเป็นคนดีละเว้นความชั่วทั้งปวง
5. เด็กชายพอเพียงเป็นนักเรียนระดับชั้นประถมศึกษาปีที่ 5 ควรเข้าร่วมกิจกรรมในข้อใดเพื่อเร่งแก้ไขปัญหาของชาติในปัจจุบันมากที่สุด
 - 1) โครงการอาสาจากร
 - 2) โครงการโตไปไม่โกง
 - 3) โครงการลดภาวะโลกร้อน
 - 4) โครงการอาหารกลางวัน
6. ประเทศไทยมีระบอบการปกครองคล้ายคลึงกับประเทศใดในอาเซียน
 - 1) บรูไนดารุสซาลาม
 - 2) สิงคโปร์
 - 3) กัมพูชา
 - 4) อินโดนีเซีย
7. การเลือกตั้งผู้แทนนักเรียนเป็นการเสริมสร้างรากฐานให้แก่เยาวชนในเรื่องใด
 - 1) การเสริมสร้างรากฐานการมีจิตสาธารณะ
 - 2) การเสริมสร้างรากฐานความรับผิดชอบ
 - 3) การเสริมสร้างรากฐานระเบียบวินัย
 - 4) การเสริมสร้างรากฐานประชาธิปไตย
8. ข้อใดเป็นภูมิปัญญาไทยโบราณด้านการแพทย์
 - 1) การผ่าตัด
 - 2) การฝังเข็ม
 - 3) การรักษาด้วยสมุนไพร
 - 4) การดื่มน้ำมนต์รักษาโรค
9. การศึกษาลักษณะภูมิประเทศของภูมิภาคอาเซียนควรใช้เครื่องมือทางภูมิศาสตร์ชนิดใดจึงจะเหมาะสมที่สุด
 - 1) เครื่องมือจีพีเอส
 - 2) รูปถ่ายทางอากาศ
 - 3) ภาพถ่ายดาวเทียม
 - 4) แผนที่กายภาพ
10. เหตุใดจึงกล่าวว่าภาคกลางเป็นแหล่งของการเพาะปลูกที่สำคัญที่สุดของประเทศไทย
 - 1) มีสภาพภูมิอากาศเหมาะสมฝนตกตลอดปี
 - 2) มีแม่น้ำไหลผ่านพื้นที่ราบขนาดใหญ่อย่างทั่วถึง
 - 3) มีลักษณะภูมิอากาศที่เหมาะสมต่อการเพาะปลูก
 - 4) มีความอุดมสมบูรณ์จากดินตะกอนแม่น้ำถูกพัดพามาทับถมบริเวณที่ราบลุ่มแม่น้ำ



11. ข้อใดกล่าวเกี่ยวกับที่ตั้งประเทศไทย **ไม่ถูกต้อง**
- 1) ตั้งอยู่ใต้แนวเส้นศูนย์สูตร
 - 2) ตั้งอยู่เหนือเส้นศูนย์สูตร
 - 3) ตั้งอยู่คาบสมุทรอินโดจีน
 - 4) ตั้งอยู่ในภูมิภาคเอเชียตะวันออกเฉียงใต้
12. ถ้านักเรียนเดินทางไปประเทศต่างๆ ในภูมิภาคเอเชียตะวันออกเฉียงใต้ นักเรียนจะพบลักษณะภูมิอากาศที่คล้ายกันอย่างไร
- 1) แบบอบอุ่นชื้น
 - 2) แบบร้อนชื้น
 - 3) แบบกึ่งทะเลทราย
 - 4) แบบทะเลทราย
13. ข้อความใดให้ความหมายของวิชาเศรษฐศาสตร์ได้ **ถูกต้องที่สุด**
- 1) วิชาที่เกี่ยวกับเศรษฐกิจ
 - 2) วิชาที่เกี่ยวกับการซื้อขายสินค้าและบริการ
 - 3) วิชาที่เกี่ยวกับการจัดสรรทรัพยากรให้เกิดประโยชน์อย่างคุ้มค่า
 - 4) วิชาที่เกี่ยวกับการสนองตอบต่อความต้องการของสมาชิกในสังคม
14. การผลิตในความหมายทางเศรษฐศาสตร์หมายถึงข้อใด
- 1) การดำเนินงานแปรรูปสินค้าสำเร็จรูป
 - 2) การแปรรูปสินค้าของโรงงานอุตสาหกรรม
 - 3) การแปรรูปวัตถุดิบออกมาป้อนโรงงานอุตสาหกรรม
 - 4) กระบวนการแปรสภาพทรัพยากรให้เป็นสินค้าหรือบริการตามที่กำหนดไว้
15. ข้อใด **ไม่ใช่**หน้าที่ของธนาคารแห่งประเทศไทย
- 1) ออกพันธบัตรรัฐบาล
 - 2) รับฝากเงินจากประชาชน
 - 3) รักษาทุนสำรองระหว่างประเทศ
 - 4) ควบคุมและตรวจสอบสถาบันการเงิน
16. การบริหารจัดการที่ดินให้เกิดประโยชน์สูงสุดสัมพันธ์กับข้อใด **มากที่สุด**
- 1) เกษตรทฤษฎีใหม่
 - 2) เกษตรแบบยั่งยืน
 - 3) เกษตรแบบผสมผสาน
 - 4) การจัดระบบวิถีชีวิตของเกษตรกรแนวใหม่
17. ข้อใดถือเป็นหลักฐานชั้นต้นทางประวัติศาสตร์
- 1) พิพิธภัณฑสถานทางประวัติศาสตร์
 - 2) คำแปลศิลาจารึกที่อยู่ในวารสาร
 - 3) คำให้การของผู้ที่อยู่ในการชุมนุม
 - 4) ผลสำรวจของนักโบราณคดีในเว็บไซต์
18. “**สรีดภงส์**” ซึ่งถือเป็นภูมิปัญญาสมัยสุโขทัยสร้างขึ้นเพื่อวัตถุประสงค์ใดเป็นหลัก
- 1) เป็นแหล่งชลประทานทางการเกษตร
 - 2) เป็นแหล่งรับน้ำป้องกันการเกิดอุทกภัย
 - 3) เก็บกักน้ำไว้ใช้เพื่อการบริโภคในหน้าแล้ง
 - 4) เป็นแหล่งน้ำสำรองใช้ป้องกันอัคคีภัย
19. ลักษณะของชุมชนโบราณในข้อใดที่จะขยายตัวไปเป็นรัฐได้อย่างรวดเร็ว
- 1) มีการติดต่อแลกเปลี่ยนกับชุมชนอื่น
 - 2) มีของป่าหลายชนิดและมีราคาสูง
 - 3) มีทำเลที่ตั้งดี ทำให้ศัตรูเข้ามาโจมตีลำบาก
 - 4) มีผู้คนตั้งถิ่นฐานอยู่กันมาตั้งแต่ยุคหิน
20. สินค้าอะไรที่ชักนำให้ชาติตะวันตกเดินทางเข้ามายังภูมิภาคเอเชียตะวันออกเฉียงใต้
- 1) ทองคำและอัญมณี
 - 2) ผ้าไหมและเครื่องเงิน
 - 3) น้ำมันและยางพารา
 - 4) เครื่องเทศและของป่า





วิชา สังคมศึกษาฯ (ชุดที่ 6)

แนวข้อสอบเสริมประสบการณ์ระดับประถมศึกษา

เพื่อเตรียมสอบ NT&ONET ชั้น P.5

ชื่อ-นามสกุล..... เลขที่นั่งสอบ.....

สถานที่สอบ..... ห้องสอบ.....

คำอธิบาย

1. ข้อสอบชุดนี้ มีจำนวน 20 ข้อ คะแนนเต็ม 20 คะแนน ให้เวลาทำ 20 นาที
2. ในการทำข้อสอบ ให้เลือกคำตอบที่ถูกต้องหรือเหมาะสมที่สุด เพียงคำตอบเดียว กรณีข้อใดไม่มีตัวเลือกที่ถูกต้องให้ตอบตัวเลือกที่ 5) แทน
3. นักเรียนจะต้องพยายามทำข้อสอบและจับเวลาเหมือนกับการสอบแข่งขันจริง ห้ามใช้เวลาสอบเกินที่กำหนดและห้ามเปิดตำราดู หรือนำอุปกรณ์ช่วยในการคิดคำนวณมาใช้เด็ดขาด ทั้งนี้เพื่อประโยชน์ในการทดสอบวัดความรู้ของตัวนักเรียนเอง (อาจให้ผู้ปกครองช่วยควบคุมการสอบ หรืออาจใช้นาฬิกาปลุกตั้งเวลาก็ได้) เมื่อหมดเวลาสอบ ให้ตรวจคะแนนจากส่วนเฉลย เรื่องใดทำไม่ได้หรือทำผิดให้กลับไปอ่านหนังสือทบทวนใหม่

ข้อสอบชุดนี้จัดทำขึ้นโดยรวบรวม-ปรับปรุงมาจาก “คลังข้อสอบระดับประถมศึกษา 10 ปีล่าสุด” ของบัณฑิตแนะแนว ซึ่งเคยผ่านการใช้ทดสอบนักเรียนทั่วประเทศกว่า 50,000 คน มาแล้ว จึงเหมาะที่จะใช้ทบทวนความรู้และวัดผลตนเอง เพื่อพัฒนาความเป็นเลิศในแต่ละวิชาและเตรียมสอบแข่งขันในทุกสนาม



กระดาษคำตอบ

วิชา..... ชุดที่.....

ผลการสอบ

ทำได้ _____ คะแนน

- | | | | | | |
|-----|---|---|---|---|---|
| 1 | ① | ② | ③ | ④ | ⑤ |
| 2 | ① | ② | ③ | ④ | ⑤ |
| 3 | ① | ② | ③ | ④ | ⑤ |
| 4 | ① | ② | ③ | ④ | ⑤ |
| 5 | ① | ② | ③ | ④ | ⑤ |
| 6 | ① | ② | ③ | ④ | ⑤ |
| 7 | ① | ② | ③ | ④ | ⑤ |
| 8 | ① | ② | ③ | ④ | ⑤ |
| 9 | ① | ② | ③ | ④ | ⑤ |
| 10 | ① | ② | ③ | ④ | ⑤ |
| 11 | ① | ② | ③ | ④ | ⑤ |
| 12 | ① | ② | ③ | ④ | ⑤ |
| 13 | ① | ② | ③ | ④ | ⑤ |
| 14 | ① | ② | ③ | ④ | ⑤ |
| 15 | ① | ② | ③ | ④ | ⑤ |
| 16 | ① | ② | ③ | ④ | ⑤ |
| 17 | ① | ② | ③ | ④ | ⑤ |
| 18 | ① | ② | ③ | ④ | ⑤ |
| 19 | ① | ② | ③ | ④ | ⑤ |
| 20 | ① | ② | ③ | ④ | ⑤ |
| 21 | ① | ② | ③ | ④ | ⑤ |
| 22 | ① | ② | ③ | ④ | ⑤ |
| 23 | ① | ② | ③ | ④ | ⑤ |
| 24 | ① | ② | ③ | ④ | ⑤ |
| 25 | ① | ② | ③ | ④ | ⑤ |
| 26 | ① | ② | ③ | ④ | ⑤ |
| 27 | ① | ② | ③ | ④ | ⑤ |
| 28 | ① | ② | ③ | ④ | ⑤ |
| 29 | ① | ② | ③ | ④ | ⑤ |
| 30 | ① | ② | ③ | ④ | ⑤ |
| 31 | ① | ② | ③ | ④ | ⑤ |
| 32 | ① | ② | ③ | ④ | ⑤ |
| 33 | ① | ② | ③ | ④ | ⑤ |
| 34 | ① | ② | ③ | ④ | ⑤ |
| 35 | ① | ② | ③ | ④ | ⑤ |
| 36 | ① | ② | ③ | ④ | ⑤ |
| 37 | ① | ② | ③ | ④ | ⑤ |
| 38 | ① | ② | ③ | ④ | ⑤ |
| 39 | ① | ② | ③ | ④ | ⑤ |
| 40 | ① | ② | ③ | ④ | ⑤ |
| 41 | ① | ② | ③ | ④ | ⑤ |
| 42 | ① | ② | ③ | ④ | ⑤ |
| 43 | ① | ② | ③ | ④ | ⑤ |
| 44 | ① | ② | ③ | ④ | ⑤ |
| 45 | ① | ② | ③ | ④ | ⑤ |
| 46 | ① | ② | ③ | ④ | ⑤ |
| 47 | ① | ② | ③ | ④ | ⑤ |
| 48 | ① | ② | ③ | ④ | ⑤ |
| 49 | ① | ② | ③ | ④ | ⑤ |
| 50 | ① | ② | ③ | ④ | ⑤ |
| 51 | ① | ② | ③ | ④ | ⑤ |
| 52 | ① | ② | ③ | ④ | ⑤ |
| 53 | ① | ② | ③ | ④ | ⑤ |
| 54 | ① | ② | ③ | ④ | ⑤ |
| 55 | ① | ② | ③ | ④ | ⑤ |
| 56 | ① | ② | ③ | ④ | ⑤ |
| 57 | ① | ② | ③ | ④ | ⑤ |
| 58 | ① | ② | ③ | ④ | ⑤ |
| 59 | ① | ② | ③ | ④ | ⑤ |
| 60 | ① | ② | ③ | ④ | ⑤ |
| 61 | ① | ② | ③ | ④ | ⑤ |
| 62 | ① | ② | ③ | ④ | ⑤ |
| 63 | ① | ② | ③ | ④ | ⑤ |
| 64 | ① | ② | ③ | ④ | ⑤ |
| 65 | ① | ② | ③ | ④ | ⑤ |
| 66 | ① | ② | ③ | ④ | ⑤ |
| 67 | ① | ② | ③ | ④ | ⑤ |
| 68 | ① | ② | ③ | ④ | ⑤ |
| 69 | ① | ② | ③ | ④ | ⑤ |
| 70 | ① | ② | ③ | ④ | ⑤ |
| 71 | ① | ② | ③ | ④ | ⑤ |
| 72 | ① | ② | ③ | ④ | ⑤ |
| 73 | ① | ② | ③ | ④ | ⑤ |
| 74 | ① | ② | ③ | ④ | ⑤ |
| 75 | ① | ② | ③ | ④ | ⑤ |
| 76 | ① | ② | ③ | ④ | ⑤ |
| 77 | ① | ② | ③ | ④ | ⑤ |
| 78 | ① | ② | ③ | ④ | ⑤ |
| 79 | ① | ② | ③ | ④ | ⑤ |
| 80 | ① | ② | ③ | ④ | ⑤ |
| 81 | ① | ② | ③ | ④ | ⑤ |
| 82 | ① | ② | ③ | ④ | ⑤ |
| 83 | ① | ② | ③ | ④ | ⑤ |
| 84 | ① | ② | ③ | ④ | ⑤ |
| 85 | ① | ② | ③ | ④ | ⑤ |
| 86 | ① | ② | ③ | ④ | ⑤ |
| 87 | ① | ② | ③ | ④ | ⑤ |
| 88 | ① | ② | ③ | ④ | ⑤ |
| 89 | ① | ② | ③ | ④ | ⑤ |
| 90 | ① | ② | ③ | ④ | ⑤ |
| 91 | ① | ② | ③ | ④ | ⑤ |
| 92 | ① | ② | ③ | ④ | ⑤ |
| 93 | ① | ② | ③ | ④ | ⑤ |
| 94 | ① | ② | ③ | ④ | ⑤ |
| 95 | ① | ② | ③ | ④ | ⑤ |
| 96 | ① | ② | ③ | ④ | ⑤ |
| 97 | ① | ② | ③ | ④ | ⑤ |
| 98 | ① | ② | ③ | ④ | ⑤ |
| 99 | ① | ② | ③ | ④ | ⑤ |
| 100 | ① | ② | ③ | ④ | ⑤ |

หลักเกณฑ์ในการประเมินผล

- ระดับที่ 1 กรณีทำคะแนนได้ต่ำกว่า 30%..... = อ่อนมาก
- ระดับที่ 2 กรณีทำคะแนนได้ระหว่าง 30-40%..... = อ่อน
- ระดับที่ 3 กรณีทำคะแนนได้ระหว่าง 41-50%..... = พอใช้
- ระดับที่ 4 กรณีทำคะแนนได้ระหว่าง 51-60%..... = เกือบดี
- ระดับที่ 5 กรณีทำคะแนนได้ระหว่าง 61-70%..... = ดี
- ระดับที่ 6 กรณีทำคะแนนได้มากกว่า 70%..... = ดีมาก



1. ตามความเชื่อของชาวมุสลิม วันพิพากษาเรียกอีกอย่างว่าวันใด
1) วันสิ้นโลก 2) วันแห่งศรัทธา 3) วันกำหนดชะตา 4) วันพระเจ้าคีนซีฟ
2. วันสำคัญทางพระพุทธศาสนาข้อใดที่พระพุทธเจ้าทรงแสดงธรรมความจริงอันประเสริฐ 4 ประการ
1) วันมาฆบูชา 2) วันวิสาขบูชา 3) วันอาสาฬหบูชา 4) วันอัญฐุมิบูชา
3. การทำบุญอุทิศให้แก่บรรพบุรุษผู้ล่วงลับไปแล้วตามความเชื่อของศาสนาฮินดูคือพิธีกรรมใด
1) พิธีปาหุล 2) พิธีศราหท์ 3) พิธีบูชาเทพเจ้า 4) พิธีพลีกรรม
4. การพอใจในสิ่งที่มี ยินดีในสิ่งที่ได้ มีความหมายตรงกับหลักธรรมในข้อใด
1) จาคะ 2) ขันติ 3) อัถถจริยา 4) ลันโดษ
5. ปัญหาสำคัญในอนาคตของสังคมไทยที่มีอาชีพเกษตรกรรมคือข้อใด
1) การเป็นโรคขาดสารอาหาร 2) การขาดแคลนที่ดินทำกิน
3) การขาดโอกาสทางการศึกษา 4) การเพิ่มจำนวนประชากรในชนบท
6. ปัจจัยใดแสดงความเป็นพลเมืองของรัฐได้สมบูรณ์ที่สุด
1) เชื้อชาติ 2) ศาสนา 3) ชาตินิยม 4) สิทธิและเสรีภาพ
7. ข้อใดต่อไปนี้เป็นหน้าที่ของปวงชนชาวไทย
1) หน้าที่ไปรับราชการ 2) หน้าที่ในการออกกฎหมาย
3) หน้าที่ในการเป็นพลเมือง 4) หน้าที่ในการป้องกันประเทศ
8. ข้อใดไม่ใช่ประโยชน์ที่ประเทศไทยจะได้รับจากการเข้าสู่ประชาคมเศรษฐกิจอาเซียน
1) การตลาดของไทยจะใหญ่ขึ้น
2) การสร้างอัตลักษณ์ในภูมิภาคร่วมกัน
3) การขนส่งสินค้าและคมนาคมในภูมิภาคอย่างเสรี
4) การค้าระหว่างไทยกับประเทศสมาชิกอาเซียนมีสภาพคล่องขึ้น
9. การนำระบบเศรษฐกิจแบบทุนนิยมมาใช้ในประเทศไทยได้ก็ตาม ปัญหาสำคัญที่ตามมาคือข้อใด
1) ขาดเงินทุนในการผลิตสินค้าและบริการ 2) ขาดการแข่งขันกันทางธุรกิจ
3) ความเหลื่อมล้ำทางสังคม 4) ความไม่มีประสิทธิภาพในการผลิต
10. ข้อใดเป็นเป้าหมายของปรัชญาเศรษฐกิจพอเพียง
1) เพื่อมุ่งแก้ไขปัญหาวิกฤตเศรษฐกิจชาติ 2) เพื่อให้สามารถดำรงอยู่ได้อย่างมั่นคง
3) เพื่อให้ก้าวทันต่อโลกในยุคโลกาภิวัตน์ 4) มุ่งให้เกิดความสมดุลพร้อมรับการเปลี่ยนแปลง
11. ตามกฎของอุปสงค์ ถ้าราคาของเนื้อปลาแชลมอนขึ้นดีลดลงจากเดิมกิโลกรัมละ 500 บาท เหลือเพียงกิโลกรัมละ 250 บาท จะเกิดผลอย่างไร
1) อุปสงค์สูงขึ้น 2) อุปสงค์ลดลง 3) อุปทานสูงขึ้น 4) อุปทานลดลง
12. ข้อความใดแสดงถึงลักษณะของการบริโภคแบบอย่างยั่งยืนเหมาะสมที่สุด
1) สายใจเปิดน้ำรดต้นไม้ทุกวัน
2) สายสมรใช้ถุงผ้าเวลาไปซื้อของที่ซูเปอร์มาร์เก็ต
3) สมคิดสร้างบ้านด้วยไม้ไผ่จากป่าชายเลน
4) สมหมายเปลี่ยนหลังคาบ้านเป็นกระเบื้องเพื่อความทนทาน



13. ข้อใดกล่าว**ถูกต้องที่สุด**เกี่ยวกับการศึกษาวิชาประวัติศาสตร์
- 1) ศึกษาประสบการณ์ของมนุษย์ในอดีต
 - 2) ศึกษาเหตุการณ์ที่เกิดขึ้นและมีการบันทึก
 - 3) ศึกษาเรื่องราวของมนุษย์เกิดอย่างน้อยหนึ่งปี
 - 4) ศึกษาพฤติกรรมของมนุษย์ที่เกิดทั้งอดีต ปัจจุบันและอนาคต
14. อิทธิพลวัฒนธรรมจากจีนเข้าสู่ประเทศไทยในสมัยรัชกาลที่ 3 มากกว่าสมัยก่อนๆ เนื่องจากเหตุผลใด
- 1) การเดินเรือเจริญก้าวหน้า
 - 2) การติดต่อค้าขายสำเภาจีน
 - 3) การลงทุนกับประเทศจีนเป็นหลัก
 - 4) การอพยพของชาวจีนเข้าสู่ประเทศไทย
15. การผลิตและจำหน่ายสินค้าสมัยสุโขทัย ผลประโยชน์ส่วนใหญ่จะอยู่ในมือของกลุ่มใด
- 1) ผู้ผลิต
 - 2) ประชาชน
 - 3) พ่อค้า
 - 4) พระมหากษัตริย์
16. พระราชดำรัสที่ว่า “คุณไม่ได้สวมเสื้อเหมือนเปลือยกาย ขอท่านทั้งหลายจงสวมเสื้อเอาไว้ที่เข้าเฝ้าทุกคน” เป็นพระราชดำรัสของพระมหากษัตริย์พระองค์ใด
- 1) พระบาทสมเด็จพระจอมเกล้าเจ้าอยู่หัว
 - 2) พระบาทสมเด็จพระจุลจอมเกล้าเจ้าอยู่หัว
 - 3) พระบาทสมเด็จพระมงกุฎเกล้าเจ้าอยู่หัว
 - 4) พระบาทสมเด็จพระปกเกล้าเจ้าอยู่หัว
17. ลักษณะภูมิประเทศของภาคต่างๆ ในประเทศไทย ข้อใดกล่าว**ไม่ถูกต้อง**
- 1) ภาคกลาง - เป็นที่ราบใหญ่ที่สุดของประเทศ
 - 2) ภาคเหนือ - ส่วนใหญ่เป็นทิวเขาสลับหุบเขา
 - 3) ภาคตะวันออก - ส่วนใหญ่คล้ายคลึงกับภาคเหนือ
 - 4) ภาคใต้ - เป็นทิวเขาสูงต่อเนื่องตามแนวยาวของคาบสมุทร
18. ปัจจัยที่ควบคุมภูมิอากาศของประเทศไทยมีหลายอย่าง **ยกเว้น**ข้อใด
- 1) ที่ตั้งของประเทศไทยอยู่ในเขตร้อน
 - 2) ความใกล้และไกลจากอิทธิพลของทะเล
 - 3) ลมมรสุมตะวันออกเฉียงเหนือและลมมรสุมตะวันตกเฉียงใต้
 - 4) ลักษณะภูมิประเทศที่เป็นเทือกเขาสูงกั้นขวางทิศทางลม
19. ข้อใดเรียงลำดับความรุนแรงของลมพายุจากมากไปหาน้อยได้**ถูกต้อง**
- 1) ดีเปรสชัน ไชนร้อน ใต้ฝุ่น
 - 2) ใต้ฝุ่น ไชนร้อน ดีเปรสชัน
 - 3) ไชนร้อน ไซโคลน เฮอริเคน
 - 4) ใต้ฝุ่น ทอร์นาโด ไชนร้อน
20. ข้อใดเป็นผลที่เกิดขึ้นจากภาวะโลกร้อนชัดเจนที่สุด
- 1) การเกิดคลื่นความร้อน
 - 2) การเกิดปัญหาภัยแล้ง
 - 3) การเกิดพายุฟ้าคะนอง
 - 4) ระดับน้ำทะเลสูงขึ้น





วิชา สังคมศึกษาฯ (ชุดที่ 7)

แนวข้อสอบปลายปี ชั้น ป.5 ของหลักสูตรปกติ

เพื่อเตรียมสอบเรียนต่อ ชั้น **ป.6**

ชื่อ-นามสกุล..... เลขที่นั่งสอบ.....

สถานที่สอบ..... ห้องสอบ.....

คำอธิบาย

1. ข้อสอบชุดนี้ มีจำนวน 40 ข้อ คะแนนเต็ม 100 คะแนน ให้เวลาทำ 40 นาที
2. ในการทำข้อสอบ ให้เลือกคำตอบที่ถูกต้องหรือเหมาะสมที่สุด เพียงคำตอบเดียว กรณีข้อใดไม่มีตัวเลือกที่ถูกต้องให้ตอบตัวเลือกที่ 5) แทน
3. นักเรียนจะต้องพยายามทำข้อสอบและจับเวลาเหมือนกับการสอบแข่งขันจริง ห้ามใช้เวลาสอบเกินที่กำหนดและห้ามเปิดตำราดู หรือนำอุปกรณ์ช่วยในการคิดคำนวณมาใช้เด็ดขาด ทั้งนี้เพื่อประโยชน์ในการทดสอบวัดความรู้ของตัวนักเรียนเอง (อาจให้ผู้ปกครองช่วยควบคุมการสอบ หรืออาจใช้นาฬิกาปลุกตั้งเวลาก็ได้) เมื่อหมดเวลาสอบ ให้ตรวจคะแนนจากส่วนเฉลย เรื่องใดทำไม่ได้หรือทำผิดให้กลับไปอ่านหนังสือทบทวนใหม่

ข้อสอบชุดนี้จัดทำขึ้นโดยรวบรวม-ปรับปรุงมาจาก “คลังข้อสอบระดับประถมศึกษา 10 ปีล่าสุด” ของบัณฑิตแนะแนว ซึ่งเคยผ่านการใช้ทดสอบนักเรียนทั่วประเทศกว่า 50,000 คน มาแล้ว จึงเหมาะที่จะใช้ทบทวนความรู้และวัดผลตนเอง เพื่อพัฒนาความเป็นเลิศในแต่ละวิชาและเตรียมสอบแข่งขันในทุกสนาม



กระดาษคำตอบ

วิชา..... ชุดที่.....

ผลการสอบ

ทำได้ _____ คะแนน

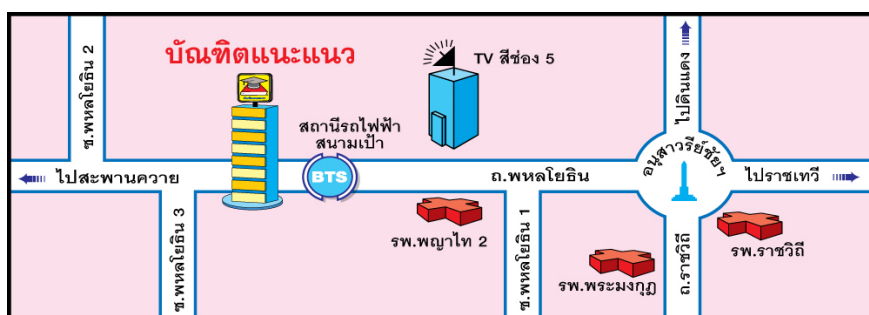
- | | | | | | | | | | | | | | | | | | | | | | | | |
|----|---|---|---|---|---|----|---|---|---|---|---|----|---|---|---|---|---|-----|---|---|---|---|---|
| 1 | ① | ② | ③ | ④ | ⑤ | 26 | ① | ② | ③ | ④ | ⑤ | 51 | ① | ② | ③ | ④ | ⑤ | 76 | ① | ② | ③ | ④ | ⑤ |
| 2 | ① | ② | ③ | ④ | ⑤ | 27 | ① | ② | ③ | ④ | ⑤ | 52 | ① | ② | ③ | ④ | ⑤ | 77 | ① | ② | ③ | ④ | ⑤ |
| 3 | ① | ② | ③ | ④ | ⑤ | 28 | ① | ② | ③ | ④ | ⑤ | 53 | ① | ② | ③ | ④ | ⑤ | 78 | ① | ② | ③ | ④ | ⑤ |
| 4 | ① | ② | ③ | ④ | ⑤ | 29 | ① | ② | ③ | ④ | ⑤ | 54 | ① | ② | ③ | ④ | ⑤ | 79 | ① | ② | ③ | ④ | ⑤ |
| 5 | ① | ② | ③ | ④ | ⑤ | 30 | ① | ② | ③ | ④ | ⑤ | 55 | ① | ② | ③ | ④ | ⑤ | 80 | ① | ② | ③ | ④ | ⑤ |
| 6 | ① | ② | ③ | ④ | ⑤ | 31 | ① | ② | ③ | ④ | ⑤ | 56 | ① | ② | ③ | ④ | ⑤ | 81 | ① | ② | ③ | ④ | ⑤ |
| 7 | ① | ② | ③ | ④ | ⑤ | 32 | ① | ② | ③ | ④ | ⑤ | 57 | ① | ② | ③ | ④ | ⑤ | 82 | ① | ② | ③ | ④ | ⑤ |
| 8 | ① | ② | ③ | ④ | ⑤ | 33 | ① | ② | ③ | ④ | ⑤ | 58 | ① | ② | ③ | ④ | ⑤ | 83 | ① | ② | ③ | ④ | ⑤ |
| 9 | ① | ② | ③ | ④ | ⑤ | 34 | ① | ② | ③ | ④ | ⑤ | 59 | ① | ② | ③ | ④ | ⑤ | 84 | ① | ② | ③ | ④ | ⑤ |
| 10 | ① | ② | ③ | ④ | ⑤ | 35 | ① | ② | ③ | ④ | ⑤ | 60 | ① | ② | ③ | ④ | ⑤ | 85 | ① | ② | ③ | ④ | ⑤ |
| 11 | ① | ② | ③ | ④ | ⑤ | 36 | ① | ② | ③ | ④ | ⑤ | 61 | ① | ② | ③ | ④ | ⑤ | 86 | ① | ② | ③ | ④ | ⑤ |
| 12 | ① | ② | ③ | ④ | ⑤ | 37 | ① | ② | ③ | ④ | ⑤ | 62 | ① | ② | ③ | ④ | ⑤ | 87 | ① | ② | ③ | ④ | ⑤ |
| 13 | ① | ② | ③ | ④ | ⑤ | 38 | ① | ② | ③ | ④ | ⑤ | 63 | ① | ② | ③ | ④ | ⑤ | 88 | ① | ② | ③ | ④ | ⑤ |
| 14 | ① | ② | ③ | ④ | ⑤ | 39 | ① | ② | ③ | ④ | ⑤ | 64 | ① | ② | ③ | ④ | ⑤ | 89 | ① | ② | ③ | ④ | ⑤ |
| 15 | ① | ② | ③ | ④ | ⑤ | 40 | ① | ② | ③ | ④ | ⑤ | 65 | ① | ② | ③ | ④ | ⑤ | 90 | ① | ② | ③ | ④ | ⑤ |
| 16 | ① | ② | ③ | ④ | ⑤ | 41 | ① | ② | ③ | ④ | ⑤ | 66 | ① | ② | ③ | ④ | ⑤ | 91 | ① | ② | ③ | ④ | ⑤ |
| 17 | ① | ② | ③ | ④ | ⑤ | 42 | ① | ② | ③ | ④ | ⑤ | 67 | ① | ② | ③ | ④ | ⑤ | 92 | ① | ② | ③ | ④ | ⑤ |
| 18 | ① | ② | ③ | ④ | ⑤ | 43 | ① | ② | ③ | ④ | ⑤ | 68 | ① | ② | ③ | ④ | ⑤ | 93 | ① | ② | ③ | ④ | ⑤ |
| 19 | ① | ② | ③ | ④ | ⑤ | 44 | ① | ② | ③ | ④ | ⑤ | 69 | ① | ② | ③ | ④ | ⑤ | 94 | ① | ② | ③ | ④ | ⑤ |
| 20 | ① | ② | ③ | ④ | ⑤ | 45 | ① | ② | ③ | ④ | ⑤ | 70 | ① | ② | ③ | ④ | ⑤ | 95 | ① | ② | ③ | ④ | ⑤ |
| 21 | ① | ② | ③ | ④ | ⑤ | 46 | ① | ② | ③ | ④ | ⑤ | 71 | ① | ② | ③ | ④ | ⑤ | 96 | ① | ② | ③ | ④ | ⑤ |
| 22 | ① | ② | ③ | ④ | ⑤ | 47 | ① | ② | ③ | ④ | ⑤ | 72 | ① | ② | ③ | ④ | ⑤ | 97 | ① | ② | ③ | ④ | ⑤ |
| 23 | ① | ② | ③ | ④ | ⑤ | 48 | ① | ② | ③ | ④ | ⑤ | 73 | ① | ② | ③ | ④ | ⑤ | 98 | ① | ② | ③ | ④ | ⑤ |
| 24 | ① | ② | ③ | ④ | ⑤ | 49 | ① | ② | ③ | ④ | ⑤ | 74 | ① | ② | ③ | ④ | ⑤ | 99 | ① | ② | ③ | ④ | ⑤ |
| 25 | ① | ② | ③ | ④ | ⑤ | 50 | ① | ② | ③ | ④ | ⑤ | 75 | ① | ② | ③ | ④ | ⑤ | 100 | ① | ② | ③ | ④ | ⑤ |

หลักเกณฑ์ในการประเมินผล

- ระดับที่ 1 กรณีทำคะแนนได้ต่ำกว่า 30%..... = อ่อนมาก
- ระดับที่ 2 กรณีทำคะแนนได้ระหว่าง 30-40%..... = อ่อน
- ระดับที่ 3 กรณีทำคะแนนได้ระหว่าง 41-50%..... = พอใช้
- ระดับที่ 4 กรณีทำคะแนนได้ระหว่าง 51-60%..... = เกือบดี
- ระดับที่ 5 กรณีทำคะแนนได้ระหว่าง 61-70%..... = ดี
- ระดับที่ 6 กรณีทำคะแนนได้มากกว่า 70%..... = ดีมาก

โปรดทราบ!

ตัวอย่างนี้จะโชว์เฉพาะหน้า 1-30 เท่านั้น
หากจะขอดูหนังสือทั้งเล่ม ต้องติดต่อที่
บัณฑิตแนะแนว (โทรศัพท์ 02-2794808)
หรือ ที่ร้านจำหน่ายหนังสือชั้นนำทั่วประเทศ



สำนักงานบัณฑิตแนะแนว 1033/4 ถ.พหลโยธิน สามเสนใน พญาไท กทม. 10400

เวลาทำงาน 08.00-17.00 น. Website : www.bunditnaenaew.com

ฝ่ายประชาสัมพันธ์ เปิดทุกวัน (จันทร์-อาทิตย์) โทรศัพท์ 02-2794808 แฟกซ์ 02-6171820

ตรงตามหลักสูตรใหม่

ชุด โจทย์ขั้นเทพ และคลังโจทย์... หนังสือชุดเดียวในประเทศไทย! ที่มี “ตารางสรุปค่าสถิติของนักเรียนทั่วประเทศ”

สำหรับใช้เปรียบเทียบเพื่อประเมินความสามารถของตัวเองในแต่ละวิชาได้อย่างชัดเจน จัดพิมพ์หลายเล่ม แยกตามระดับชั้น โจทย์ครอบคลุมและพลิกแพลงหลายรูปแบบ เพื่อความเป็นเลิศเหนือระดับ พร้อมเฉลยละเอียดเข้าใจง่าย เหมาะสำหรับใช้เตรียมสอบเพื่อวัดพื้นฐานความรู้, สอบคัดเลือกเข้าเรียนต่อ และสอบแข่งขันในทุกสนาม!



โจทย์ขั้นเทพ ประถม
ราคา 199 บาท



โจทย์ขั้นเทพ ม.ต้น
ราคา 299 บาท



คลังโจทย์ประถม
ราคา 199 บาท



คลังโจทย์ ม.ต้น
ราคา 299 บาท

ชุด TOP เป็นหนังสือสรุปเนื้อหาสำคัญ ตามหลักสูตรในแต่ละวิชาของแต่ละระดับชั้นพร้อมแบบฝึกหัดท้ายบท เหมาะสำหรับนักเรียนใช้อ่านทบทวนความรู้ก่อนมีประสิทธิภาพ เพื่อผลการสอบที่ยอดเยี่ยม

ชุด TEST เป็นหนังสือโจทย์แบบฝึกหัดเรียงตามบทเรียนแต่ละเรื่องของวิชานั้น ๆ เหมาะสำหรับนักเรียนใช้ฝึกทำเพื่อทบทวนและพัฒนาความรู้ด้วยตัวเอง เพราะจะมีโจทย์ ที่ออกครอบคลุมทุกเรื่องครบถ้วนและพลิกแพลง ตั้งแต่ง่ายไปหายาก พร้อมเฉลยอย่างละเอียด

หนังสือทั้ง **ชุด TOP** และ **ชุด TEST** จัดพิมพ์ด้วยกระดาษ BOOK PAPER อย่างดี โดยระดับประถมศึกษา แยกเป็น 6 ชั้น ๆ ละ 5 วิชา คือ คณิตศาสตร์, วิทยาศาสตร์, ภาษาอังกฤษ, ภาษาไทย และสังคมศึกษา ดังนี้



TOP ป.1-ป.3
ราคา 89 บาท



TOP ป.4-ป.6
ราคา 109 บาท



TEST ป.1-ป.3
ราคา 69 บาท



TEST ป.4-ป.6
ราคา 79 บาท

ชุด เตรียมสอบ NT & O NET และสอบเรียนต่อ เพื่อเตรียมสอบ NT & O-NET และ สอบคัดเลือกเข้าเรียนต่อ มีหลายเล่ม



คู่มือสอบ O-NET/NT ชั้นป.6
ราคา 109 บาท



เฉลยข้อสอบจริงเข้า ม.1
ราคา 159 บาท



คัมภีร์สอบเข้า ม.1 สาธิต
ราคา 299 บาท



ชุดสอบเก่งเข้าม.1
ราคา 159 บาท

มีวางจำหน่ายที่ร้านหนังสือชั้นนำทั่วประเทศ หรือสั่งซื้อโดยตรงที่



บัณฑิตแนะแนว

1033/4 ต.พหลโยธิน ตามเสนใน พญาไท กทม. 10400

โทรศัพท์ 02-2794808 แฟกซ์ 02-6171820 www.bunditnae-naew.com



กว่า 30 ปี ในวงการศึกษากับ 4 ผลงานคุณภาพที่สร้างสรรค์เพื่อเยาวชนไทย

1

ศูนย์จัดสอบวัดความรู้



จัดสอบ PRE-TEST ด้วยข้อสอบมาตรฐานพร้อมกันทั่วประเทศ ปีละกว่า 200,000 คน โดยแบ่งการสอบออกเป็น 3 กลุ่ม ตามระดับการศึกษาของนักเรียน คือ ระดับประถมศึกษา (ป.2-ป.6), ระดับมัธยมต้น (ม.1-ม.3) และระดับมัธยมปลาย (ม.4-ม.6) เพื่อให้ นักเรียน ทราบระดับความสามารถทางวิชาการของตนเอง จนใช้เป็นแนวทางในการเลือกสถานศึกษาต่อและอาชีพได้อย่างเหมาะสม

2

ศูนย์ผลิตตำราและสำนักพิมพ์



ผลิตและจำหน่ายหนังสือคู่มือประกอบการเรียนตั้งแต่ประถม-มัธยมปลาย ด้วยความโดดเด่นของเนื้อหาที่อ่านเข้าใจง่าย ครบถ้วนตรงตามบทเรียน ทั้งเทอมต้น-เทอมปลาย เพิ่มศักยภาพในการเรียนและเตรียมตัวสอบสำหรับทุกระดับชั้น

3

ศูนย์กวดวิชาแนวใหม่



รูปแบบใหม่ของการกวดวิชา เปิดสอนตั้งแต่ระดับประถม-ม.ปลาย ดำเนินการสอนโดยทีมอาจารย์ชั้นนำของประเทศไทยที่มีเทคนิคการถ่ายทอดความรู้ให้เข้าใจง่าย เน้นปูพื้นฐานให้แน่น เสริมด้วยกระบวนการสอบ เพื่อวัดและพัฒนาความรู้ตลอดหลักสูตร โดยมีเจ้าหน้าที่แนะแนว คอยดูแลอย่างใกล้ชิด

4

ศูนย์บริการด้านแนะแนว



การเริ่มและบุกเบิกงานแนะแนวที่เปิดให้บริการแก่โรงเรียน, ครู, ผู้ปกครอง และ นักเรียน ทั่วประเทศ ตลอดเวลากว่า 30 ปีที่ผ่านมา เป็นผลงานอีกด้านหนึ่งที่เรารู้จัก ทั้งในเรื่องของการรวบรวมข้อมูล-ข่าวสาร, ผลิตสื่อและบริการต่าง ๆ ทางด้านแนะแนวออกเผยแพร่

คัมภีร์พิชิตข้อสอบ ป.6 สังคมศึกษา

ISBN 978-616-504-326-7



ราคา 159 บาท