



# คลัง โจทย์

## ป.5

### เล่ม 2



### รวมโจทย์ 8 กลุ่มสาระ:

คณิตศาสตร์ ภาษาไทย วิทยาศาสตร์ ภาษาอังกฤษ สังคมศึกษา  
สุขศึกษา พลศึกษา ศิลปะ และการงานอาชีพฯ



- | เจลยแบบอติ บายละเอียดทุกวิชา
- | แบบฝึก กัดที่ช่วยเสริมความเข้าใจ เพิ่มความเป็นเลิศเหนือระดับในชั้นเรียน
- | ครบถ้วน ครอบคลุมเนื้อหาเทอมต้น-เทอมปลาย

**เล่มเดียวในประเทศก็มี** ตารางสรุปค่าสถิติของนักเรียนทั่วประเทศ  
สำหรับใช้เปรียบเทียบเพื่อประเมินความสามารถของตนเองในแต่ละวิชาได้อย่างชัดเจน



## คำนำ

**คลังโจทย์ ชั้น ป.5** เป็นหนังสือคู่มือเตรียมสอบแนวใหม่ เหมาะอย่างยิ่งสำหรับนักเรียน สำหรับใช้ทบทวนความรู้-วัดผลตัวเอง เพื่อพัฒนาความเป็นเลิศในแต่ละวิชาและเตรียมสอบศึกษาต่อในระดับชั้นที่สูงขึ้น ซึ่งปัจจุบันมีอัตราการแข่งขันสูงขึ้นทุกปี ในเล่มจะประกอบด้วยแบบทดสอบ ครบทั้ง 8 กลุ่มสาระ คือ คณิตศาสตร์, วิทยาศาสตร์, ภาษาอังกฤษ, ภาษาไทย, สังคมศึกษา และสุขศึกษา-พลศึกษา วิชาละ 2 ชุด โดยในแต่ละวิชาจะมีเนื้อหาครอบคลุมตามหลักสูตรใหม่ของกระทรวงศึกษาธิการ มีระดับความยาก-ง่าย และพลิกแพลงตามแนวข้อสอบแข่งขันระดับประเทศ และยังได้จัดพิมพ์เฉลยอย่างละเอียด พร้อมแนวการประเมินผลของข้อสอบแต่ละชุดให้อีก เพื่อให้ นักเรียนสามารถอ่านทำความเข้าใจและประเมินผลคะแนนที่ทำได้ด้วยตัวเอง

อนึ่ง **คลังโจทย์** เล่มนี้ เป็นส่วนหนึ่งของหนังสือชุด **“โจทย์ขั้นเทพ และ คลังโจทย์”** ที่จัดทำขึ้นแยกเป็น 2 ชุดใหญ่ๆ โดยรวบรวม-ปรับปรุงมาจาก **“คลังข้อสอบของบัณฑิตแนะแนว”** ซึ่งได้เคยผ่านการใช้สอบวัดความรู้นักเรียนทั่วประเทศในแต่ละปีกว่า 100,000 คนมาแล้ว ดังนี้

**1. ชุด โจทย์ขั้นเทพ** เป็นหนังสือรวมโจทย์ข้อสอบระดับสูง เช่น ข้อสอบแข่งขัน, ข้อสอบชิงทุน หรือข้อสอบคัดเลือกเข้าเรียนต่อในสถาบันชั้นนำ ปัจจุบันจัดพิมพ์แยกเป็นหลายเล่ม ตามระดับชั้นของนักเรียน

**2. ชุด คลังโจทย์** เป็นหนังสือรวมโจทย์ข้อสอบวัดพื้นฐานความรู้ในแต่ละวิชาของชั้นนั้นๆ เหมาะสำหรับฝึกทำหาประสบการณ์ และเพิ่มเกรดให้สูงขึ้น ปัจจุบันจัดพิมพ์แยกเป็นหลายเล่ม ตามระดับชั้นของนักเรียน

สำนักงานบัณฑิตแนะแนวหวังเป็นอย่างยิ่งว่า หนังสือชุด **“โจทย์ขั้นเทพ และ คลังโจทย์”** เล่มนี้จะเป็นประโยชน์สำหรับผู้ที่จะมีไว้ศึกษาค้นคว้า และใช้เป็นแนวทางในการเตรียมตัวสอบให้ประสบความสำเร็จ และหากพบข้อบกพร่องประการใดโปรดแจ้งให้ทราบด้วย เพื่อจะได้ปรับปรุงให้ดียิ่งขึ้นในโอกาสต่อไป

**สำนักงานบัณฑิตแนะแนว**

### คลังโจทย์ ชั้น ป.5 (เล่ม 2)

**กองบรรณาธิการ :** ไพจิตร คุภพิมล กัญญาณัฐ ฟูผล สิทธิชัย นิยมสิทธิ์ วิภาพร ประมวล เพียววารี ชาวบ้านช่อง สุจิตตา ไชยจันลา สาริกา โกยรัมย์ เพชรไพลิน รอดนาค ประไพพร ไข่มวง วุฒิภัทร จันทรินาค อธิยุทธ์ พงษ์ศิริรัตน์ ปรีดาวรรณ ชลชีพ สันติ วิเศษสุทธิ ณรงค์ศักดิ์ รอดนาค

**เจ้าของ :** สำนักงานบัณฑิตแนะแนว โทรศัพท์ 02-2794808 แฟกซ์ 02-6171820

เลขที่ 1033/4 ถนนพหลโยธิน แขวงสามเสนใน เขตพญาไท กทม. 10400

**พิมพ์ที่ :** ห้างหุ้นส่วนจำกัดรุ่งเรืองสาส์นการพิมพ์

เลขที่ 195/6 หมู่ 5 ซอยพุทธบูชา 44 แขวงบางมด เขตทุ่งครุ กทม. 10140 โทรศัพท์ 02-8706301-3

**สงวนลิขสิทธิ์ตามพระราชบัญญัติ พ.ศ. 2537 :** ห้ามลอกเลียน คัดลอก จัดพิมพ์ หรือทำซ้ำ

ไม่ว่าส่วนใดส่วนหนึ่งของหนังสือเล่มนี้ก่อนได้รับอนุญาตเป็นลายลักษณ์อักษร

# สารบัญ

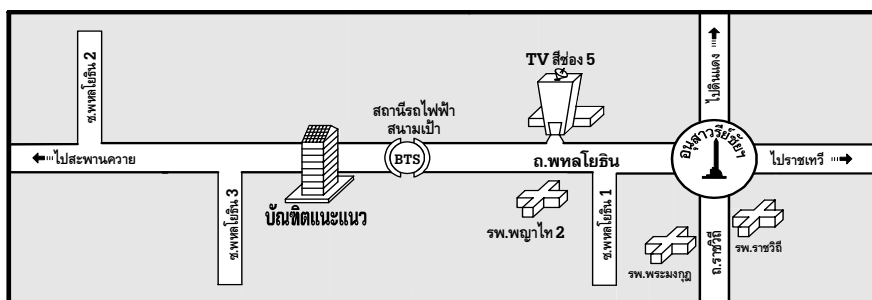
## ส่วนที่ 1 : คลังโจทย์ ชั้น ป.5 (เล่ม 2)

- คลังโจทย์ ชั้น ป.5	วิชาคณิตศาสตร์ (ชุดที่ 1)	.....	3
- คลังโจทย์ ชั้น ป.5	วิชาภาษาไทย (ชุดที่ 1)	.....	13
- คลังโจทย์ ชั้น ป.5	วิชาวิทยาศาสตร์ (ชุดที่ 1)	.....	21
- คลังโจทย์ ชั้น ป.5	วิชาสังคมศึกษา (ชุดที่ 1)	.....	31
- คลังโจทย์ ชั้น ป.5	วิชาภาษาอังกฤษ (ชุดที่ 1)	.....	39
- คลังโจทย์ ชั้น ป.5	วิชาคณิตศาสตร์ (ชุดที่ 2)	.....	47
- คลังโจทย์ ชั้น ป.5	วิชาภาษาไทย (ชุดที่ 2)	.....	57
- คลังโจทย์ ชั้น ป.5	วิชาวิทยาศาสตร์ (ชุดที่ 2)	.....	65
- คลังโจทย์ ชั้น ป.5	วิชาสังคมศึกษา (ชุดที่ 2)	.....	77
- คลังโจทย์ ชั้น ป.5	วิชาภาษาอังกฤษ (ชุดที่ 2)	.....	85
- คลังโจทย์ ชั้น ป.5	วิชา LAS-NT & ONET (8 กลุ่มสาระ)	.....	93

## ส่วนที่ 2 : เฉลยคลังโจทย์ ชั้น ป.5 (เล่ม 2)

- เฉลยคลังโจทย์ ชั้น ป.5 (ชุดที่ 1)	.....	120
- เฉลยคลังโจทย์ ชั้น ป.5 (ชุดที่ 2)	.....	169
- เฉลยคลังโจทย์ ชั้น ป.5 วิชา LAS-NT & ONET (8 กลุ่มสาระ)	.....	215

<b>ภาคผนวก :</b> คำอธิบาย “วิธีใช้ตารางสรุปค่าสถิติของนักเรียนทั่วประเทศ”	.....	240
---	-------	-----



สำนักงานบัณฑิตแนะแนว 1033/4 ถ.พหลโยธิน สามเสนใน พญาไท กทม. 10400

เวลาทำงาน 08.00-17.00 น. Website : [www.bunditnaeaw.com](http://www.bunditnaeaw.com)

ฝ่ายประชาสัมพันธ์ เปิดทุกวัน (จันทร์-อาทิตย์) โทรศัพท์ 02-2794808 แฟกซ์ 02-6171820

ฝ่ายประสานงานโรงเรียน-ร้านค้า เปิดเฉพาะวันจันทร์-วันศุกร์ โทรศัพท์ 02-2794433 แฟกซ์ 02-2796611



ข้อสอบเสริมประสบการณ์เพื่อวัดความรู้ระดับประถมศึกษา  
**คลังใจไทย ชั้น ป.5**  
**วิชา คณิตศาสตร์ (ชุดที่ 1)**

ชื่อ-นามสกุล..... เลขที่นั่งสอบ.....

สถานที่สอบ..... ห้องสอบ.....

### คำอธิบาย

1. ข้อสอบชุดนี้ มีจำนวน 50 ข้อ คะแนนเต็ม 100 คะแนน ให้เวลาทำ 1 ชั่วโมง
2. ในการทำข้อสอบ ให้เลือกคำตอบที่ถูกต้องหรือเหมาะสมที่สุด เพียงคำตอบเดียว กรณีข้อใดไม่มีตัวเลือกที่ถูกต้องให้ตอบตัวเลือกที่ 5) แทน
3. นักเรียนจะต้องพยายามทำข้อสอบและจับเวลาเหมือนกับการสอบแข่งขันจริง ห้ามใช้เวลาสอบเกินที่กำหนดและห้ามเปิดตำราดู หรือนำอุปกรณ์ช่วยในการคิดคำนวณมาใช้เด็ดขาด ทั้งนี้เพื่อประโยชน์ในการทดสอบวัดความรู้ของตัวนักเรียนเอง (อาจให้ผู้ปกครองช่วยควบคุมการสอบ หรืออาจใช้นาฬิกาปลุกตั้งเวลาก็ได้) เมื่อหมดเวลาสอบ ให้ตรวจคะแนนจากส่วนเฉลย เรื่องใดทำไม่ได้หรือทำผิดให้กลับไปอ่านหนังสือทบทวนใหม่
4. การประเมินผล นักเรียนสามารถนำ “คะแนนสอบที่ทำได้” ไปเปรียบเทียบกับ ตารางสรุปค่าสถิติในวิชานี้ของนักเรียนทั่วประเทศ (หลังปกข้อสอบนี้) ก็จะให้เห็นระดับความสามารถของตัวเองได้อย่างชัดเจน

ข้อสอบชุดนี้จัดทำขึ้นโดยรวบรวม-ปรับปรุงมาจาก “ข้อสอบ PRE-ประถมศึกษา 5 ปีล่าสุด” ของบัณฑิตแนะแนว ซึ่งเคยผ่านการใช้ทดสอบนักเรียนทั่วประเทศกว่า 50,000 คน มาแล้ว จึงเหมาะที่จะใช้ทบทวนความรู้และวัดผลตนเอง เพื่อพัฒนาความเป็นเลิศในแต่ละวิชาและเตรียมสอบแข่งขันในทุกสนาม

## ตารางสรุปค่าสถิติวิชานี้ของนักเรียนทั่วประเทศ

ที่เคยเข้าสอบ PRE-ประถมศึกษา ในวิชา คณิตศาสตร์ (ชุดที่ 1)

เมื่อสอบเสร็จให้นำ “คะแนนที่ทำได้” มาเปรียบเทียบกับวัดความสามารถกับ “ค่าสถิติ” นี้ได้เลย

ภาค	สูงสุด (MAXIMUM)	ฐานนิยม (MODE)	มัธยฐาน (MEDIAN)	ค่าเฉลี่ย (MEAN)
กทม.	98.00	26.00	26.00	26.10
เหนือ	96.00	26.00	26.00	28.86
ใต้	88.00	24.00	26.00	26.48
อีสาน	98.00	24.00	26.00	28.12
ตะวันออก	96.00	26.00	26.00	28.70
กลาง-ตะวันตก	94.00	26.00	26.00	28.11
<b>รวมทั้งประเทศ</b>	<b>98.00%</b>	<b>26.00%</b>	<b>26.00%</b>	<b>27.64%</b>

ช่วงคะแนน (%)	จำนวนนักเรียน (%) ที่ทำคะแนนสอบวิชานี้ได้ในแต่ละช่วงของแต่ละภาค						
	กทม.	เหนือ	ใต้	อีสาน	ตะวันออก	กลาง	ทั้งประเทศ
0-10	0.99	0.64	0.59	1.73	0.81	0.71	0.90
>10-20	23.42	21.04	23.95	22.96	21.61	21.24	22.42
>20-30	54.56	48.99	52.91	47.69	44.36	49.12	50.06
>30-40	17.08	19.75	18.50	18.04	22.42	21.53	19.42
>40-50	3.15	3.64	2.40	4.40	7.18	3.99	3.84
>50-60	0.45	2.26	0.77	2.12	2.50	1.30	1.45
>60-70	0.13	1.79	0.66	2.03	0.48	0.65	0.97
>70-80	0.05	1.29	0.18	0.82	0.16	1.00	0.63
>80-90	0.13	0.51	0.04	0.17	0.40	0.36	0.25
>90-100	0.04	0.09	0.00	0.04	0.08	0.10	0.06
<b>รวม</b>	<b>100%</b>	<b>100%</b>	<b>100%</b>	<b>100%</b>	<b>100%</b>	<b>100%</b>	<b>100%</b>

คู่มืออธิบาย “วิธีใช้ตารางสรุปค่าสถิติของนักเรียนทั่วประเทศ” ได้ที่หน้าสุดท้ายของเล่ม



# กระดาษคำตอบ

วิชา.....

# ผลการสอบ

ทำได้ \_\_\_\_\_ คะแนน

- |    |   |   |   |   |   |    |   |   |   |   |   |     |   |   |   |   |   |     |   |   |   |   |   |
|----|---|---|---|---|---|----|---|---|---|---|---|-----|---|---|---|---|---|-----|---|---|---|---|---|
| 1  | ① | ② | ③ | ④ | ⑤ | 41 | ① | ② | ③ | ④ | ⑤ | 81  | ① | ② | ③ | ④ | ⑤ | 121 | ① | ② | ③ | ④ | ⑤ |
| 2  | ① | ② | ③ | ④ | ⑤ | 42 | ① | ② | ③ | ④ | ⑤ | 82  | ① | ② | ③ | ④ | ⑤ | 122 | ① | ② | ③ | ④ | ⑤ |
| 3  | ① | ② | ③ | ④ | ⑤ | 43 | ① | ② | ③ | ④ | ⑤ | 83  | ① | ② | ③ | ④ | ⑤ | 123 | ① | ② | ③ | ④ | ⑤ |
| 4  | ① | ② | ③ | ④ | ⑤ | 44 | ① | ② | ③ | ④ | ⑤ | 84  | ① | ② | ③ | ④ | ⑤ | 124 | ① | ② | ③ | ④ | ⑤ |
| 5  | ① | ② | ③ | ④ | ⑤ | 45 | ① | ② | ③ | ④ | ⑤ | 85  | ① | ② | ③ | ④ | ⑤ | 125 | ① | ② | ③ | ④ | ⑤ |
| 6  | ① | ② | ③ | ④ | ⑤ | 46 | ① | ② | ③ | ④ | ⑤ | 86  | ① | ② | ③ | ④ | ⑤ | 126 | ① | ② | ③ | ④ | ⑤ |
| 7  | ① | ② | ③ | ④ | ⑤ | 47 | ① | ② | ③ | ④ | ⑤ | 87  | ① | ② | ③ | ④ | ⑤ | 127 | ① | ② | ③ | ④ | ⑤ |
| 8  | ① | ② | ③ | ④ | ⑤ | 48 | ① | ② | ③ | ④ | ⑤ | 88  | ① | ② | ③ | ④ | ⑤ | 128 | ① | ② | ③ | ④ | ⑤ |
| 9  | ① | ② | ③ | ④ | ⑤ | 49 | ① | ② | ③ | ④ | ⑤ | 89  | ① | ② | ③ | ④ | ⑤ | 129 | ① | ② | ③ | ④ | ⑤ |
| 10 | ① | ② | ③ | ④ | ⑤ | 50 | ① | ② | ③ | ④ | ⑤ | 90  | ① | ② | ③ | ④ | ⑤ | 130 | ① | ② | ③ | ④ | ⑤ |
| 11 | ① | ② | ③ | ④ | ⑤ | 51 | ① | ② | ③ | ④ | ⑤ | 91  | ① | ② | ③ | ④ | ⑤ | 131 | ① | ② | ③ | ④ | ⑤ |
| 12 | ① | ② | ③ | ④ | ⑤ | 52 | ① | ② | ③ | ④ | ⑤ | 92  | ① | ② | ③ | ④ | ⑤ | 132 | ① | ② | ③ | ④ | ⑤ |
| 13 | ① | ② | ③ | ④ | ⑤ | 53 | ① | ② | ③ | ④ | ⑤ | 93  | ① | ② | ③ | ④ | ⑤ | 133 | ① | ② | ③ | ④ | ⑤ |
| 14 | ① | ② | ③ | ④ | ⑤ | 54 | ① | ② | ③ | ④ | ⑤ | 94  | ① | ② | ③ | ④ | ⑤ | 134 | ① | ② | ③ | ④ | ⑤ |
| 15 | ① | ② | ③ | ④ | ⑤ | 55 | ① | ② | ③ | ④ | ⑤ | 95  | ① | ② | ③ | ④ | ⑤ | 135 | ① | ② | ③ | ④ | ⑤ |
| 16 | ① | ② | ③ | ④ | ⑤ | 56 | ① | ② | ③ | ④ | ⑤ | 96  | ① | ② | ③ | ④ | ⑤ | 136 | ① | ② | ③ | ④ | ⑤ |
| 17 | ① | ② | ③ | ④ | ⑤ | 57 | ① | ② | ③ | ④ | ⑤ | 97  | ① | ② | ③ | ④ | ⑤ | 137 | ① | ② | ③ | ④ | ⑤ |
| 18 | ① | ② | ③ | ④ | ⑤ | 58 | ① | ② | ③ | ④ | ⑤ | 98  | ① | ② | ③ | ④ | ⑤ | 138 | ① | ② | ③ | ④ | ⑤ |
| 19 | ① | ② | ③ | ④ | ⑤ | 59 | ① | ② | ③ | ④ | ⑤ | 99  | ① | ② | ③ | ④ | ⑤ | 139 | ① | ② | ③ | ④ | ⑤ |
| 20 | ① | ② | ③ | ④ | ⑤ | 60 | ① | ② | ③ | ④ | ⑤ | 100 | ① | ② | ③ | ④ | ⑤ | 140 | ① | ② | ③ | ④ | ⑤ |
| 21 | ① | ② | ③ | ④ | ⑤ | 61 | ① | ② | ③ | ④ | ⑤ | 101 | ① | ② | ③ | ④ | ⑤ | 141 | ① | ② | ③ | ④ | ⑤ |
| 22 | ① | ② | ③ | ④ | ⑤ | 62 | ① | ② | ③ | ④ | ⑤ | 102 | ① | ② | ③ | ④ | ⑤ | 142 | ① | ② | ③ | ④ | ⑤ |
| 23 | ① | ② | ③ | ④ | ⑤ | 63 | ① | ② | ③ | ④ | ⑤ | 103 | ① | ② | ③ | ④ | ⑤ | 143 | ① | ② | ③ | ④ | ⑤ |
| 24 | ① | ② | ③ | ④ | ⑤ | 64 | ① | ② | ③ | ④ | ⑤ | 104 | ① | ② | ③ | ④ | ⑤ | 144 | ① | ② | ③ | ④ | ⑤ |
| 25 | ① | ② | ③ | ④ | ⑤ | 65 | ① | ② | ③ | ④ | ⑤ | 105 | ① | ② | ③ | ④ | ⑤ | 145 | ① | ② | ③ | ④ | ⑤ |
| 26 | ① | ② | ③ | ④ | ⑤ | 66 | ① | ② | ③ | ④ | ⑤ | 106 | ① | ② | ③ | ④ | ⑤ | 146 | ① | ② | ③ | ④ | ⑤ |
| 27 | ① | ② | ③ | ④ | ⑤ | 67 | ① | ② | ③ | ④ | ⑤ | 107 | ① | ② | ③ | ④ | ⑤ | 147 | ① | ② | ③ | ④ | ⑤ |
| 28 | ① | ② | ③ | ④ | ⑤ | 68 | ① | ② | ③ | ④ | ⑤ | 108 | ① | ② | ③ | ④ | ⑤ | 148 | ① | ② | ③ | ④ | ⑤ |
| 29 | ① | ② | ③ | ④ | ⑤ | 69 | ① | ② | ③ | ④ | ⑤ | 109 | ① | ② | ③ | ④ | ⑤ | 149 | ① | ② | ③ | ④ | ⑤ |
| 30 | ① | ② | ③ | ④ | ⑤ | 70 | ① | ② | ③ | ④ | ⑤ | 110 | ① | ② | ③ | ④ | ⑤ | 150 | ① | ② | ③ | ④ | ⑤ |
| 31 | ① | ② | ③ | ④ | ⑤ | 71 | ① | ② | ③ | ④ | ⑤ | 111 | ① | ② | ③ | ④ | ⑤ | 151 | ① | ② | ③ | ④ | ⑤ |
| 32 | ① | ② | ③ | ④ | ⑤ | 72 | ① | ② | ③ | ④ | ⑤ | 112 | ① | ② | ③ | ④ | ⑤ | 152 | ① | ② | ③ | ④ | ⑤ |
| 33 | ① | ② | ③ | ④ | ⑤ | 73 | ① | ② | ③ | ④ | ⑤ | 113 | ① | ② | ③ | ④ | ⑤ | 153 | ① | ② | ③ | ④ | ⑤ |
| 34 | ① | ② | ③ | ④ | ⑤ | 74 | ① | ② | ③ | ④ | ⑤ | 114 | ① | ② | ③ | ④ | ⑤ | 154 | ① | ② | ③ | ④ | ⑤ |
| 35 | ① | ② | ③ | ④ | ⑤ | 75 | ① | ② | ③ | ④ | ⑤ | 115 | ① | ② | ③ | ④ | ⑤ | 155 | ① | ② | ③ | ④ | ⑤ |
| 36 | ① | ② | ③ | ④ | ⑤ | 76 | ① | ② | ③ | ④ | ⑤ | 116 | ① | ② | ③ | ④ | ⑤ | 156 | ① | ② | ③ | ④ | ⑤ |
| 37 | ① | ② | ③ | ④ | ⑤ | 77 | ① | ② | ③ | ④ | ⑤ | 117 | ① | ② | ③ | ④ | ⑤ | 157 | ① | ② | ③ | ④ | ⑤ |
| 38 | ① | ② | ③ | ④ | ⑤ | 78 | ① | ② | ③ | ④ | ⑤ | 118 | ① | ② | ③ | ④ | ⑤ | 158 | ① | ② | ③ | ④ | ⑤ |
| 39 | ① | ② | ③ | ④ | ⑤ | 79 | ① | ② | ③ | ④ | ⑤ | 119 | ① | ② | ③ | ④ | ⑤ | 159 | ① | ② | ③ | ④ | ⑤ |
| 40 | ① | ② | ③ | ④ | ⑤ | 80 | ① | ② | ③ | ④ | ⑤ | 120 | ① | ② | ③ | ④ | ⑤ | 160 | ① | ② | ③ | ④ | ⑤ |

**1. ข้อใดถูกต้อง**

1)  $6 - (2 + 3) = 6 - 2 + 3$

2)  $2(a + b) - 1 = 2a + 2b - 2$

3)  $63 \times 512 = (63 \times 500) + (63 \times 10) + (63 \times 2)$

4)  $4,603.725 = (4 \times 1,000) + (6 \times 100) + (3 \times 10) + \left(7 \times \frac{1}{10}\right) + \left(2 \times \frac{1}{100}\right) + \left(5 \times \frac{1}{1,000}\right)$

**2. กำหนดแบบรูปและความสัมพันธ์ดังต่อไปนี้**

1, 4, 9, 16, ...

พจน์ที่ 14 มีค่าเท่าใด

1) 28

2) 186

3) 196

4) 256

**3. แม่ค้าซื้อมะนาวมา 100 ลูก เป็นเงิน 450 บาท นำมาขายต่อ 4 ลูก 25 บาท เมื่อขายหมดจะได้กำไรกี่บาท**

1) 175 บาท

2) 275 บาท

3) 375 บาท

4) 625 บาท

**4. กำหนด  $\underbrace{a \times a \times a \times \dots \times a}_n \text{ จำนวน} = a^n$  แล้วผลคูณของ  $2^5 \times 5^5$  มีค่าเท่าใด**

1)  $10^5$

2)  $10^6$

3)  $10^{10}$

4)  $10^{25}$

**5. จำนวน 375,234 เลข 7 มีค่าประจำตำแหน่งเป็นกี่เท่าของค่าประจำตำแหน่งของเลข 2**

1) 0.01

2) 10

3) 100

4) 350

**6. ระยะทางจากบ้านถึงโรงเรียนเท่ากับ 30 กิโลเมตร เมื่อเดินทางไปกลับสัปดาห์ละ 5 วัน เสียค่าเดินทางสัปดาห์ละ 1,500 บาท อยากทราบว่าค่าเดินทางโดยเฉลี่ยกี่โลเมตรละกิโลบาท**

1) 5 บาท

2) 10 บาท

3) 100 บาท

4) 500 บาท

**7. ผลลัพธ์ของ  $36 \times 14 \div 7 + 20 - 8 \div 4$  มีค่าเท่าใด**

1) 20

2) 21

3) 75

4) 90

**8. เศษส่วนในข้อใดมีค่าแตกต่างจากข้ออื่น**

1)  $\frac{117}{252}$

2)  $\frac{108}{168}$

3)  $\frac{36}{56}$

4)  $\frac{9}{14}$







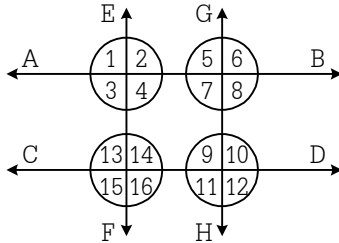




31. วงกลมที่มีพื้นที่ 38.5 ตารางเซนติเมตร จะมีเส้นรอบรูปยาวกี่เซนติเมตร

- 1) 22 เซนติเมตร
- 2) 14 เซนติเมตร
- 3) 6.125 เซนติเมตร
- 4) 2.2 เซนติเมตร

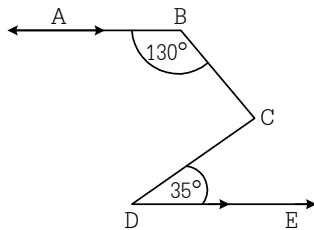
32.



จากรูป ข้อใดไม่ถูกต้อง

- 1) ถ้า  $\overrightarrow{AB} \parallel \overrightarrow{CD}$  แล้ว  $\hat{4} + \hat{14} = 180^\circ$
- 2) ถ้า  $\hat{1} = \hat{5}$  แล้ว  $\overrightarrow{EF} \parallel \overrightarrow{GH}$
- 3) ถ้า  $\hat{13} = \hat{9}$  แล้ว  $\overrightarrow{EF} \parallel \overrightarrow{GH}$
- 4) ถ้า  $\overrightarrow{AB} \parallel \overrightarrow{CD}$  แล้ว  $\hat{5} = \hat{10}$

33.



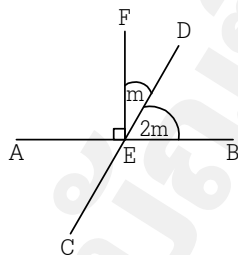
จากรูป  $\overrightarrow{BA} \parallel \overrightarrow{DE}$  แล้วมุม BCD กางกึ่งค่า

- 1)  $35^\circ$
- 2)  $55^\circ$
- 3)  $85^\circ$
- 4)  $90^\circ$

34. ข้อใดถูกต้อง

- 1)  $6^4 = 6^2 + 6^2$
- 2) ถ้า  $x = \frac{1}{3}$  แล้ว  $(3x - \frac{1}{3})^2 = \frac{4}{9}$
- 3) รูปห้าเหลี่ยมด้านเท่าที่มีเส้นทแยงมุมทั้งหมด 4 เส้น
- 4) ถูกมากกว่า 1 ข้อ

35.



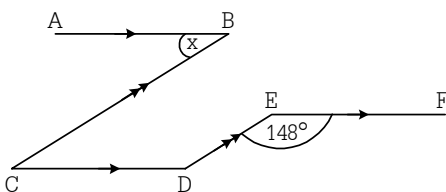
จากรูป ถ้าแบ่งครึ่งมุม m จะได้มุมที่มีขนาดเท่าใด

- 1)  $15^\circ$
- 2)  $30^\circ$
- 3)  $45^\circ$
- 4)  $60^\circ$

36. จากข้อ 35 มุม BEC กางกึ่งค่า

- 1)  $100^\circ$
- 2)  $120^\circ$
- 3)  $150^\circ$
- 4)  $160^\circ$

37.

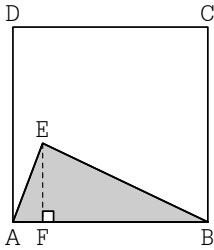


จากรูป  $\overrightarrow{AB} \parallel \overrightarrow{CD} \parallel \overrightarrow{EF}$ ,  $\overrightarrow{BC} \parallel \overrightarrow{DE}$  และ  $\hat{DEF} = 148^\circ$  แล้วมุมประกอบ 1 มุมจากของ x มีขนาดกี่องศา

- 1)  $32^\circ$
- 2)  $48^\circ$
- 3)  $58^\circ$
- 4)  $90^\circ$



38.



จากรูป สี่เหลี่ยมจัตุรัส ABCD มีด้านยาวด้านละ 2 นิ้ว และ  $EF = \frac{2}{5} AD$  อยากทราบว่าบริเวณที่ไม่แรเงามีพื้นที่กี่ตารางนิ้ว

- 1) 0.8 ตารางนิ้ว
- 2) 2.4 ตารางนิ้ว
- 3) 3.2 ตารางนิ้ว
- 4) 4.0 ตารางนิ้ว

39. ลวดเส้นหนึ่งนำไปขดเป็นรูปสี่เหลี่ยมจัตุรัส จะมีพื้นที่ 49 ตารางนิ้ว ถ้านำลวดเส้นนี้ไปขดเป็นรูปวงกลม จะได้พื้นที่มากกว่าหรือน้อยกว่ารูปสี่เหลี่ยมจัตุรัสกี่ตารางนิ้ว

- 1) น้อยกว่า 23.36 ตารางนิ้ว
- 2) น้อยกว่า 13.36 ตารางนิ้ว
- 3) มากกว่า 23.36 ตารางนิ้ว
- 4) มากกว่า 13.36 ตารางนิ้ว

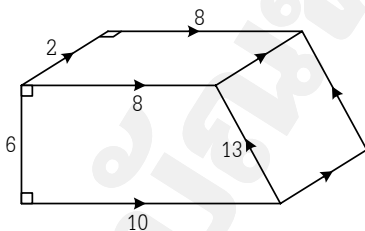
40. ข้อใดกล่าวถูกต้อง

- 1) พื้นที่ผิวทุกหน้าของรูปลูกบาศก์มีขนาดเท่ากัน
- 2) พื้นที่ผิวข้างของทรงกระบอกเป็นรูปวงกลม
- 3) พื้นที่ผิวข้างของปริซึมฐานห้าเหลี่ยมเป็นรูปสามเหลี่ยม
- 4) พื้นที่ผิวข้างของพีระมิดฐานสี่เหลี่ยมเป็นรูปสี่เหลี่ยม

41. สี่เหลี่ยมมุมฉากรูปหนึ่งมีด้านกว้างยาว a หน่วย และด้านยาวยาว b หน่วย ถัด้านกว้างลดลง 30% และด้านยาวลดลง 30% แล้วพื้นที่ใหม่จะเป็นอย่างไร

- 1) ลดลง 30%
- 2) ลดลง 51%
- 3) ลดลง 60%
- 4) ลดลง 86%

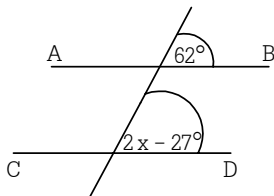
42.



จากรูป พื้นที่ผิวทั้งหมดมีค่ากี่ตารางหน่วย

- 1) 144 ตารางหน่วย
- 2) 182 ตารางหน่วย
- 3) 274 ตารางหน่วย
- 4) 310 ตารางหน่วย

43.

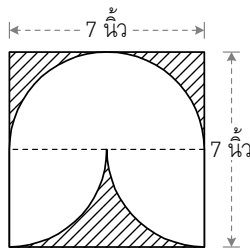


จากรูป  $\overline{AB} \parallel \overline{CD}$  แล้ว  $x - 1$  มีค่าเท่าใด

- 1) 41.5 องศา
- 2) 42.5 องศา
- 3) 43.5 องศา
- 4) 44.5 องศา



44.



บริเวณที่แรเงามีพื้นที่กี่ตารางนิ้ว

- 1) 10.50 ตารางนิ้ว
- 2) 11.50 ตารางนิ้ว
- 3) 19.25 ตารางนิ้ว
- 4) 38.50 ตารางนิ้ว

45. อ่างเก็บน้ำรูปทรงสี่เหลี่ยมมุมฉากกว้าง 30 เซนติเมตร ยาว 40 เซนติเมตร มีน้ำในอ่างสูง 10 เซนติเมตร เมื่อโยนก้อนหินที่มีปริมาตร 24,000 ลูกบาศก์เซนติเมตร ลงไปในอ่าง ทำให้น้ำเต็มอ่างพอดี อยากทราบว่าอ่างเก็บน้ำนี้ลึกกี่เซนติเมตร

- 1) 40 เซนติเมตร
- 2) 30 เซนติเมตร
- 3) 20 เซนติเมตร
- 4) 10 เซนติเมตร

46. สนามรูปสี่เหลี่ยมผืนผ้ากว้าง 20 เมตร ยาว 30 เมตร ต้องการทำทางเท้าโดยรอบสนามกว้าง 1 เมตร อยากทราบว่าทางเท้ามีพื้นที่กี่ตารางเมตร

- 1) 49 ตารางเมตร
- 2) 96 ตารางเมตร
- 3) 100 ตารางเมตร
- 4) 504 ตารางเมตร

47. ข้อใดมีพื้นที่มากที่สุด

- 1) รูปวงกลมที่มีเส้นรอบวงยาว 88 เมตร
- 2) รูปสามเหลี่ยมที่มีฐานยาว 50 เมตร สูง 25 เมตร
- 3) รูปสี่เหลี่ยมด้านขนานที่มีฐานยาว 30 เมตร สูง 20 เมตร
- 4) รูปสี่เหลี่ยมขนมเปียกปูนที่มีเส้นทแยงมุมยาว 35 เมตร และ 36 เมตร

48. ดินน้ำมันก้อนหนึ่งมีขนาด  $6 \times 9 \times 10$  เซนติเมตร นำมาปั้นเป็นรูปทรงสี่เหลี่ยมลูกบาศก์ลูกเล็กๆ ขนาดเท่าๆ กัน ได้ 20 ลูก ลูกบาศก์แต่ละลูกมีความยาวด้านละกี่เซนติเมตร

- 1) 3 เซนติเมตร
- 2) 9 เซนติเมตร
- 3) 18 เซนติเมตร
- 4) 27 เซนติเมตร

49. ในการเขียนแผนภูมิวงกลมแสดงรายจ่ายประจำเดือนของหนูๆ ซึ่งมีรายได้เดือนละ 20,000 บาท ถ้าค่าอาหารและค่าเสื้อผ้ารวมกันคิดเป็น  $\frac{3}{5}$  ของรายได้ทั้งหมด แล้วมุมที่จุดศูนย์กลางของค่าอาหารและค่าเสื้อผ้ารวมกันเป็นเท่าใด

- 1)  $36^\circ$
- 2)  $72^\circ$
- 3)  $186^\circ$
- 4)  $216^\circ$

50. ในการเขียนแผนภูมิรูปภาพ ถ้าใช้รายนต์ 1 คัน แทนจำนวนรายนต์ 10,000 คัน ถ้าต้องการเขียนแผนภูมิแสดงจำนวนรายนต์  $3.5 \times 10^5$  จะต้องเขียนรูปรายนต์กี่คัน

- 1) 0.35 คัน
- 2) 3.5 คัน
- 3) 35 คัน
- 4) 350 คัน





ข้อสอบเสริมประสบการณ์เพื่อวัดความรู้ระดับประถมศึกษา  
**คลังโจทย์ ชั้น ป.5**  
**วิชา ภาษาไทย (ชุดที่ 1)**

ชื่อ-นามสกุล..... เลขที่นั่งสอบ.....

สถานที่สอบ..... ห้องสอบ.....

### คำอธิบาย

1. ข้อสอบชุดนี้ มีจำนวน 50 ข้อ คะแนนเต็ม 100 คะแนน ให้เวลาทำ 40 นาที
2. ในการทำข้อสอบ ให้เลือกคำตอบที่ถูกต้องหรือเหมาะสมที่สุด เพียงคำตอบเดียว กรณีข้อใดไม่มีตัวเลือกที่ถูกต้องให้ตอบตัวเลือกที่ 5) แทน
3. นักเรียนจะต้องพยายามทำข้อสอบและจับเวลาเหมือนกับการสอบแข่งขันจริง ห้ามใช้เวลาสอบเกินที่กำหนดและห้ามเปิดตำราดู หรือนำอุปกรณ์ช่วยในการคิดคำนวณมาใช้เด็ดขาด ทั้งนี้เพื่อประโยชน์ในการทดสอบวัดความรู้ของตัวนักเรียนเอง (อาจให้ผู้ปกครองช่วยควบคุมการสอบ หรืออาจใช้นาฬิกาปลุกตั้งเวลาก็ได้) เมื่อหมดเวลาสอบ ให้ตรวจคะแนนจากส่วนเฉลย เรื่องใดทำไม่ได้หรือทำผิดให้กลับไปอ่านหนังสือทบทวนใหม่
4. การประเมินผล นักเรียนสามารถนำ “คะแนนสอบที่ทำได้” ไปเปรียบเทียบกับ ตารางสรุปค่าสถิติในวิชานี้ของนักเรียนทั่วประเทศ (หลังปกข้อสอบนี้) ก็จะให้เห็นระดับความสามารถของตนเองได้อย่างชัดเจน

ข้อสอบชุดนี้จัดทำขึ้นโดยรวบรวม-ปรับปรุงมาจาก “ข้อสอบ PRE-ประถมศึกษา 5 ปีล่าสุด” ของบัณฑิตแนะแนว ซึ่งเคยผ่านการใช้ทดสอบนักเรียนทั่วประเทศกว่า 50,000 คน มาแล้ว จึงเหมาะที่จะใช้ทบทวนความรู้และวัดผลตนเอง เพื่อพัฒนาความเป็นเลิศในแต่ละวิชาและเตรียมสอบแข่งขันในทุกสนาม

## ตารางสรุปค่าสถิติวิชานี้ของนักเรียนทั่วประเทศ

ที่เคยเข้าสอบ PRE-ประถมศึกษา ในวิชาภาษาไทย (ชุดที่ 1)

เมื่อสอบเสร็จให้นำ “คะแนนที่ทำได้” มาเปรียบเทียบกับวัดความสามารถกับ “ค่าสถิติ” นี้ได้เลย

ภาค	สูงสุด (MAXIMUM)	ฐานนิยม (MODE)	มัธยฐาน (MEDIAN)	ค่าเฉลี่ย (MEAN)
กทม.	90.00	50.00	50.00	49.74
เหนือ	96.00	52.00	52.00	52.12
ใต้	92.00	50.00	50.00	50.94
อีสาน	88.00	58.00	54.00	52.43
ตะวันออก	94.00	52.00	52.00	51.76
กลาง-ตะวันตก	92.00	52.00	52.00	52.16
<b>รวมทั้งประเทศ</b>	<b>96.00%</b>	<b>52.00%</b>	<b>52.00%</b>	<b>51.53%</b>

ช่วงคะแนน (%)	จำนวนนักเรียน (%) ที่ทำคะแนนสอบวิชานี้ได้ในแต่ละช่วงของแต่ละภาค						
	กทม.	เหนือ	ใต้	อีสาน	ตะวันออก	กลาง	ทั้งประเทศ
0-10	0.00	0.09	0.04	0.00	0.00	0.03	0.03
>10-20	2.43	1.98	2.02	2.16	2.66	1.78	2.11
>20-30	10.74	8.51	10.27	9.25	11.13	9.11	9.71
>30-40	18.70	17.86	17.41	15.30	16.45	16.36	17.01
>40-50	21.39	19.47	20.65	18.67	17.90	19.74	19.80
>50-60	19.78	21.21	20.06	21.30	19.03	20.80	20.48
>60-70	17.26	16.01	17.74	19.66	16.77	18.28	17.75
>70-80	8.31	10.68	9.38	10.76	11.94	11.34	10.31
>80-90	1.39	3.96	2.36	2.90	3.55	2.53	2.69
>90-100	0.00	0.23	0.07	0.00	0.57	0.03	0.11
<b>รวม</b>	<b>100%</b>	<b>100%</b>	<b>100%</b>	<b>100%</b>	<b>100%</b>	<b>100%</b>	<b>100%</b>

คู่มืออธิบาย “วิธีใช้ตารางสรุปค่าสถิติของนักเรียนทั่วประเทศ” ได้ที่หน้าสุดท้ายของเล่ม



# กระดาษคำตอบ

วิชา.....

# ผลการสอบ

ทำได้ \_\_\_\_\_ คะแนน

- |    |   |   |   |   |   |    |   |   |   |   |   |     |   |   |   |   |   |     |   |   |   |   |   |
|----|---|---|---|---|---|----|---|---|---|---|---|-----|---|---|---|---|---|-----|---|---|---|---|---|
| 1  | ① | ② | ③ | ④ | ⑤ | 41 | ① | ② | ③ | ④ | ⑤ | 81  | ① | ② | ③ | ④ | ⑤ | 121 | ① | ② | ③ | ④ | ⑤ |
| 2  | ① | ② | ③ | ④ | ⑤ | 42 | ① | ② | ③ | ④ | ⑤ | 82  | ① | ② | ③ | ④ | ⑤ | 122 | ① | ② | ③ | ④ | ⑤ |
| 3  | ① | ② | ③ | ④ | ⑤ | 43 | ① | ② | ③ | ④ | ⑤ | 83  | ① | ② | ③ | ④ | ⑤ | 123 | ① | ② | ③ | ④ | ⑤ |
| 4  | ① | ② | ③ | ④ | ⑤ | 44 | ① | ② | ③ | ④ | ⑤ | 84  | ① | ② | ③ | ④ | ⑤ | 124 | ① | ② | ③ | ④ | ⑤ |
| 5  | ① | ② | ③ | ④ | ⑤ | 45 | ① | ② | ③ | ④ | ⑤ | 85  | ① | ② | ③ | ④ | ⑤ | 125 | ① | ② | ③ | ④ | ⑤ |
| 6  | ① | ② | ③ | ④ | ⑤ | 46 | ① | ② | ③ | ④ | ⑤ | 86  | ① | ② | ③ | ④ | ⑤ | 126 | ① | ② | ③ | ④ | ⑤ |
| 7  | ① | ② | ③ | ④ | ⑤ | 47 | ① | ② | ③ | ④ | ⑤ | 87  | ① | ② | ③ | ④ | ⑤ | 127 | ① | ② | ③ | ④ | ⑤ |
| 8  | ① | ② | ③ | ④ | ⑤ | 48 | ① | ② | ③ | ④ | ⑤ | 88  | ① | ② | ③ | ④ | ⑤ | 128 | ① | ② | ③ | ④ | ⑤ |
| 9  | ① | ② | ③ | ④ | ⑤ | 49 | ① | ② | ③ | ④ | ⑤ | 89  | ① | ② | ③ | ④ | ⑤ | 129 | ① | ② | ③ | ④ | ⑤ |
| 10 | ① | ② | ③ | ④ | ⑤ | 50 | ① | ② | ③ | ④ | ⑤ | 90  | ① | ② | ③ | ④ | ⑤ | 130 | ① | ② | ③ | ④ | ⑤ |
| 11 | ① | ② | ③ | ④ | ⑤ | 51 | ① | ② | ③ | ④ | ⑤ | 91  | ① | ② | ③ | ④ | ⑤ | 131 | ① | ② | ③ | ④ | ⑤ |
| 12 | ① | ② | ③ | ④ | ⑤ | 52 | ① | ② | ③ | ④ | ⑤ | 92  | ① | ② | ③ | ④ | ⑤ | 132 | ① | ② | ③ | ④ | ⑤ |
| 13 | ① | ② | ③ | ④ | ⑤ | 53 | ① | ② | ③ | ④ | ⑤ | 93  | ① | ② | ③ | ④ | ⑤ | 133 | ① | ② | ③ | ④ | ⑤ |
| 14 | ① | ② | ③ | ④ | ⑤ | 54 | ① | ② | ③ | ④ | ⑤ | 94  | ① | ② | ③ | ④ | ⑤ | 134 | ① | ② | ③ | ④ | ⑤ |
| 15 | ① | ② | ③ | ④ | ⑤ | 55 | ① | ② | ③ | ④ | ⑤ | 95  | ① | ② | ③ | ④ | ⑤ | 135 | ① | ② | ③ | ④ | ⑤ |
| 16 | ① | ② | ③ | ④ | ⑤ | 56 | ① | ② | ③ | ④ | ⑤ | 96  | ① | ② | ③ | ④ | ⑤ | 136 | ① | ② | ③ | ④ | ⑤ |
| 17 | ① | ② | ③ | ④ | ⑤ | 57 | ① | ② | ③ | ④ | ⑤ | 97  | ① | ② | ③ | ④ | ⑤ | 137 | ① | ② | ③ | ④ | ⑤ |
| 18 | ① | ② | ③ | ④ | ⑤ | 58 | ① | ② | ③ | ④ | ⑤ | 98  | ① | ② | ③ | ④ | ⑤ | 138 | ① | ② | ③ | ④ | ⑤ |
| 19 | ① | ② | ③ | ④ | ⑤ | 59 | ① | ② | ③ | ④ | ⑤ | 99  | ① | ② | ③ | ④ | ⑤ | 139 | ① | ② | ③ | ④ | ⑤ |
| 20 | ① | ② | ③ | ④ | ⑤ | 60 | ① | ② | ③ | ④ | ⑤ | 100 | ① | ② | ③ | ④ | ⑤ | 140 | ① | ② | ③ | ④ | ⑤ |
| 21 | ① | ② | ③ | ④ | ⑤ | 61 | ① | ② | ③ | ④ | ⑤ | 101 | ① | ② | ③ | ④ | ⑤ | 141 | ① | ② | ③ | ④ | ⑤ |
| 22 | ① | ② | ③ | ④ | ⑤ | 62 | ① | ② | ③ | ④ | ⑤ | 102 | ① | ② | ③ | ④ | ⑤ | 142 | ① | ② | ③ | ④ | ⑤ |
| 23 | ① | ② | ③ | ④ | ⑤ | 63 | ① | ② | ③ | ④ | ⑤ | 103 | ① | ② | ③ | ④ | ⑤ | 143 | ① | ② | ③ | ④ | ⑤ |
| 24 | ① | ② | ③ | ④ | ⑤ | 64 | ① | ② | ③ | ④ | ⑤ | 104 | ① | ② | ③ | ④ | ⑤ | 144 | ① | ② | ③ | ④ | ⑤ |
| 25 | ① | ② | ③ | ④ | ⑤ | 65 | ① | ② | ③ | ④ | ⑤ | 105 | ① | ② | ③ | ④ | ⑤ | 145 | ① | ② | ③ | ④ | ⑤ |
| 26 | ① | ② | ③ | ④ | ⑤ | 66 | ① | ② | ③ | ④ | ⑤ | 106 | ① | ② | ③ | ④ | ⑤ | 146 | ① | ② | ③ | ④ | ⑤ |
| 27 | ① | ② | ③ | ④ | ⑤ | 67 | ① | ② | ③ | ④ | ⑤ | 107 | ① | ② | ③ | ④ | ⑤ | 147 | ① | ② | ③ | ④ | ⑤ |
| 28 | ① | ② | ③ | ④ | ⑤ | 68 | ① | ② | ③ | ④ | ⑤ | 108 | ① | ② | ③ | ④ | ⑤ | 148 | ① | ② | ③ | ④ | ⑤ |
| 29 | ① | ② | ③ | ④ | ⑤ | 69 | ① | ② | ③ | ④ | ⑤ | 109 | ① | ② | ③ | ④ | ⑤ | 149 | ① | ② | ③ | ④ | ⑤ |
| 30 | ① | ② | ③ | ④ | ⑤ | 70 | ① | ② | ③ | ④ | ⑤ | 110 | ① | ② | ③ | ④ | ⑤ | 150 | ① | ② | ③ | ④ | ⑤ |
| 31 | ① | ② | ③ | ④ | ⑤ | 71 | ① | ② | ③ | ④ | ⑤ | 111 | ① | ② | ③ | ④ | ⑤ | 151 | ① | ② | ③ | ④ | ⑤ |
| 32 | ① | ② | ③ | ④ | ⑤ | 72 | ① | ② | ③ | ④ | ⑤ | 112 | ① | ② | ③ | ④ | ⑤ | 152 | ① | ② | ③ | ④ | ⑤ |
| 33 | ① | ② | ③ | ④ | ⑤ | 73 | ① | ② | ③ | ④ | ⑤ | 113 | ① | ② | ③ | ④ | ⑤ | 153 | ① | ② | ③ | ④ | ⑤ |
| 34 | ① | ② | ③ | ④ | ⑤ | 74 | ① | ② | ③ | ④ | ⑤ | 114 | ① | ② | ③ | ④ | ⑤ | 154 | ① | ② | ③ | ④ | ⑤ |
| 35 | ① | ② | ③ | ④ | ⑤ | 75 | ① | ② | ③ | ④ | ⑤ | 115 | ① | ② | ③ | ④ | ⑤ | 155 | ① | ② | ③ | ④ | ⑤ |
| 36 | ① | ② | ③ | ④ | ⑤ | 76 | ① | ② | ③ | ④ | ⑤ | 116 | ① | ② | ③ | ④ | ⑤ | 156 | ① | ② | ③ | ④ | ⑤ |
| 37 | ① | ② | ③ | ④ | ⑤ | 77 | ① | ② | ③ | ④ | ⑤ | 117 | ① | ② | ③ | ④ | ⑤ | 157 | ① | ② | ③ | ④ | ⑤ |
| 38 | ① | ② | ③ | ④ | ⑤ | 78 | ① | ② | ③ | ④ | ⑤ | 118 | ① | ② | ③ | ④ | ⑤ | 158 | ① | ② | ③ | ④ | ⑤ |
| 39 | ① | ② | ③ | ④ | ⑤ | 79 | ① | ② | ③ | ④ | ⑤ | 119 | ① | ② | ③ | ④ | ⑤ | 159 | ① | ② | ③ | ④ | ⑤ |
| 40 | ① | ② | ③ | ④ | ⑤ | 80 | ① | ② | ③ | ④ | ⑤ | 120 | ① | ② | ③ | ④ | ⑤ | 160 | ① | ② | ③ | ④ | ⑤ |





1. ข้อใดอ่าน**ต่างจาก**ข้ออื่น
  - 1) สมอง ตลาด จรวด
  - 2) ฉลาก ขนม ถลุ่ม
  - 3) ตรีกตรอง เพลิตเพลิน ปรวดเปรี๊ยว
  - 4) สยาย สบาย สงบ
2. คำในข้อใดมีเสียงคู่กัน
  - 1) ฉลาม - ถลอก
  - 2) ซากพืช - ผันหวาน
  - 3) ศิลป์ - หิน
  - 4) ผาแฝด - ฟุ่มเฟือย
3. ข้อใดมีเสียงวรรณยุกต์**ต่างกัน**
  - 1) ไทยจีน
  - 2) กวางเจา
  - 3) ช่วงช่วง
  - 4) หลินฮุ่ย
4. ควรเติมคำใดลงในช่องว่างของประโยค “ฉันชอบดู ..... สิงโต .....”
  - 1) คอนเสิร์ต / เดอะสตาร์
  - 2) คอนเสิร์ต / เดอะสตาร์
  - 3) คอร์นเสิร์ต / เดอะสตาร์
  - 4) คอนเสิร์ต / เดอะสตาร์
5. ข้อใดใช้**ไม้ยมกไม่ถูกต้อง**
  - 1) เธอควรพูดภาษาไทยให้ชัดๆ ฉันจะได้เข้าใจง่าย
  - 2) แม่ซื้อที่ๆ เขิงเขาเพื่อสร้างบ้านพักตากอากาศ
  - 3) ร้านเสื้อสุวิวิามีเสื้อผ้าต่างๆ นานา
  - 4) กรุณาวางหนังสือให้เป็นตั้งและเป็นทีๆ
6. “นายอำเภอเป็นคนดี ตระกูลดี ครอบครัวประกอบอาชีพ**สุจริตไม่โกงกิน**” ข้อความที่ขีดเส้นใต้ตรงกับสำนวนใด
  - 1) มือใหม่
  - 2) มือไม่ถึง
  - 3) มืออาชีพ
  - 4) มือสะอาด
7. “โถ! **ไม่ทำบุญน้อยเลย**” คำที่ขีดเส้นใต้มีความหมายตรงกับข้อใด
  - 1) ทำบุญไม่มาก
  - 2) ทำบุญปีละหน
  - 3) ทำบุญตั้งแต่ยังเล็ก
  - 4) เสียชีวิตตั้งแต่อายุน้อย
8. ข้อความใดเป็นประโยคแสดงการเปรียบเทียบ
  - 1) ฉันหนาวแต่เขาร้อน
  - 2) แม่เขาจะร่ำรวยแต่ก็ไร้สุข
  - 3) ใบหน้าของเธอซีดขาวราวกับกระดาษ
  - 4) พ่อเขาอาบน้ำเสร็จก็ไปนั่งดูข่าว
9. ข้อความใด**ต่างจาก**ข้ออื่น
  - 1) “โลตัสมหาชัย มุ่งมั่นพัฒนาสู่งาน บริการลูกค้าระดับโลก”
  - 2) “อาหารทะเลสดๆ หมดกังวลเรื่องราคา ต้องครัวสว่างซีฟู้ด”
  - 3) “ห้องพักสะอาด ปลอดภัย ราคาเป็นกันเอง ที่ธนโซติเพลส”
  - 4) “รับคนงานชายอายุ 18 ปีขึ้นไป ขับรถมอเตอร์ไซด์ได้ ส้มครต่วน”
10. ข้อใดสื่อความ**ไม่ชัดเจน**
  - 1) ฟรุ้งนี้หัวหน้าเรียกประชุมตอนบ่ายๆ
  - 2) พ่อชอบฟังรายการสนทนาธรรมหลังรุ่งอรุณคนข่าว
  - 3) เมื่อวานนี้ลุงปุ่นแวะมาหาയാตอนกินข้าวกลางวัน
  - 4) สมศรีมาท่องเที่ยวชานกับครูประจำชั้นก่อนเข้าแถวเคารพธงชาติ



11. “ธนาคารโลกอนุมัติเงินกู้ให้ไทยจำนวนสองหมื่นล้านบาท .....” ควรเติมข้อความใดในช่องว่างจึงจะสอดคล้องกับเนื้อความข้างต้น
- 1) ในการช่วยเหลือชาวสวนยางพารา
  - 2) ให้มีรายได้ต่อครอบครัวเพิ่มมากขึ้น
  - 3) และยังเป็นความช่วยเหลือให้ไทยส่งออกข้าวได้ดีอีกด้วย
  - 4) เพื่อนำมาใช้ฟื้นฟูสภาพเศรษฐกิจและพัฒนาประเทศ
12. ข้อใดเป็นการพูดเพื่อเสริมกำลังใจ
- 1) โต้แต่ตัวทำอะไรก็ได้ซักอย่าง
  - 2) อย่าพยายามเลยเธอทำไม่ได้หรอก
  - 3) ทบทวนอีกนิดผลที่ตามมาจะดีเอง
  - 4) ป่วยการเปล่าความสามารถไม่เข้าขั้นเลย
13. คำว่า “กัด” ในข้อใดหมายถึงทำให้กร่อน
- 1) ปูนกัดปาก
  - 2) น้ำกัดเท้า
  - 3) สนิมกัดเหล็ก
  - 4) กัดหางตัวเอง
14. ข้อใดให้ความหมายชัดเจนที่สุด
- 1) ทางโค้งขับซ้าๆ อันตราย
  - 2) คนงานหาบน้ำแข็งแรงดี
  - 3) ห้ามผู้หญิงสวมกางเกงใน ที่ทำงาน
  - 4) ห้ามรถจักรยานวิ่งบนทางด่วน
15. กลุ่มคำที่ขีดเส้นใต้ข้อใดไม่จัดเป็นสำนวน
- 1) ย่ำตามใจหลานจนเสียดคน
  - 2) ผมติดใจرمىของคุณมากนะ
  - 3) ไม่ต้องแจงสี่เบี้ยหรอกไม่อยากฟัง
  - 4) เรือนนอนหลังยาวนั้นเก่าแก่มาก
16. ข้อใดมีความหมายต่างแนว
- 1) ปากเบา
  - 2) ปากคั้น
  - 3) ปากบอน
  - 4) ปากดำแย
17. ลักษณะนามข้อใดต่างไปจากคำอื่นๆ
- 1) ซื่อผ้าตัดเสื้อยกพับ
  - 2) ซื่อผ้าถุงยกเป็นกู่ลี
  - 3) หรือไมก็ซื่อผ้ายกโหล
  - 4) นำมาตัดเสื้อเป็นตัว
18. ข้อใดไม่ใช่พืชที่ใช้ชูรส
- 1) ผักบุ้ง
  - 2) มะขาม
  - 3) พริก
  - 4) ชিং
19. คำในข้อใดอ่านไม่ถูกต้อง
- 1) สมรรถนะ อ่านว่า สะ-หมัด-ละ-นะ
  - 2) สมานฉันท์ อ่านว่า สะ-มา-นะ-ฉัน
  - 3) สมานไมตรี อ่านว่า สะ-หมาน-ไม-ตรี
  - 4) สมรรถภาพ อ่านว่า สะ-มัด-ละ-พาบ
20. คำอ่านในข้อใดไม่ใช่คำ ร หัน
- 1) พัน-ระ-ดึก
  - 2) บัน-ลัด
  - 3) บัน-พะ-กาน
  - 4) บัน-เดาะ
21. คำคู่ใดต่างจากกลุ่ม
- 1) ทันต์, ทันท์
  - 2) เคี้ยว, เขี้ยว
  - 3) เสมา, ปรัก
  - 4) กัณฑ์, กันต์



22. ข้อใดใช้คำลักษณนาม**ไม่ถูกต้อง**
- 1) ตลอดฤดูกาลเข้าพรรษาวัดต่างๆ มักจุดเทียนแห่งใหญ่ในโบสถ์
  - 2) เต็นท์หลายหลังจัดแสดงนิทรรศการวิชาการเต็มไปหมดทั้งสนาม
  - 3) ชาวเวียดนามพากันขึ้นบันไดเลื่อนหลายตัวในห้างสรรพสินค้า
  - 4) ไนต์คลับหลายแห่งถูกสั่งปิดเพราะตำรวจสืบทราบว่ามียาเสพติดจำหน่าย
23. **“คุณแม่ขา เราเก็บโทรศัพท์มือถือได้ โทรไป ส.ว.พ. 91 กันเถอะค่ะ เราจะได้ประกาศหาเจ้าของ”** ข้อความนี้เกี่ยวข้องกับคุณธรรมใดมากที่สุด
- 1) ความซื่อสัตย์
  - 2) ความกตัญญู
  - 3) ความมีวินัย
  - 4) ความรับผิดชอบ
24. ข้อใด**ไม่ใช่**ของหวาน
- 1) ขนมหม้อแกง
  - 2) ขนมผักกาด
  - 3) ขนมขี้หนู
  - 4) ขนมปลากريمไข่เต่า
25. ประโยคใด**ไม่ถูกต้อง**
- 1) เขาเป็นใช้หวัดใหญ่สายพันธุ์ใหม่
  - 2) เขาร้องไห้เมื่อหมอเจาะเลือดและฉีดยา
  - 3) แม่พาเขากลับบ้านไปรักษาอาการป่วย
  - 4) เขาเปล่าทำการบ้านโดยไม่ได้ไปโรงเรียน
26. คำควบกล้ำในข้อใด**แตกต่าง**จากข้ออื่น
- 1) คลุกเคล้า
  - 2) เสร้าสร้อย
  - 3) ปลดปล่อย
  - 4) ปลูกปลูก
27. ข้อใดอ่าน**ต่าง**จากข้ออื่น
- 1) สลาย
  - 2) ผสม
  - 3) โปยม
  - 4) สบาย
28. ข้อความใดสอดคล้องกับการสร้างนิสัยให้เป็นคนมีระเบียบ
- 1) อดทน อดกลั้น อดออม
  - 2) หยิบง่าย หยาก็รู้ ดูก็งามตา
  - 3) ชยัน ประหยัด สร้างสมบัติให้มี
  - 4) ใฝ่รู้ ใฝ่เรียน เพียรศึกษา
29. คำในข้อใดเมื่อเรียงสลับที่กันแล้วความหมายยังคงเดิม
- 1) พัดลม ข้าวเปลือก
  - 2) นบนอบ ฟ้อนรำ
  - 3) น้ำตก นอกบ้าน
  - 4) หายใจ เสียใจ
30. สำนวนเปรียบเทียบข้อใด**ไม่ถูกต้อง**
- 1) อ่อนเป็นขี้ผึ้ง
  - 2) ลั่นเป็นเจ้าเข้า
  - 3) ไวเหมือนนลิง
  - 4) เบาเหมือนหนู่น
31. ข้อใดอ่านออกเสียง**ต่าง**จากข้ออื่น
- 1) ปัจฉิมวัย
  - 2) ปัจฉิมยาม
  - 3) ปัจฉิมลิขิต
  - 4) ปัจฉิมวาจา
32. ข้อใด**ไม่มี**คำควบแก้วยู่ในประโยค
- 1) พวกเขาควรเคร่งครัดในการส่งการบ้าน
  - 2) พรุ่งนี้เป็นวันไหว้ครูประจำปีของโรงเรียน
  - 3) โปรดปิดไฟทุกครั้งเมื่อออกจากห้องเรียน
  - 4) ชาวบ้านในจังหวัดฉะเชิงเทราป่วยเป็นโรคซึมเศร้ากันมาก
33. คำที่ขีดเส้นใต้ในข้อใดใช้**ไม่ถูกต้อง**
- 1) เด็กๆ หิวข้าวจน**ตาลาย**
  - 2) เขาโกรธจน**หน้าซีด**
  - 3) เฮียเม้งเป็นเจ้าหนี้**หน้าเลือด**
  - 4) พอสมัครเห็นเงินก็**ทำตาโต**



## คลังโจทย์ ชั้น ป.5 (เล่ม 2)

19

34. คำใดมีตัวสะกดต่างจากข้ออื่น  
 1) ครุฑ ก๊าซ                      2) บาตร กฎ                      3) โอบอู่ โปสถ์                      4) เพียร ขวัญ
35. สำนวนใดมีความหมายว่า “ยากที่จะทำให้อยู่นิ่งได้”  
 1) จับปลาสองมือ                      2) จับเสือมือเปล่า                      3) จับปูใส่กระด้ง                      4) จับแพะชนแกะ
36. “ยายแก่ เงินอยู่ไหน บอกมาเดี๋ยวนี้ ถ้าไม่ยกตาย” ข้อใดแสดงเจตนาของผู้พูด  
 1) คำสั่ง                      2) ขอร้อง                      3) ชมชู้                      4) ตักเตือน
37. การปฏิบัติตนในข้อใดถือเป็นการปฏิบัติตามคำสอนของพระพุทธองค์  
 1) น้อยสวดมนต์ไหว้พระ                      2) นุชใส่บาตรทุกวัน  
 3) หมั่นทำความเคารพคุณครู                      4) โน่งทำใจให้บริสุทธิ์ทำดีละเว้นชั่ว
38. ข้อใดเทียบคำตรงข้ามถูกต้อง  
 1) ไพร่ - นาย                      2) หยาบ - ช้ำ                      3) เค็ม - ขม                      4) เสื่อม - ท่าง
39. ข้อใดใช้ลักษณนามเหมือนกันทุกคำ  
 1) หมอน อ่าง หอก                      2) อุทยาน สวนสัตว์ สวิตช์  
 3) สัปดาห์ ทักษิณ ฉัตร                      4) เข็ม ครก แคน
40. “คิด” ในข้อใดหมายถึง เลือก  
 1) แม่คัดแดงโมลูกใหญ่ๆ                      2) ลูกสาวฉันเป็นหวัดคัดจมูก  
 3) ชาวบ้านคัดค้านการสร้างเขื่อน                      4) ชมรมภาษาไทยจัดประกวดคัดลายมือ
41. คำใดสะกดผิด  
 1) ชัณทศกร                      2) มัคคุเทศน์                      3) มังสวิวัติ                      4) เขม็ดแซม
42. คำใดมาเป็นลำดับที่ 1 ในพจนานุกรม  
 1) มัจฉา                      2) มิตร                      3) มุจลินท์                      4) มหัจฉริยะ
43. จากข้อความต่อไปนี้ตีความได้อย่างไร  
 “ผลประโยชน์อยู่ที่ไหนก็อยู่นั้น  
 ทำงานกันเพื่อตัวมักมัวหมอง  
 ไม่คำนึงถูกหรือผิดคิดหมายปอง  
 คีลไม่มองธรรมไม่ม่นรุมกันกิน”  
 (พระธรรมรัตนกร)
- 1) คนทำบาปมากขึ้นทุกวัน                      2) การทำดีถือเป็นเรื่องไม่ควรมองข้าม  
 3) สังคมมีภัยเพราะคนเห็นแก่ตัว                      4) การทำงานต้องหวังสิ่งตอบแทน
44. ประโยคใดไม่มีภาษาพูดอยู่ในประโยค  
 1) แกทำอย่างนี้น่าเตะชะมัด                      2) ดาราคนนั้นแต่งกายได้เนี้ยบจริงๆ  
 3) โทรศัพท์มือถือถือรุ่นนี้จับจริงๆ                      4) หน้าหนาวมีดอกไม้ไม่มากมาย

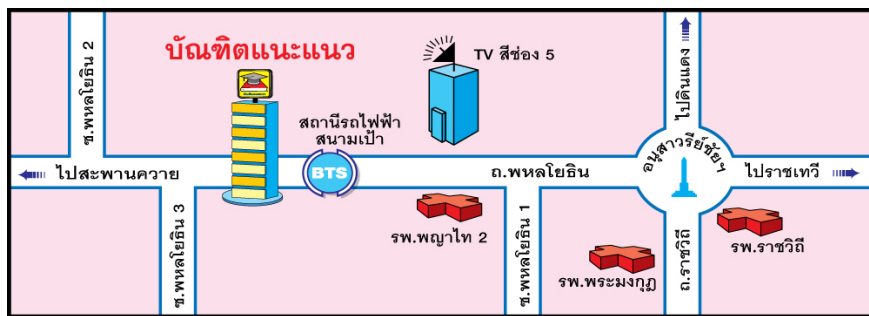


45. ข้อความใดใช้คำที่ขีดเส้นใต้ได้ถูกต้อง
- 1) ชายหญิงคู่นี้รักกันแน่นหนามาก
  - 2) เขาในวันนี้แน่นแฟ้นไปด้วยผู้คน
  - 3) กรุงเทพฯ มีประชากรหนาแน่นมาก
  - 4) บ้านนี้มีประตูหน้าต่างแน่นขนัดมาก
46. คำว่า “เขา” ในประโยคใดเป็นคำต่างชนิดกับข้ออื่น
- 1) เขากว้างใช้ทำยาได้
  - 2) นกเขาขันคูดอยู่บนคบไม้
  - 3) อันบอกว่าพรุ่งนี้เขาไม่อยู่
  - 4) คนไทยพวกหนึ่งชอบปลูกบ้านบนเขา
47. ข้อใดมีสัมผัสต่างจากข้ออื่น
- 1) ใครมีจิตจิตหนักมักหมองหมาง
  - 2) ไม่เหมือนแม่น้พจนานที่หวานหอม
  - 3) ปากกัดกันต่ออย่าไม่ถอยหนี
  - 4) ธรรมชาติช่างจัดไว้แยบคาย
48. ประโยคใดมีใจความเป็นลักษณะบังคับมากที่สุด
- 1) กรุณาดำเนินการต่อไป
  - 2) จึงเรียนมาเพื่อทราบ
  - 3) จึงเรียนมาเพื่อขอความอนุเคราะห์
  - 4) โปรดมายื่นใบสมัครด้วยตนเอง
49. ประโยคใดใช้คำไม่ตรงความหมาย
- 1) เราควรสวมเสื้อผ้าที่เหมาะสมแก่รูปร่างและฤดูกาล
  - 2) เมื่อถึงวันหยุดผมชอบพาครอบครัวที่รถยนต์ไปต่างจังหวัด
  - 3) ประชาชนต่อแถวยาวเหยียดเพื่อรอชมแพนด้าน้อย
  - 4) ผ้าชิ้นนี้เนื้อหยาบไม่เหมาะจะเอามาเช็ดหน้า
50. “อย่าเห็นาทกเลอะเทอะ” ประโยคใดมีเจตนาในการสื่อสารเหมือนข้อความข้างต้น
- 1) รับประทานมากไปก็ไม่ได้
  - 2) ห้ามนำสัตว์เลี้ยงเข้ามาในอาคาร
  - 3) กลางวันนั้นเธอจะทานข้าวกับอะไรจะ
  - 4) โปรดงดสูบบุหรี่ในห้องนี้



# โปรดทราบ!

ตัวอย่างนี้จะโชว์เฉพาะหน้า 1-20 เท่านั้น  
หากจะขอดูหนังสือทั้งเล่ม ต้องติดต่อที่  
บัณฑิตแนะแนว (โทรศัพท์ 02-2794808)  
หรือ ที่ร้านจำหน่ายหนังสือชั้นนำทั่วประเทศ



สำนักงานบัณฑิตแนะแนว 1033/4 ถ.พหลโยธิน สามเสนใน พญาไท กทม. 10400

เวลาทำงาน 08.00-17.00 น. Website : [www.bunditnaenaew.com](http://www.bunditnaenaew.com)

ฝ่ายประชาสัมพันธ์ เปิดทุกวัน (จันทร์-อาทิตย์) โทรศัพท์ 02-2794808 แฟกซ์ 02-6171820




# ตรงตามหลักสูตรใหม่



กว่า 30 ปี ในวงการศึกษากับ 4 ผลงานคุณภาพที่สร้างสรรค์เพื่อเยาวชนไทย

**ชุด โจทย์ขั้นเทพ และ คลังโจทย์....**หนังสือชุดเดียวในประเทศไทย!! **ทีม "ตารางสรุปค่าสถิติของนักเรียนทั่วประเทศ"** สำหรับใช้เปรียบเทียบเพื่อประเมินความสามารถของตนเองในแต่ละวิชาได้อย่างชัดเจน จัดพิมพ์หลายเล่ม แยกตามระดับชั้น โจทย์ครอบคลุมและพลิกแพลงหลายรูปแบบ เพื่อความเป็นเลิศเหนือระดับ พักผ่อนเฉลยละเอียดเข้าใจง่าย เหมาะสำหรับใช้เตรียมสอบเพื่อวัดพื้นฐานความรู้, สอบคัดเลือกเข้าเรียนต่อ และสอบแข่งขันในทุกสนาม!



โจทย์ขั้นเทพ ประถม  
ราคา 199 บาท



โจทย์ขั้นเทพ ม.ต้น  
ราคา 299 บาท



คลังโจทย์ ประถม  
ราคา 199 บาท



คลังโจทย์ ม.ต้น  
ราคา 299 บาท

**ชุด TOP** เป็นหนังสือสรุปเนื้อหาสำคัญ ตามหลักสูตรในแต่ละวิชาของแต่ละระดับชั้นพร้อมแบบฝึกหัดท้ายบท เหมาะสำหรับนักเรียนใช้อ่านทบทวนความรู้ก่อนมีประสิทธิภาพ เพื่อผลการสอบที่ยอดเยี่ยม

**ชุด TEST** เป็นหนังสือโจทย์แบบฝึกหัดเรียงตามบทเรียนแต่ละเรื่องของวิชานั้นๆ เหมาะสำหรับนักเรียนใช้ฝึกทำเพื่อทบทวนและพัฒนาความรู้ด้วยตัวเอง เพราะจะมีโจทย์ ที่ออกครอบคลุมทุกเรื่องครบถ้วนและพลิกแพลง ตั้งแต่ง่ายไปหายาก พร้อมเฉลยอย่างละเอียด

หนังสือทั้งชุด **ชุด TOP** และ **ชุด TEST** จัดพิมพ์ด้วยกระดาษปอนด์ สีขาวอย่างดี โดยระดับประถมศึกษา แยกเป็น 6 ชั้น ๆ ละ 5 วิชา คือ คณิตศาสตร์, วิทยาศาสตร์, ภาษาอังกฤษ, ภาษาไทย และสังคมศึกษา ดังนี้



TOP ป.1-ป.3  
ราคา 69 บาท



TOP ป.4-ป.6  
ราคา 79 บาท



TEST ป.1-ป.3  
ราคา 69 บาท



TEST ป.4-ป.6  
ราคา 79 บาท

## ชุด เตรียมสอบ NT & ONET และ สอบขั้นต่อ

เพื่อเตรียมสอบ NT & O-NET และ สอบคัดเลือกเข้าเรียนต่อ มีหลายเล่ม



คัมภีร์สอบ O-NET ชั้น ป.6  
ราคา 159 บาท



คัมภีร์สอบ O-NET ชั้น ป.3  
ราคา 159 บาท



คัมภีร์สอบเข้า ม.1  
โรงเรียนเจ้าอาวาส  
ราคา 299 บาท



ชุดสอบเก่ง  
ชั้น ป.1 EP และ  
GIFTED  
ราคา 159 บาท

มีวางจำหน่ายที่ร้านหนังสือชั้นนำทั่วประเทศ หรือสั่งซื้อโดยตรงที่



**บัณฑิตแนะแนว**

กว่า 30 ปีแห่งประสบการณ์และความเชื่อมั่น

1033/4 ถนนพหลโยธิน สามเสนใน พญาไท กทม. 10400

โทรศัพท์ 02-2794808 และ 02-6195844 แฟกซ์ 02-6171820

### 1 ศูนย์จัดสอบทางวิชาการ



จัดสอบด้วยข้อสอบมาตรฐานพร้อมกันทั่วประเทศ โดยแบ่งการสอบออกเป็น 3 กลุ่มตามระดับการศึกษา คือ PRE-ประถมศึกษา (ป.3-ป.6), PRE-ม.ต้น (ม.1-ม.3) และ PRE-ADMISSIONS (ม.4-ม.6) เพื่อให้นักเรียนทราบระดับความสามารถทางวิชาการของตนเอง จนใช้เป็นแนวทางในการเลือกสถานศึกษาต่อและอาชีพได้อย่างเหมาะสม

### 2 ศูนย์ผลิตตำราและสำนักพิมพ์



ผลิตและจำหน่ายหนังสือคู่มือประกอบการเรียนตั้งแต่ประถม-อนุบาล ด้วยความโดดเด่นของเนื้อหาที่เข้าใจง่าย ตรงตามบทเรียนทั้งหมดต้น-ท่อมปลาย เพิ่มศักยภาพในการเรียนสำหรับทุกช่วงชั้น

### 3 ศูนย์กวดวิชาแนวใหม่



รูปแบบใหม่ของการกวดวิชาเปิดสอนตั้งแต่ระดับประถม-ม.ปลาย ดำเนินการสอนโดยทีมอาจารย์ชั้นนำของประเทศที่มีเทคนิคการถ่ายทอดความรู้ให้เข้าใจง่าย เน้นให้นักเรียนสนุกกับการเรียน พร้อมกระบวนการสอบ เพื่อวัดความรู้ตลอดหลักสูตรและมีเจ้าหน้าที่แนะนำคอยดูแลอย่างใกล้ชิด

### 4 ศูนย์บริการด้านแนะแนว



การริเริ่มและบุกเบิกงานแนะแนวที่เปิดให้บริการแก่โรงเรียน, ครู, ผู้ปกครอง และนักเรียนทั่วประเทศ กว่า 30 ปีที่ผ่านมาเป็นผลงานอีกด้านที่เราภูมิใจ ทั้งในเรื่องของการรวบรวมข้อมูล, ข่าวสาร และผลิตสื่อวัสดุต่างๆ ทางด้านแนะแนวออกเผยแพร่ รวมถึงการให้คำปรึกษาด้านแนะแนวฟรี

**คลังโจทย์ ป.5 (เล่ม 2)**

ISBN 978-616-504-080-8



9 786165 040808

ราคา 199 บาท